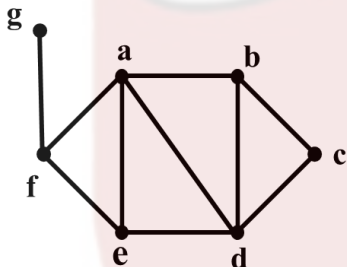


سؤالات امتحان نهایی درس: ریاضیات گسسته	ساعت شروع: ۸ صبح	نام و نام خانوادگی:	رشته: ریاضی فیزیک
پایه دوازدهم دوره دوم متوسطه	تعداد صفحه: ۲	تاریخ امتحان: ۱۴۰۲/۰۳/۲۱	مدت امتحان: ۱۲۰ دقیقه
دانش آموزان روزانه، بزرگسال و داوطلبان آزاد سراسر کشور در نوبت خرداد ماه سال ۱۴۰۲		مرکز ارزشیابی و تضمین کیفیت نظام آموزش و پرورش http://aee.medu.gov.ir	

ردیف	سؤالات پاسخ نامه دارد. (استفاده از ماشین حساب ساده، با چهار عمل اصلی، مجاز است.)	نمره
------	---	------

۱	درست یا نادرست بودن عبارات زیر را مشخص کنید. الف) حاصل ضرب هر عدد گویای ناصفر در یک عدد گنگ، عددی گنگ است. ب) حاصل $(3m+2, 3m+1)$ برابر ۱ می باشد. ج) تعداد رئوس فرد هر گراف، عددی فرد است. د) عدد احاطه‌گری P_1 برابر عدد ۳ است.	۱
۲	جاهای خالی را با عبارت مناسب پر کنید. الف) در یک گراف از مرتبه p ، اگر $\chi(G)=1$ باشد، در این صورت حداقل تعداد یالها برابر است. ب) در یک مربع لاتین چرخشی 4×4 مجموع درایه های روی قطر اصلی برابر است. ج) تعداد توابع یک به یک از یک مجموعه ۳ عضوی به یک مجموعه ۵ عضوی برابر است.	۱/۵
۳	اگر x, y و z سه عدد حقیقی باشند، ثابت کنید: $x^2 + y^2 + 1 \geq 2xy - z^2$	۰/۷۵
۴	اگر $a 2m+3$ و $a m+7$ در این صورت چند مقدار صحیح و نامنفی برای a وجود دارد؟	۱
۵	باقی مانده تقسیم a بر دو عدد ۴ و ۵ به ترتیب برابر ۳ و ۴ می باشد، باقی مانده تقسیم a بر ۲۰ را محاسبه کنید. (با راه حل)	۱/۵
۶	در معادله سیاله $15x + 19y = 7$ ، بزرگترین عدد ۲ رقمی طبیعی که می توان برای x در نظر گرفت چه مقداری می باشد؟ (با راه حل)	۱/۲۵
۷	به گراف ۸ رأسی ۳-منتظم چند یال اضافه کنیم تا تبدیل به گراف کامل شود؟ (با راه حل)	۱
۸	گراف G به صورت زیر رسم شده است. با توجه به این گراف به سوالات زیر پاسخ دهید. الف) مجموعه $N_G(g)$ را بنویسید. ب) یک دور به طول ۵ با شروع از رأس a بنویسید. ج) درجه رأس c در گراف \bar{G} (مکمل گراف G) را مشخص کنید.	۰/۷۵



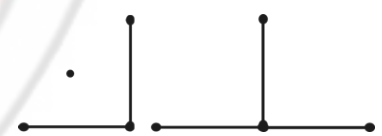
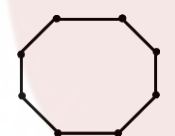
«بقیه سوالات در صفحه دوم»

سؤالات امتحان نهایی درس: ریاضیات گسسته	ساعت شروع: ۸ صبح	نام و نام خانوادگی:	رشته: ریاضی فیزیک
پایه دوازدهم دوره دوم متوسطه	تعداد صفحه: ۲	تاریخ امتحان: ۱۴۰۲/۰۳/۲۱	مدت امتحان: ۱۲۰ دقیقه
دانش آموزان روزانه، بزرگسال و داوطلبان آزاد سراسر کشور در نوبت خرداد ماه سال ۱۴۰۲		مرکز ارزشیابی و تضمین کیفیت نظام آموزش و پرورش http://aee.medu.gov.ir	

ردیف	سؤالات پاسخ نامه دارد. (استفاده از ماشین حساب ساده، با چهار عمل اصلی، مجاز است.)	نمره
------	---	------

۹	<p>گراف زیر را در نظر بگیرید.</p> <p>الف) یک مجموعه احاطه گر غیر مینیمال با ۴ عضو بنویسید.</p> <p>ب) یک مجموعه احاطه گر مینیمال با ۴ عضو بنویسید.</p> <p>ج) با اضافه کردن چه یالی به گراف، عدد احاطه گری گراف ۲ خواهد شد؟</p> 	۱/۵
۱۰	<p>الف) یک گراف ۸ رأسی (همبند یا ناهمبند) با عدد احاطه گری ۳ رسم کنید که <u>یک</u> مجموعه احاطه گر یکتا با اندازه ۳ داشته باشد.</p> <p>ب) یک گراف ۸ رأسی (همبند یا ناهمبند) با عدد احاطه گری ۳ رسم کنید که <u>بیش از یک</u> مجموعه احاطه گر با اندازه ۳ داشته باشد.</p>	۱
۱۱	<p>الف) عدد احاطه گری گراف مقابل را با ارائه راه حل، تعیین کنید.</p> <p>ب) این گراف چند γ-مجموعه دارد؟</p> 	۱/۷۵
۱۲	<p>اگر داشته باشیم $A = \{۷, ۸, ۹\}$ و $B = \{a, b, c, d, e, f\}$ در این صورت چند کد با شش کارکتر متمایز می توان نوشت که هر یک شامل دو رقم از A و چهار حرف از B باشد؟</p>	۰/۷۵
۱۳	<p>معادله $x_1 + x_2 + x_3 + 2x_4 = 10$ چند جواب صحیح و نامنفی دارد؟</p>	۱/۷۵
۱۴	<p>قرار است ۳ راننده با ۳ نوع ماشین در ۳ مسیر متفاوت در ۳ روز اول هفته رانندگی کنند به گونه ای که هر راننده با هر نوع ماشین، هر مسیری را دقیقاً یکبار طی کرده باشد و نیز هر ماشین، هر یک از مسیرها را دقیقاً یک بار طی کند. برای این مسأله برنامه ریزی کنید.</p>	۱/۵
۱۵	<p>چند رمز ۴ رقمی با ارقام ۱ تا ۵ می توان نوشت به طوری که هر رمز، <u>حداقل</u> یک رقم ۳ و یک رقم ۲ را شامل باشد؟ (نیاز به محاسبه پاسخ نهایی نمی باشد)</p>	۱/۵
۱۶	<p>حداقل افراد شرکت کننده در یک همایش چند نفر باشند، تا با اطمینان بتوان گفت که ۵ نفر از آن ها در یک ماه متولد شده اند و رقم یکان کد ملی آنها <u>زوج</u> است.</p>	۱/۵
	جمع نمره	۲۰

مدت امتحان: ۱۲۰ دقیقه	ساعت شروع: ۸ صبح	رشته: ریاضی فیزیک	راهنمای تصحیح امتحان نهایی درس: ریاضیات گسسته
تاریخ امتحان: ۱۴۰۲/۰۳/۲۱		پایه دوازدهم دوره دوم متوسطه	
مرکز ارزشیابی و تضمین کیفیت نظام آموزش و پرورش http://aee.medu.gov.ir		دانش آموزان روزانه، بزرگسال و داوطلبان آزاد سراسر کشور خرداد ماه سال ۱۴۰۲	

ردیف	راهنمای تصحیح	نمره
۱	الف) درست (۰/۲۵) (صفحه ۵) ب) درست (۰/۲۵) (صفحه ۱۷) ج) نادرست (۰/۲۵) (صفحه ۴۰) د) نادرست (۰/۲۵) (صفحه ۵۳)	۱
۲	الف) $p-1$ (۰/۵) (صفحه ۵۳) ب) ۴ (۰/۵) (صفحه ۶۳) ج) $\frac{5!}{2!} = 60$ (۰/۵) (صفحه ۷۸)	۱/۵
۳	همواره بدیهی است $(x-y)^2 + z^2 + 1 \geq 0 \Leftrightarrow x^2 + y^2 - 2xy + z^2 + 1 \geq 0 \Leftrightarrow x^2 + y^2 + 1 \geq 2xy - z^2$ (صفحه ۸) (۰/۲۵)	۰/۷۵
۴	$\begin{cases} a 2m+3 \\ a m+7 \end{cases} \xrightarrow{\times 2} \begin{cases} a 2m+3 \\ a 2m+14 \end{cases} \xrightarrow{(0/25)} a 11 \rightarrow a = 1, a = 11$ (صفحه ۱۱)	۱
۵	$\begin{cases} a = 5q_1 + 4 & (0/25) \xrightarrow{\times 4} 4a = 20q_1 + 16 & (0/25) \\ a = 4q_2 + 3 & (0/25) \xrightarrow{\times 5} 5a = 20q_2 + 15 & (0/25) \end{cases}$ $\xrightarrow{-} a = 20q' - 1 & (0/25) \rightarrow a = 20q'' + 19 & (0/25)$ (صفحه ۱۶)	۱/۵
۶	$15x \equiv 7 \pmod{19} \xrightarrow{19} 15x \equiv 45 \pmod{19} \xrightarrow{(15,19)=1} x \equiv 3 \pmod{19}$ $\rightarrow x = 19k + 3 \pmod{19} \xrightarrow{k=5} x = 98 \pmod{19}$ (صفحه ۲۸)	۱/۲۵
۷	$\begin{cases} q = \frac{kn}{2} \rightarrow q = \frac{8 \times 3}{2} = 12 & (0/25) \\ q = \frac{n(n-1)}{2} \rightarrow q = \frac{8 \times 7}{2} = 28 & (0/25) \end{cases} \rightarrow 28 - 12 = 16 \quad (0/5)$ (صفحه ۴۰)	۱
۸	الف) $\{f\}$ (۰/۲۵) ب) $abdefa$ یا $abcdea$ (۰/۲۵) ج) ۴ (۰/۲۵) (صفحه ۴۱)	۰/۷۵
۹	الف) $\{c, e, h, f\}$ (۰/۵) ب) $\{c, g, i, e\}$ (۰/۵) ج) fh (۰/۵) (صفحه ۴۷) در قسمت الف و ب به مجموعه های درست دیگر نمره تعلق بگیرد.	۱/۵
۱۰	الف)  (۰/۵) ب)  (۰/۵) در قسمت الف و ب برای شکل های درست دیگر نمره تعلق بگیرد. (صفحه ۵۳)	۱

