

بِسْمِ اللّٰهِ الرَّحْمٰنِ الرَّحِیْمِ

# آسایش و رفاه در سایه شبمی

مهندس سید سعید جدی

آرشیو سید سعید  
پنجمی کاؤنسلر



سرشناسه : جدی ، سید سعید ، ۱۳۵۳  
 عنوان و نام پدیدآور : الفبای شیمی : آسایش و رفاه در سایه شیمی : آموزش دقیق مفاهیم / سعید جدی  
 مشخصات نشر : تهران : کوله پستی ، ۱۳۹۳  
 مشخصات ظاهری : ۱۲۸ ص : مصور ؛ ۲۲ × ۲۹ س.م  
 شابک : ۹۷۸-۶۰۰-۷۲۱۷-۳۶-۸  
 وضعیت فهرست نویسی : فیبا  
 موضوع : شیمی - آزمون‌ها و تمرین‌ها (متوسطه)  
 موضوع : شیمی - مسائل و تمرین‌ها و غیره  
 موضوع : دانشگاه‌ها و مدارس عالی - ایران - آزمون‌ها  
 رده بندی کنگره : ۱۳۹۳ ۲ الف ۳۶ ج / ۲۶ / ۳۰۶۰ LB  
 رده بندی دیویی : ۳۷۳ / ۲۳۸۰۷۶  
 شماره کتابشناسی ملی : ۳۶۰۲۷۲۳

نام کتاب : الفبای شیمی : آسایش و رفاه در سایه شیمی  
 مؤلف : مهندس سید سعید جدی  
 صفحه آرا : زهرا صالحی  
 لیتوگرافی : باران  
 صحافی و چاپ : سپه  
 نوبت چاپ : اول ۱۳۹۷  
 تیراژ : ۱۰۰۰ جلد  
 ناظر چاپ : عباس مرادی  
 قیمت : ۳۵۰۰۰ تومان  
 ناشر : انتشارات کوله پستی  
 شابک : ۹۷۸-۶۰۰-۷۲۱۷-۳۶-۸

مراکز بخش

- فؤاد نوین ۶۶۴۰۰۹۰۰
- معمدی ۶۶۹۶۵۰۱۲
- مهرگان ۶۶۴۹۶۹۴۹
- راهیان دانش ۶۶۴۹۲۰۳۷
- بورس بهزاد ۶۶۹۵۵۲۱۳
- باستان ۶۶۴۰۱۶۲۲
- کتاب صبا ۶۶۹۷۱۰۰۰
- پدیده ۶۶۹۷۲۰۰۰
- همراه ۶۶۹۷۵۶۶۵
- توزیع تهران ۶۶۹۶۰۷۲۲
- گیتامهر ۶۶۴۰۳۰۳۰
- مفافر ۶۶۴۱۹۳۵۳
- مشاهیر ۶۶۵۹۴۵۹۲
- ایرانیان ۶۶۴۸۸۳۸۸
- فوارزمی (شیراز) ۳۶۴۷۳۷۷۱
- لیانی (مشهد) ۳۸۵۱۴۳۴۲
- دنیای فرد (شیراز) ۳۲۳۳۵۱۶۹

حق چاپ برای انتشارات کوله پستی محفوظ است





# تقدیم به پدر فداکار و مادر مهربانم

## سلام و درود

بیا تا گل برافشانیم و می در ساغر اندازیم  
فلک را سقف بشکافیم و طرحی نو دراندازیم

## فصل نهم شیمی (نواردهم)

این فصل همان فصل الکتروشیمی کتاب پیش دانشگاهی سابق است.

فصلی پوسته داشتنی با مطالب مهم و پر کاربرد در زندگی که برای دانش آموزان در آن آسان است.

خوشبختانه از این فصل تست های فراوانی در کنکورهای سال های گذشته وجود دارد و شاید کمی مشکل سوالات تخیل کرده باشد...

## سپاسگزاری

فقط چند تا سپاسگزاری می مونه :

مهندس عباس مرادی و سرکار خانم الهام جلالیان به خاطر راهنمایی ها و پیگیری هایشان که اگر نبودند الفباهای شیمی آماده نمی شدند.

یاران خوب زندگی ام ، همسر صبورم و دختر نازنینم

دوستان عزیز و گرانقدر مهندس علی سلطانی ، مهندس علیرضا عظیمی فر و مهندس اشکان کلانتری به خاطر همفکری های بسیارشون.

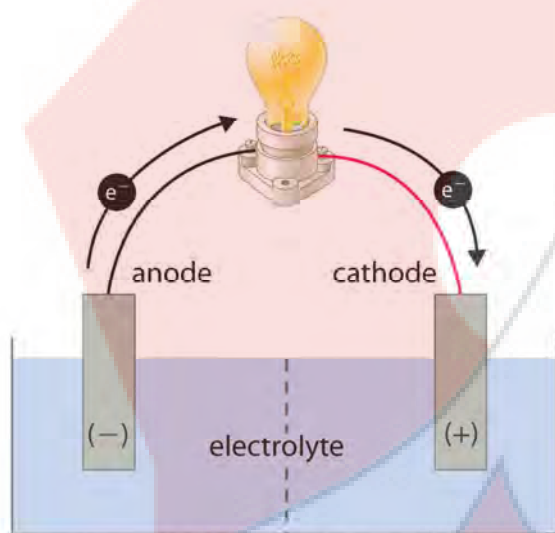
دانش پژوهان دقیق و با پشتکارم حدیث رضازاده ، خشایار بدیعی ، علیرضا عباسی ، مریم شفیع ، سمانه عاشوری که چندین بار کتاب را بازخوانی کردند.

## فهرست

۸۲	استخراج آلومینیم	۶	آشنایی با الکتروشیمی
۸۴	آپکاری	۸	تعریف اکسایش - کاهش
۸۹	لیتیم	۱۰	تعریف عدد اکسایش و نکات آن
۹۰	شیمی و زندگی	۱۲	تمرین‌های موازنه
۹۱	تاریخچه سلول‌های سوختی	۱۶	بررسی واکنش سوختن منیزیم
۹۴	سلول هیدروژن - اکسیژن	۲۵	تعیین عدد اکسایش کربن در ترکیب‌های آلی
۹۶	مقایسه‌ی دو روش متفاوت تولید برق	۲۸	آزمون اول
۹۷	مقایسه سلول سوختی، باتری و موتور درون‌سازی	۳۱	رقابت فلزات برای اکسید شدن
۱۰۳	الکترولیز محلول‌ها	۳۵	مفهوم $E^{\circ}$
۱۰۹	سلول سوختی متان - هیدروژن	۳۷	سلول گالوانی
۱۱۰	واکنش‌های مهم اکسایش - کاهش	۴۲	نیروی الکتروموتوری
۱۱۲	آزمون سوم	۴۹	جدول پتانسیل کاهش استاندارد
		۵۳	پیشگویی انجام‌پذیر بودن یا انجام‌ناپذیر بودن واکنش‌ها
		۵۴	نکات جدول پتانسیل کاهش
		۶۰	آزمون دوم
		۶۵	انواع سلول‌های شیمیایی
		۶۶	خوردگی آهن
		۶۷	فداکاری فلزها برای محافظت از آهن
		۶۸	حلبی
		۶۹	نگهداری محلول‌ها در ظروف فلزی
		۷۳	برقکافت آب
		۷۷	سلول دانه
		۷۸	تهیه‌ی فلز منیزیم از آب دریا

زندگس صحنه کیتای هنرمند است  
 هر کس نقدی خود خواند و از صحنه رود  
 صحنه پیوسته به جاست  
 خرم آن نغمه که مردم بسیارند به یاد

# آسایش و رفاه در سایه شیمی



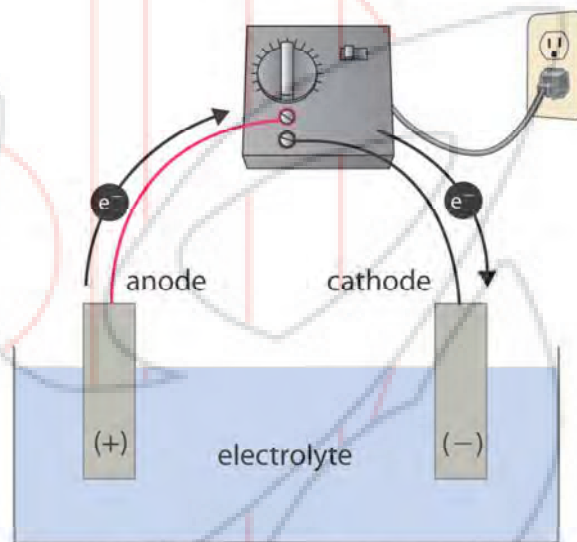
**GALVANIC CELL**

Energy released by spontaneous redox reaction is converted to electrical energy.

Oxidation half-reaction:  
 $Y \rightarrow Y^+ + e^-$

Reduction half-reaction:  
 $Z + e^- \rightarrow Z^-$

Overall cell reaction:  
 $Y + Z \rightarrow Y^+ + Z^- \quad (G < 0)$



**ELECTROLYTIC CELL**

Electrical energy is used to drive nonspontaneous redox reaction.

Oxidation half-reaction:  
 $Z^- \rightarrow Z + e^-$

Reduction half-reaction:  
 $Y^+ + e^- \rightarrow Y$

Overall cell reaction:  
 $Y^+ + Z^- \rightarrow Y + Z \quad (G > 0)$



## آشنایی با الکتروشیمی

- انرژی الکتریکی پرکاربردترین شکل انرژی در زندگی امروزی است. انتقال پیام‌های عصبی، صنایع الکترونیک، حمل و نقل، مهندسی پزشکی، روشنایی خانه‌ها و ... همگی به انرژی الکتریکی وابسته هستند. از این رو همه‌ی کشورهای جهان تلاش می‌کنند، راه‌هایی برای تولید انرژی الکتریکی ارزان و پاک بیابند. امروزه بخش عمده‌ی انرژی الکتریکی از انجام واکنش‌های شیمیایی که با داد و ستد الکترون همراه هستند، تأمین می‌شود.
- الکتروشیمی شاخه‌ای از علم شیمی است که در بهبود خواص مواد و تأمین انرژی نقش به‌سزایی دارد.

دستیابی به مواد مناسب  
تأمین انرژی

❖ دو رکن اساسی در تحقق فناوری

- پرکاربردترین شکل انرژی در فناوری‌های پیشرفته برای افزایش سطح رفاه و آسایش، انرژی الکتریکی است.

تأمین انرژی (باتری‌ها، سلول سوختی و سوخت آن‌ها)  
تولید مواد (مانند برق‌کافت و آبکاری)  
اندازه‌گیری و کنترل کیفی (اطمینان از کیفیت فرآورده)

❖ سه قلمرو مهم الکتروشیمی

### ❖ کاربردهای الکتروشیمی

- ۱) مطالعه‌ی شیمی باتری‌ها ← پیچونگی تبدیل انرژی شیمیایی به انرژی الکتریکی
- ۲) برق‌کافت ← شکافتن یا تجزیه‌ی یک ماده به وسیله‌ی جریان برق
- ۳) آبکاری ← پوشش دادن یک فلز توسط یک فلز دیگر
- ۴) جلوگیری از خوردگی و زنگ زدن فلزها ← یکی از پالاش بر انگیزترین مسایل امروز جوامع صنعتی
- ۵) شناخت واکنش‌های اکسایش - کاهش ← واکنش‌هایی که با انتقال یک یا چند الکترون همراه هستند.

### ❖ تست ۱: مطلب کدام گزینه درست نیست؟



- ۱) واکنش‌های شامل داد و ستد الکترون، مبنای تولید انرژی الکتریکی هستند.
- ۲) رشد دانش و پیشرفت فناوری، انجام فعالیت‌های فردی، اقتصادی، صنعتی و ... را پیچیده‌تر و دشوارتر کرده است.
- ۳) پدیده‌های طبیعی همچون تندر و آذرخش نشان می‌دهند که میان سامانه‌ی واکنش و محیط، انرژی الکتریکی مبادله می‌شود.
- ۴) الکتروشیمی افزون بر تهیه‌ی مواد جدید به کمک انرژی الکتریکی می‌تواند در راستای پیاده کردن اصول شیمی سبز نیز گام بردارد.

پاسخ: 



### تست ۲: با توجه به شکل‌های روبه‌رو کدام گزینه نادرست است؟



- ۱) استفاده از الکتروشیمی می‌تواند منجر به افزایش سرعت و ایمنی حمل و نقل در زندگی شود.
- ۲) با استفاده از فناوری‌هایی که الکتروشیمی در اختیار ما قرار داده می‌توان نقص عضو را درمان یا اثر آن را کاهش داد.
- ۳) الکتروشیمی به ما کمک می‌کند تا آب آشامیدنی را ایمن‌تر منتقل نماییم.
- ۴) با استفاده از دانش الکتروشیمی، تأمین روشنایی، گرمایش و سرمایش، برای انسان آسان‌تر شده است.

پاسخ: 



### تست ۳: کدام مورد از مطالب زیر درست هستند؟

- آ) دو رکن اساسی در تحقق فناوری‌ها، دستیابی به مواد مناسب و تأمین انرژی است.
- ب) پر کاربردترین شکل انرژی در به کارگیری فناوری‌ها، انرژی الکتریکی است.
- پ) الکتروشیمی شاخه‌ای از دانش شیمی است که در بهبود خواص مواد و تأمین انرژی نقش به‌سزایی دارد.
- ت) تأمین انرژی، تولید مواد با فرآیند آبکافت و اندازه‌گیری و کنترل کیفی از جمله قلمروهای الکتروشیمی می‌باشند.

۱) آ و ب      ۲) پ و ت      ۳) آ، ب و پ      ۴) ب، پ و ت

پاسخ: 

### تعریف‌های اکسایش- کاهش

بسیاری از پدیده‌های پیرامون ما نتیجه‌ی یک واکنش اکسایش - کاهش است.

برای نمونه ( واکنش‌ها و پدیده‌های مطلوب مربوط به اکسایش - کاهش ) :

۱- سوخت و ساز سلولی در بدن جانداران

۲- فوتوسنتز در گیاهان

۳- استخراج هر فلز از سنگ معدن آن

واکنش‌ها و پدیده‌های نامطلوب و ناخواسته مربوط به اکسایش - کاهش :

۱- فساد خوراکی‌ها

۲- سیاه شدن وسایل نقره‌ای

۳- زنگ زدن بدنه آهنی پل‌ها و کشتی‌ها

### تعریف‌های اکسایش و کاهش

۱) اکسایش به معنی **گرفتن** ..... و کاهش به معنی **از دست دادن** ..... است.

۲) اکسایش به معنی **از دست دادن** ..... و کاهش به معنی **گرفتن** ..... است.

۳) اکسایش به معنی **از دست دادن** ..... و کاهش به معنی **گرفتن** ..... است.

🌟 **تذکر:** تعریف اکسایش - کاهش بر مبنای الکترون ، کامل‌ترین و بهترین تعریف است .

### اکسنده و کاهشنده

با گرفتن الکترون از گونه‌های دیگر کاهش می‌یابد.

گونه‌های دیگر را اکسید می‌کند.

فرآیند اکسایش به وسیله‌ی آن انجام می‌شود.

**اکسنده ماده‌ای است که**

با دادن الکترون به گونه‌های دیگر اکسایش می‌یابد.

گونه‌های دیگر را کاهش می‌دهد.

فرآیند کاهش به وسیله‌ی آن انجام می‌شود.


**کاهشنده ماده‌ای است که**

ماده‌ای که کاهش می‌یابد ، اکسنده است

ماده‌ای که اکسایش می‌یابد ، کاهشنده است.

**جمع‌بندی**





کربن ..... گرفته و ..... داده ، پس ..... شده است .



گوگرد ..... گرفته پس ..... شده است .



نیترژن ..... (از دست داده پس ..... یافته است .



آهن ..... (از دست داده پس ..... شده است .



نیترژن ..... (از دست داده پس ..... شده است .

**تست ۴ :** در کدام تبدیل ، فرآیند کاهش صورت گرفته است ؟



**پاسخ :**

**تست ۵ :** تبدیل  $\text{SiH}_4$  به  $\text{SiO}_2$  فرآیندی از نوع ... و تبدیل  $\text{CO}$  به  $\text{CO}_2$  فرآیندی از نوع ... است .



**پاسخ :**

**تست ۶ :** تمامی عبارتهای زیر درست بیان شده‌اند ، به جز ...

(۱) یکی از راههای بهره‌گیری از انرژی ذخیره شده در فلزها ، اتصال آنها در شرایط مناسب به یکدیگر است.

(۲) شکل روبه‌رو ، مثال ساده‌ای از یک باتری می‌باشد که می‌توان با آن یک لامپ LED را روشن کرد.

(۳) چراغ خورشیدی یک ابزار روشنایی است که از لامپ LED ، سلول خورشیدی و باتری‌های غیر قابل شارژ تشکیل شده است.

(۴) باتری مولدی است که در آن واکنش‌های شیمیایی رخ می‌دهد تا بخشی از انرژی شیمیایی مواد ، به انرژی الکتریکی تبدیل شود.



**تست ۷ :** با کدام کلمات زیر ، عبارت زیر درست می‌شود ؟

« ..... هیدروژن یعنی ..... و ..... الکترون یعنی ..... است .

(۱) ترکیب شدن با - اکسایش - از دست دادن - کاهش

(۲) ترکیب شدن با - کاهش - از دست دادن - کاهش

(۳) ترکیب شدن با - کاهش - از دست دادن - اکسایش

(۴) ترکیب شدن با - اکسایش - گرفتن - اکسایش

**پاسخ :**

**نکته:** واکنش‌هایی که در آن‌ها حداقل یک عنصر کاهش یافته و یک عنصر اکسید می‌شود، به واکنش‌های اکسایش-کاهش موسومند. عدد اکسایش عنصری که کاهش می‌یابد، کوچک‌تر می‌شود. و عدد اکسایش عنصری که اکسید می‌شود بزرگ‌تر می‌شود.

**عدد اکسایش:** عبارت است از مجموع بارهای نسبت داده شده به یک اتم با فرض یونی بودن پیوندها (انتقال الکترون)

**تذکره:** در تمامی ترکیبات پیوندهای یونی نیستند و انتقال الکترون همیشه کامل نیست. (فرض مهال که مهال نیست!)

### نکاتی پیرامون عدد اکسایش (این نکته‌ها در فصل الکتروشیمی از ثان شب هم واجب‌تره)

- ۱) عدد اکسایش عنصرها در حالت آزاد صفر می‌باشد.
- ۲) عدد اکسایش فلزهای قلیایی (گروه اول) همیشه در ترکیبات ..... است.
- ۳) عدد اکسایش فلزهای قلیایی خاکی (گروه دوم) همیشه در ترکیبات ..... است.
- ۴) عدد اکسایش Al همیشه در ترکیبات ..... است.
- ۵) عدد اکسایش سایر عنصرهای گروه (IIIA) سیزدهم (به جز Al) می‌تواند ..... یا ..... باشد.
- ۶) عدد اکسایش فلورین در ترکیبات همیشه ..... است.
- ۷) عنصرهای گروه‌های ۱۴، ۱۵، ۱۶، ۱۷ (به جز F) دارای اعداد اکسایش ..... هستند.

در اکسیدها (.....)

در پراکسیدها (.....)

در سوپر اکسیدها (.....)

در  $O_2F_2$  (.....)

در  $OF_2$  (.....)

۸) اعداد اکسایش اکسیژن

در اغلب ترکیبات ..... است.

در ترکیب با فلزها ..... است.

۹) اعداد اکسایش هیدروژن

۱۰) عنصرها در ترکیب با اکسیژن با بزرگ‌ترین عدد اکسایش خود تولید اکسید می‌نمایند. (به جز F و O)

شماره گروه اصلی عنصر = بزرگترین عدد اکسایش

۱۱) عنصرهای گروه اول و دوم و سوم اصلی (سیزدهم) با همان عدد اکسایشی که با اکسیژن تولید اکسید می‌نمایند، با هیدروژن تولید هیدرید می‌نمایند.

ولی عنصرهای گروه ۴، ۵، ۶، ۷ اصلی (۱۴، ۱۵، ۱۶، ۱۷) با کوچک‌ترین عدد اکسایش خود با هیدروژن تولید هیدرید می‌نمایند.



۸ - شماره گروه اصلی عنصر = کوچک ترین عدد اکسایش

گروه	اول	دوم	سیزدهم	چهاردهم	پانزدهم	شانزدهم	هفدهم	هجدهم
فرمول	IA	IIA	IIIA	IVA	VA	VIA	VIIA	VIIIA
فرمول اکسید	$M_2O$	$MO$	$M_2O_3$	$MO_2$	$M_2O_5$	$MO_3$	$M_2O_7$	-
فرمول هیدرید	$MH$	$MH_2$	$MH_3$	$MH_4$	$\ddot{M}H_3$	$H_2\ddot{M}:$	$H\ddot{M}:$	-

۱۲) مجموع اعداد اکسایش اتمها در یک مولکول چند اتمی ..... است .



۱۳) عدد اکسایش یونهای تک اتمی برابر ..... است .



۱۴) مجموع اعداد اکسایش اتمها در یک یون چند اتمی برابر با ..... است .



**نکته مهم:** در مورد نمکها چه کار کنیم؟

۱۵) هالوژنها در ترکیب با عنصر سایر گروهها ( به جز اکسیژن ) با کوچکترین عدد اکسایش خود در ترکیب شرکت میکنند .



۱۶) عدد اکسایش می تواند کسری و اعشاری باشد .



۱۷) اعداد اکسایش عنصرهای واسطه ..... است به جز ( Cd , Y , Ag , Zn , Sc )



۱۸) عدد اکسایش جنبه‌ی فیزیکی ندارد و یعنی وقتی می‌گوییم عدد اکسایش کلر در  $Cl_2O_7$  برابر +۷ است، کلر یون هفت بار مثبت تشکیل نمی‌دهد .



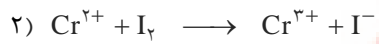

۱۹) هر عنصری به بالاترین عدد اکسایش خود برسد، فقط می‌تواند ..... یابد و فقط نقش ..... دارد و هر عنصری به پایینترین عدد اکسایش خود برسد، فقط می‌تواند ..... شود و نقش ..... ایفا کند .



**تذکر:** S می‌تواند هم (کسنده هم کاهنده باشد)



**تمرین :** معادله‌ی واکنش‌های زیر را به روش تنظیم نیم واکنش‌ها موازنه کنید. ( شماره ۶ ویژه‌ی عاشقان شیمی است. )



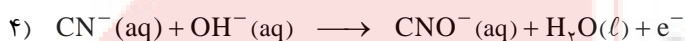
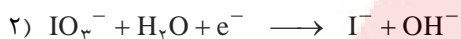
### چگونگی موازنه نیم واکنش‌ها:

- ۱) تعیین عدد اکسایش
- ۲) مناسبه تغییر عدد اکسایش
- ۳) تغییر عدد اکسایش ضریب الکترون می‌شود.
- ۴) ترتیب موازنه : فلز ، نافلز ، بار ، هیدروژن و در آخر اکسیژن



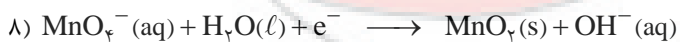

**نکته:** به بان شما دکترها و مهندس‌های آینده در هیچ کتابی این تعداد موازنه اکسایش - کاهش پیدا نخواهد کرد.

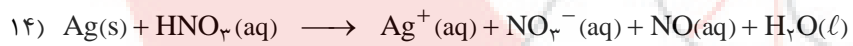
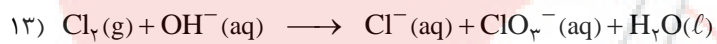
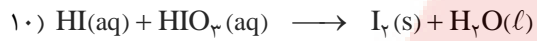

**تمرین:** واکنش‌های زیر را بر اساس تغییر عدد اکسایش موازنه کنید.



تمرین ویژه عاشقان شیمی

واکنش‌های زیر را بر اساس تغییر عدد اکسایش موازنه کنید.







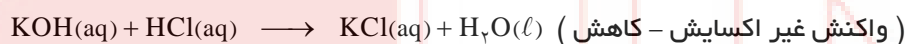


### اکسایش - کاهش و غیر اکسایش - کاهش

انتقال الکترون از گونه‌ای به گونه‌ای دیگر صورت نمی‌پذیرد.  
 بار الکتریکی گونه‌ها تغییر نمی‌کند.  
 آرایش الکترونی گونه‌ها تغییر نمی‌کند.  
 عدد اکسایش گونه‌ها تغییر نمی‌کند.  
 نمی‌توان از آن برای تولید جریان الکتریسیته استفاده کرد.

✪ در واکنش غیر اکسایش - کاهش

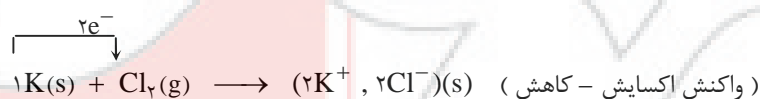
**مثال :** در واکنش پتاسیم هیدروکسید با هیدروکلریک اسید ، فقط جای یون‌ها با هم عوض می‌شود و با انتقال الکترون همراه نیست و یک واکنش غیر اکسایش - کاهش است.



انتقال کلی یا جزئی الکترون از گونه‌ای به گونه‌ای دیگر صورت می‌پذیرد.  
 بار الکتریکی یک یا چند گونه تغییر می‌کند.  
 آرایش الکترونی یک یا چند گونه تغییر می‌کند.  
 عدد اکسایش یک یا چند گونه تغییر می‌کند.  
 می‌توان از الکترون مبادله شده برای تولید جریان الکتریسیته استفاده کرد.

✪ در واکنش اکسایش - کاهش

**مثال :** واکنش فلز پتاسیم با گاز کلر همراه با انتقال الکترون از پتاسیم به کلر بوده و یک واکنش اکسایش - کاهش است.



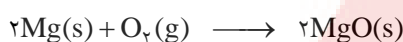
**نکته :** از الکترون مبادله شده در واکنش‌های اکسایش - کاهش می‌توان برای تولید جریان الکتریسیته استفاده کرد. از این رو آگاهی از چگونگی انجام واکنش‌های اکسایش - کاهش می‌تواند راهکار مناسبی برای رفع چالش کمبود انرژی ارائه دهد. ضمناً امروزه بخش عمده‌ی انرژی الکتریکی از انجام واکنش‌های شیمیایی اکسایش - کاهش تامین می‌شود.

### ☆ بررسی واکنش سوختن منیزیم

اتم‌های فلزی با اکسیژن واکنش داده و اکسیدهای فلزی را ایجاد می‌کنند. وقتی اکسید فلزی تشکیل می‌شود، گرما آزاد شده و گاهی اوقات نوری شدید ایجاد می‌شود. در ادامه، واکنش سوختن منیزیم را که نمونه‌ای از این واکنش‌ها است، بررسی می‌کنیم.

### ☆ منیزیم و نور خیره کننده

۱- منیزیم (Mg) که فلزی است از گروه دوم و دوره‌ی سوم جدول دوره‌ای، طبق معادله‌ی زیر با نور خیره کننده‌ای در اکسیژن ( $O_2$ ) می‌سوزد و به منیزیم اکسید (MgO) تبدیل می‌شود.



۲- در گذشته برای عکاسی از سوختن Mg به عنوان منبع نور استفاده می‌شد.

تمرین: واکنش فوق را به‌طور کامل آنالیز کنید.

### ☆ شمار الکترون‌های مبادله شده در یک واکنش

در یک واکنش اکسایش-کاهش می‌توانیم تعداد الکترون‌های مبادله شده در واکنش را طبق یکی از فرمول‌های زیر تعیین کنیم:

۱- برای تعیین تعداد الکترون‌های مبادله شده می‌توان از گونه‌ی اکسایش یافته استفاده کرد:

ضریب گونه‌ی اکسایش یافته  $\times$  زیروند گونه‌ی اکسایش یافته  $\times$  میزان اکسایش گونه‌ی اکسایش یافته = تعداد الکترون‌های مبادله شده در یک واکنش اکسایش-کاهش

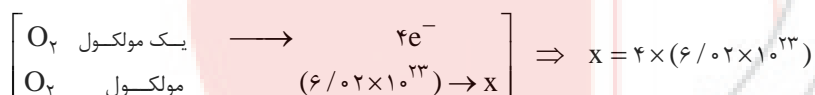
۲- برای تعیین تعداد الکترون‌های مبادله شده می‌توان از گونه‌ی کاهش یافته نیز استفاده کرد:

ضریب گونه‌ی کاهش یافته  $\times$  زیروند گونه‌ی کاهش یافته  $\times$  میزان کاهش گونه‌ی کاهش یافته = تعداد الکترون‌های مبادله شده در یک واکنش اکسایش-کاهش

مثال ۱: تعداد الکترون‌های انتقال یافته به ازای یک مول اکسیژن در واکنش سوختن منیزیم چه قدر است؟

$$2 \times 1 \times 2 = 4 = \text{تعداد الکترون‌های مبادله شده}$$

بنابراین تعداد الکترون‌های مبادله شده به ازای ۱ مولکول  $O_2$  برابر ۴ الکترون است؛ حال باید تعداد الکترون‌های مبادله شده به ازای یک مول  $O_2$  را محاسبه می‌کنیم:





**تست ۸ :** عدد اکسایش کربن در ترکیب ..... بیش تر از ..... و کم تر از ..... است.



- |                                |                               |
|--------------------------------|-------------------------------|
| $CF_4 - CH_3Cl - CH_4$ (۲)     | $CF_4 - CH_3F - CHCl_3$ (۱)   |
| $CH_2Cl_2 - CHCl_3 - CH_4$ (۴) | $CH_4 - CH_2Cl_2 - CH_3F$ (۳) |

**پاسخ :**

**تست ۹ :** عدد اکسایش نیتروژن در کدام ترکیب کمتر است ؟



- |            |              |              |              |
|------------|--------------|--------------|--------------|
| $N_2O$ (۴) | $NO_2^+$ (۳) | $NH_4^+$ (۲) | $NO_3^-$ (۱) |
|------------|--------------|--------------|--------------|

**پاسخ :**

**تست ۱۰ :** کدام ماده همیشه کاهنده است ؟



- |            |         |              |           |
|------------|---------|--------------|-----------|
| $Cl_2$ (۴) | $K$ (۳) | $H_2O_2$ (۲) | $H_2$ (۱) |
|------------|---------|--------------|-----------|

**پاسخ :**

**تست ۱۱ :** عدد اکسایش اتم ..... با عدد اکسایش اتم ..... برابر است.



- |  |   |
|--|---|
| $Ca_3N_2$ در $Ca - OF_2$ در $O$ (۲)    | $H$ در $H - KH$ در $HCl$ (۱)            |
| $BaMnO_4$ در $Mn - KMnO_4$ در $Mn$ (۴) | $Fe$ در $Fe(OH)_3$ در $S - K_2SO_3$ (۳) |

**پاسخ :**

**تست ۱۲ :** اتم نیتروژن در کدام دو ترکیب ، به ترتیب ( از راست به چپ ) بزرگترین و کوچکترین عدد اکسایش را دارد؟



- |                     |                      |
|---------------------|----------------------|
| $KNO_3 - HNO_3$ (۲) | $N_2O - N_2O_5$ (۱)  |
| $NO - NH_4Br$ (۴)   | $NH_4OH - KNO_3$ (۳) |

**پاسخ :**



**تست ۱۳:** عدد اکسایش اتم مرکزی در کدام دو ترکیب برابر است؟



- (۱)  $SO_2Cl_2$  و  $POCl_3$
- (۲)  $BaMnO_4$  و  $NaMnO_4$
- (۳)  $CrO_4^{2-}$  و  $ClO_4^-$
- (۴)  $H_2S_2O_7$  و  $CrO_3$

**پاسخ:**

**تست ۱۴:** در کدام دو ترکیب عدد اکسایش اتم مرکزی نابرابر است؟



(سراسری تجربی خارج کشور ۹۲)

- (۱)  $Na_2S_2O_7$  و  $SO_3$
- (۲)  $K_2Cr_2O_7$  و  $CrO_3$
- (۳)  $NaClO_4$  و  $Cl_2O_7$
- (۴)  $H_3PO_4$  و  $P_2O_6$

**پاسخ:**

**تست ۱۵:** عدد اکسایش اتم مشخص شده در کدام ترکیب به صفر نزدیک تر است؟



- (۱) اکسیژن در لیتیم پراکسید
- (۲) نیتروژن در سدیم آزید
- (۳) کربن در کلسیم کاربید
- (۴) گوگرد در سولفوریل کلرید

**پاسخ:**

**تست ۱۶:** چند مورد از مطالب زیر درباره‌ی مفهوم‌های اکسایش و کاهش درست است؟



- (آ) گونه‌ی اکسایش یافته ، الکترون از دست می‌دهد و گونه‌ی کاهش یافته الکترون می‌گیرد.
- (ب) اغلب فلزها در واکنش با نافلزها تمایل دارند یک یا چند الکترون خود را به نافلزها داده و اکسایش یابند.
- (پ) واکنش‌های شیمیایی که در آنها انتقال الکترون به‌طور کامل بین گونه‌های واکنش‌دهنده رخ می‌دهد ، واکنش‌های « اکسایش - کاهش » نامیده می‌شوند.
- (ت) در یک واکنش « اکسایش - کاهش » گونه‌های اکسایش و کاهش یافته ، در اثر انتقال الکترون ، همواره به آرایش هشت‌تایی پایدار گاز نجیب می‌رسند.

۴ (۴)

۳ (۳)

۲ (۲)

۱ (۱)

**پاسخ:**



**تست ۱۷:** در واکنش فلز روی با گاز اکسیژن، فلز روی ..... و گاز اکسیژن ..... می‌یابد. لذا فلز روی ..... و گاز اکسیژن ..... است.

( با هم بیندیشیم صفحه ۴۰ کتاب درسی )

(۲) اکسایش - کاهش - اکسند - کاهنده

(۱) اکسایش - کاهش - کاهنده - اکسند

(۴) کاهش - اکسایش - اکسند - کاهنده

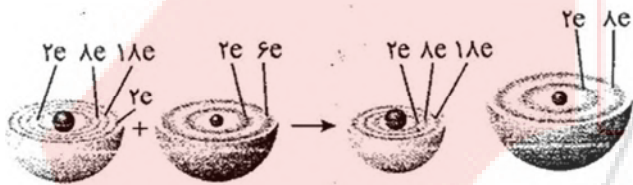
(۳) کاهش - اکسایش - کاهنده - اکسند

**پاسخ:**



**تست ۱۸:** چند مورد از موارد زیر در رابطه با عنصر اکسیژن نادرست است؟

(آ) اکسیژن نافلزی است که با اغلب فلزها واکنش می‌دهد و آن‌ها را به اکسید فلز تبدیل می‌کند.



(ب) برخی فلزها مانند طلا، آهن و پلاتین با اکسیژن واکنش نمی‌دهند.

(پ) شکل مقابل الگوی ساده‌ای از واکنش میان عنصر مس (Cu) و اکسیژن (O) می‌باشد.

(ت) در واکنش اکسیژن با فلزها، اکسیژن با جذب الکترون به آرایش هشت‌تایی پایدار گاز نجیب هم‌دوره‌ی خود دست می‌یابد.

۴ (۴)

۳ (۳)

۲ (۲)

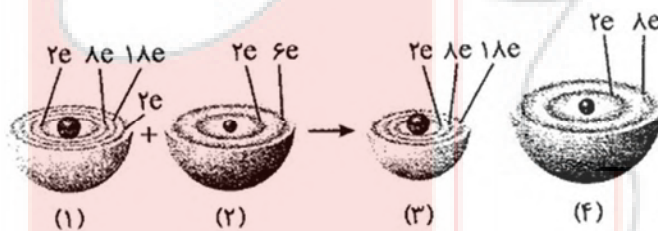
۱ (۱)

**پاسخ:**



**تست ۱۹:** شکل زیر واکنش میان دو عنصر اکسیژن و روی را نشان می‌دهد. کدام ساختار اتم روی را نشان می‌دهد و کدام گونه

( با هم بیندیشیم صفحه ۴۰ کتاب درسی )



الکترون گرفته است؟

(۱) گونه‌ی (۱) - گونه‌ی (۳)


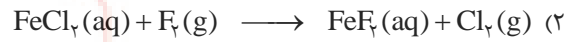


(۲) گونه‌ی (۱) - گونه‌ی (۴)

(۳) گونه‌ی (۲) - گونه‌ی (۳)

(۴) گونه‌ی (۲) - گونه‌ی (۴)

**پاسخ:**

**تست ۲۰ :** نقش آهن در کدام یک از واکنش‌های زیر مشابه گوی سمت چپ در شکل زیر است؟



**پاسخ :**

( با هم بیندیشیم صفحه ۴۰ کتاب درسی )

**تست ۲۱ :** چند مورد از موارد زیر ، جاهای خالی در عبارت زیر را به درستی تکمیل می‌کنند؟

« در نیم‌واکنش ..... ، عنصر ..... ، الکترون ..... »

(ب) اکسایش - کاهنده - از دست می‌دهد

(آ) اکسایش - اکسنده - از دست می‌دهد

(ت) کاهش - اکسنده - جذب می‌کند

(پ) کاهش - کاهنده - جذب می‌کند

۳ (۴)


۲ (۳)

۱ (۲)

(۱) صفر




**پاسخ :**

**تست ۲۲ :** در کدام واکنش زیر هیدروژن اکسنده است؟



**پاسخ :**

**تست ۲۳ :** کدام واکنش زیر از نوع اکسایش - کاهش است؟



**پاسخ :**



**تست ۲۴ :** در واکنش :  $\text{NO}_x + \text{H}_2\text{O} \longrightarrow \text{HNO}_3 + \text{NO}$  نسبت تغییر عدد اکسایش عنصر اکسنده به عنصر کاهنده

کدام است ؟

- (۱) ۱ (۲)  $\frac{1}{2}$  (۳) ۲ (۴)  $\frac{1}{3}$


پاسخ :

**تست ۲۵ :** عنصر S در ..... فقط ..... است و در ..... فقط ..... است و در ..... هم اکسنده و کاهنده است.

- (۱)  $\text{SO}_2$  - اکسنده -  $\text{H}_2\text{S}$  - کاهنده -  $\text{SO}_2$  (۲)  $\text{SO}_2$  - کاهنده -  $\text{SO}_2$  - اکسنده -  $\text{H}_2\text{S}$  - کاهنده -  $\text{SO}_2$  (۳)  $\text{H}_2\text{S}$  - اکسنده -  $\text{SO}_2$  - کاهنده -  $\text{SO}_2$  - اکسنده -  $\text{H}_2\text{S}$  (۴)  $\text{H}_2\text{S}$  - کاهنده -  $\text{SO}_2$  - اکسنده -  $\text{SO}_2$  - کاهنده -  $\text{H}_2\text{S}$

پاسخ :

**تست ۲۶ :** مجموع ضریب‌های a , b , c , d , f در نیم واکنش زیر ، پس از موازنه کدام است؟ (تجربی ۹۴)



- (۱) ۱۰ (۲) ۱۱ (۳) ۱۲ (۴) ۱۳

پاسخ :

**تست ۲۷ :** در نیم واکنش :  $\text{MnO}_4^- (\text{aq}) + a\text{H}^+ (\text{aq}) + be^- \longrightarrow \text{Mn}^{2+} (\text{aq}) + c\text{H}_2\text{O} (\ell)$  ، ضریب‌های a , b , c به ترتیب از راست به چپ کدام‌اند؟ (تجربی خارج کشور ۹۴)

- (۱) ۳ ، ۳ ، ۸ (۲) ۳ ، ۲ ، ۵ (۳) ۴ ، ۴ ، ۵ (۴) ۴ ، ۵ ، ۸

پاسخ :

**تست ۲۸ :** در کدام ترکیب زیر ، فسفر پایین ترین عدد اکسایش را دارد؟ (المپیاد شیمی)

- (۱)  $\text{KH}_2\text{PO}_3$  (۲)  $\text{KH}_2\text{PO}_4$  (۳)  $\text{Na}_3\text{P}$  (۴)  $\text{KH}_2\text{PO}_4$

پاسخ :



**تست ۱۲۹ :** در ترکیب‌های رو به رو کدام عنصرها عدد اکسایش یکسان ندارند؟ (NaH, OF<sub>۲</sub>, S<sub>۲</sub>Cl<sub>۲</sub>, Mg<sub>۳</sub>N<sub>۲</sub>, IBr) (المپیاد شیمی)

- (۱) Na, S      (۲) H, F      (۳) O, Mg      (۴) Cl, I

**پاسخ :**

**تست ۱۳۰ :** در کدام گزینه عدد اکسایش دو عنصری که در زیر آن‌ها خط کشیده شده، یکسان است؟ (المپیاد شیمی)

- (۱) OCl<sub>۲</sub>, OF<sub>۲</sub>      (۲) NH<sub>۴</sub>NO<sub>۳</sub>      (۳) ClBr<sub>۳</sub>, ClF<sub>۳</sub>      (۴) NaF, CaH<sub>۲</sub>

**پاسخ :**

**تست ۱۳۱ :** در چه تعداد از گونه‌های شیمیایی شناخته شده‌ی زیر از نیتروژن، عدد اکسایش نیتروژن مثبت است؟ (المپیاد شیمی)



- (۱) ۳      (۲) ۴      (۳) ۵      (۴) ۶

**پاسخ :**

**تست ۱۳۲ :** عدد اکسایش اتم گوگرد در Na<sub>۲</sub>S<sub>۲</sub>O<sub>۷</sub> با عدد اکسایش منگنز در کدام ترکیب برابر است؟ (سنجش ۹۱)

- (۱) MnO<sub>۲</sub>F      (۲) CaMnO<sub>۴</sub>      (۳) MnO<sub>۲</sub>      (۴) Mn<sub>۲</sub>O<sub>۷</sub>

**پاسخ :**

**تست ۱۳۳ :** عدد اکسایش اتم کربن در مولکول فرمیک اسید با عدد اکسایش اکسیژن در کدام ترکیب برابر است؟ (سنجش ۹۲)

- (۱) CsO<sub>۲</sub>      (۲) BaO<sub>۲</sub>      (۳) OF<sub>۲</sub>      (۴) Cl<sub>۲</sub>O

**پاسخ :**

**تست ۱۳۴ :** جمع جبری عدد اکسایش اتم‌های کربن در مولکول بنزوویک اسید با عدد اکسایش کدام عنصر در ترکیب داده شده ریاضی ۹۴) برابر است؟

- (۱) S در پتاسیم سولفید      (۲) C در فرمالدهید      (۳) N در نیتریک اسید      (۴) Cl در پتاسیم کلرات

**پاسخ :**



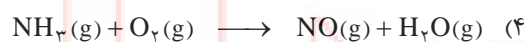

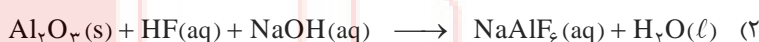
**تست ۳۵ :** جمع جبری عددهای اکسایش اتم‌های کربن در کدام ترکیب نسبت به هر یک از سه ترکیب دیگر بیش‌تر است؟

- (۱) اتانول (۲) گلیسرین (۳) دی متیل اتر (۴) استیک اسید (سنجش ۹۳)

**پاسخ :**



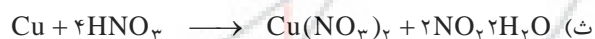



**تست ۳۶ :** کدام واکنش از نوع اکسایش - کاهش است و پس از موازنه ، بزرگ‌ترین ضریب استوکیومتری در آن مشاهده می‌شود؟



**پاسخ :**



**تست ۳۷ :** در چند واکنش اکسایش - کاهش زیر ، یک عنصر هم اکسایش می‌یابد و هم کاهش می‌یابد؟



- (۱) ۲ (۲) ۳ (۳) ۴ (۴) ۵

**پاسخ :**



(سنجش ۹۲)

**تست ۳۸ :** در واکنش اکسایش - کاهش :  $\text{LiH}(\text{s}) + \text{H}_2\text{O}(\ell) \longrightarrow \text{LiOH}(\text{aq}) + \text{H}_2(\text{g})$

- (۱) اکسیژن ، هم زمان اکسایش یافته است  
(۲) لیتیم ، اکسایش و هیدروژن کاهش یافته است.  
(۳) اکسیژن ، نقش اکسنده و هیدروژن نقش کاهنده را دارد.  
(۴) هیدروژن ، هم زمان اکسایش و کاهش یافته است.

**پاسخ :**

**تست ۳۹ :** تعداد الکترون‌های مبادله‌شده برای تشکیل کدام یک از ترکیب‌های زیر از عناصر سازنده‌ی آن‌ها ،  $\frac{1}{2}$  برابر تعداد

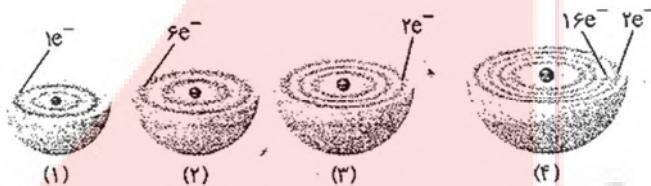
الکترون‌های مبادله شده برای تشکیل  $\frac{1}{6}$  مول منیزیم نیتريد است؟

- |                                    |   |
|------------------------------------|---|
| (۱) $\frac{1}{4}$ مول مس (I) اکسید | (۲) $\frac{1}{5}$ مول سدیم کلريد        |
| (۳) $\frac{1}{1}$ مول کلسیم فسفيد  | (۴) $\frac{1}{24}$ مول کروم (III) برميد |

**پاسخ :**

**تست ۴۰ :** شکل زیر برشی از چهار عنصر را نشان می‌دهد. واکنش میان کدام دو عنصر با داد و ستد الکترون همراه نیست و در اثر

واکنش عناصر (۱) و (۲) چند مول الکترون مبادله می‌شود؟



- (۱) عناصر (۱) و (۲) - ۲
- (۲) عناصر (۱) و (۳) - ۲
- (۳) عناصر (۲) و (۳) - ۴
- (۴) عناصر (۲) و (۴) - ۴

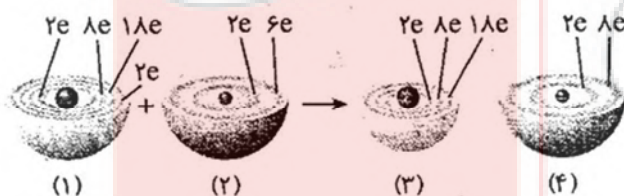
**تست ۴۱ :** با توجه به نیم‌واکنش داده‌شده ، نوع آن چیست و چند مول الکترون در آن مبادله می‌شود؟



- |                |                |              |              |
|----------------|----------------|--------------|--------------|
| (۱) اکسایش - ۲ | (۲) اکسایش - ۴ | (۳) کاهش - ۲ | (۴) کاهش - ۴ |
|----------------|----------------|--------------|--------------|

**تست ۴۲ :** شکل زیر واکنش میان دو عنصر روی و اکسیژن را نمایش می‌دهد. اگر در این واکنش به جای روی از اسکاندیم استفاده

کنیم ، تعداد مول الکترون‌های مبادله شده به ازای تولید یک مول فرآورده چه قدر تغییر خواهد کرد؟

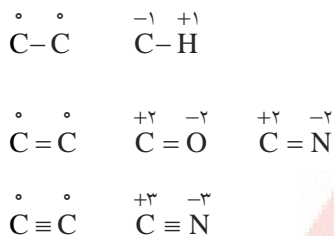


- (۱) ۳
- (۲) ۴
- (۳) ۵
- (۴) ۶



### تعیین عدد اکسایش کربن در ترکیبات آلی

برای تعیین عدد اکسایش اتم‌ها در یک پیوند یگانه، به اتم شماره گروه بزرگ‌تر بار -۱ و به اتم شماره گروه کوچک‌تر بار +۱ نسبت می‌دهیم. اگر پیوند دو گانه باشد، بارها را به صورت -۲ و +۲ و اگر پیوند سه گانه باشد، بارها را به صورت -۳ و +۳ در نظر می‌گیریم.

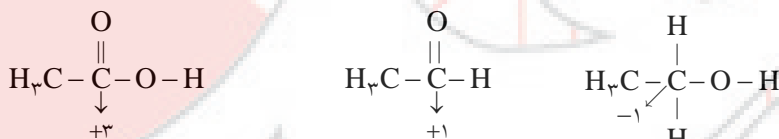


**نکته:** وضعیت پیوند داتیو چگونه است؟

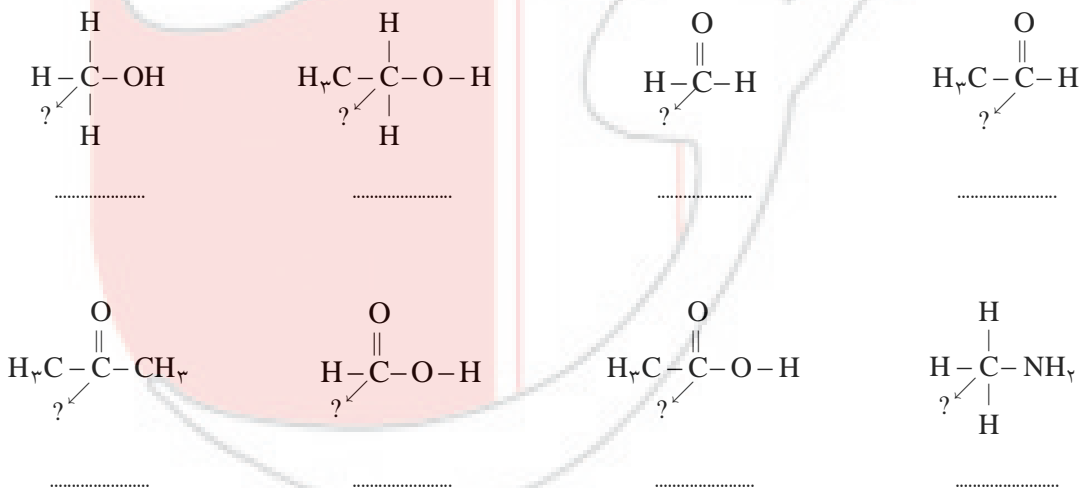
**نکته:** عدد اکسایش کربن دارای گروه (OH) هیدروکسیل در الکل‌ها برابر -۱ است.

**نکته:** عدد اکسایش کربن دارای گروه عاملی (کربونیل -C=O) در آلدئیدها برابر +۱ است.

**نکته:** عدد اکسایش کربن دارای گروه عاملی (کربوکسیل -C(=O)-OH) در کربوکسیلیک اسیدها +۳ است.





**تمرین:** اعداد اکسایش کربن‌های خواسته شده را در ترکیبات زیر تعیین کنید.





**تست ۱۴۳ :** در کدام واکنش ، عدد اکسایش همه ی اتم ها بدون تغییر می ماند؟



پاسخ :



( سراسری تجربی ۹۰ )

**تست ۱۴۴ :** کدام فرآیند جزء واکنش های اکسایش - کاهش به شمار نمی آید ؟



(۱) حل شدن سدیم در آب

(۲) حل شدن  $\text{Al}_2\text{O}_3(\text{s})$  در اسیدها

(۳) تجزیه گرمایی پتاسیم کلرات در مجاورت  $\text{MnO}_2$

(۴) تجزیه هیدروژن پراکسید در مجاورت یون های آهن

پاسخ :



**تست ۱۴۵ :** واکنش تبدیل کدام دو گونه به یکدیگر از نوع اکسایش - کاهش است و شمار بیش تری از الکترون ها در آن جا به جا می شوند؟



می شوند؟

(۱) یون کرومات به کروم (III) اکسید

(۲) سدیم اکسید به سدیم هیدروکسید

(۳) یون پراکسید به یون اکسید

(۴) گوگرد تری اکسید به سولفوریک اسید

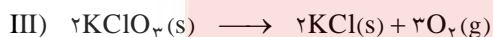
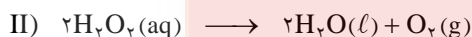
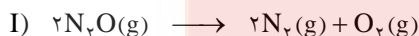
پاسخ :



**تست ۱۴۶ :** در میان سه واکنش « اکسایش - کاهش » زیر ، کدام واکنش با دو واکنش دیگر تفاوت دارد و تفاوت در چیست ؟



( سراسری ریاضی ۸۵ و خارج کشور ریاضی ۸۹ )



(۱) (III) - اتم اکسیژن در آن نقش اکسندهی دارد.

(۲) (III) - اتم اکسیژن در آن هم اکسیده شده و هم کاهش یافته است.

(۳) (II) - اتم اکسیژن در آن هم نقش اکسندهی و هم نقش کاهنده را دارد.

(۴) (I) - عدد اکسایش اتم اکسیژن در آن از -۱ به صفر رسیده و کاهش یافته است.

پاسخ :





(تجربی ۹۴)

**تست ۱۴۷ :** تغییر عدد اکسایش یک اتم کربن در واکنش سوختن کامل کدام دو ماده با هم برابر است؟

- (۱) اتان و اتین      (۲) اتان و بنزن      (۳) اتین و اتن      (۴) اتین و بنزن

**پاسخ :**



**تست ۱۴۸ :** جمع جبری تغییر عددهای اکسایش اتم‌های کربن در معادله‌ی سوختن کامل ۱- پروپانول کدام است؟ (ریاضی خارج کشور ۹۴)

- (۱) ۱۹      (۲) ۱۸      (۳) ۱۲      (۴) ۱۰

**پاسخ :**



## آزمون اول

۱- عدد اکسایش اتم ..... با عدد اکسایش اتم ..... برابر است.



۲- کدام عنصر واسطه عدد اکسایش متنوع ندارد؟



۳- آرایش الکترونی عنصری به  $2P^4$  ختم می‌شود، کوچک‌ترین عدد اکسایش آن کدام است؟



۴- در کدام مورد زیر عمل اکسایش و کاهش صورت نگرفته است؟



۵- کدام واکنش زیر از نوع اکسایش - کاهش نیست؟



۶- ..... به وسیله‌ی یک ..... ایجاد می‌شود، ..... خود طی این فرآیند، ..... می‌یابد.



۷- در ساختارهای زیر کدام عدد اکسایش درست محاسبه نشده است؟



۸- کدام واکنش اکسایش - کاهش زیر، با بقیه‌ی واکنش‌های اکسایش - کاهش تفاوت دارد؟

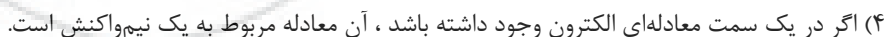
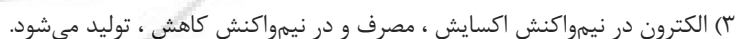
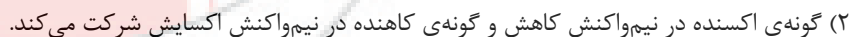
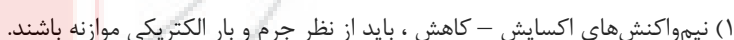


۹- اتم A در لایه‌ی سوم خود دارای ۱۴ الکترون و اتم B نیز در لایه‌ی دوم خود دارای ۷ الکترون است. در صورتی‌که این دو اتم با یکدیگر

واکنش دهند، امکان تولید کدام ترکیب زیر وجود دارد و عنصر کاهنده کدام است؟



۱۰- عبارت کدام گزینه در بازه‌ی نیم‌واکنش‌ها، نادرست است؟



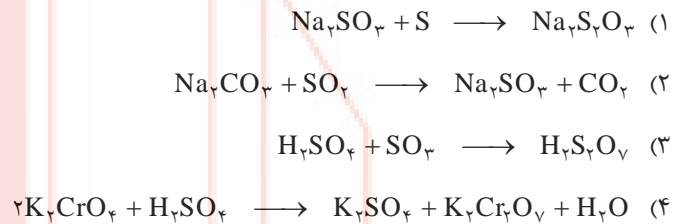




۱۸- چند مورد از واکنش‌های زیر جزء واکنش‌های اکسایش - کاهش به شمار می‌روند؟

- |   |                     |                                     |
|---|---------------------|-------------------------------------|
| (پ) سیاه شدن فیلم عکاسی                         | (ب) فوتوسنتز گیاهان | (آ) استخراج هر فلز از سنگ معدن      |
| (ث) واکنش محلول سدیم کلرید با محلول نقره نیترات |                     | (ت) واکنش‌های انجام شده در باتری‌ها |
| ۵ (۴)   | ۴ (۳)               | ۳ (۲)                      ۲ (۱)    |

۱۹- در کدام واکنش، عدد اکسایش برخی عناصر تغییر می‌کند؟



۲۰- کدام واکنش زیر از نوع اکسایش - کاهش نیست؟



نتیجه‌ی اراده‌ی قوی عمل است و اراده‌ی ضعیف حرف است.

گوستاو لوبوخ

علت هر شکستی، عمل کردن بدون فکر است.

آلکس مکتري

کیفیت زندگی شما بستگی دارد به مدیریت شما در استفاده‌ی بهتر از وقت.

برایخ ترسی

شکست چیزی نیست مگر دست کشیدن از تلاش.

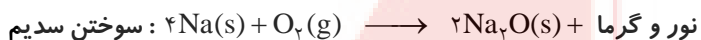
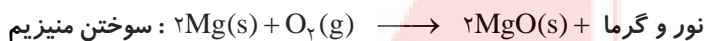
آلبرت هربارد



## رقابت فلزها برای اکسید شدن

### آزاد شدن انرژی در واکنش‌های اکسایش - کاهش

در برخی از واکنش‌های اکسایش - کاهش افزون بر داد و ستد الکترون، انرژی نیز آزاد می‌شود. به عنوان مثال فلزهایی مانند سدیم، منیزیم و آهن در اکسیژن می‌سوزند و نور و گرما تولید می‌کنند:

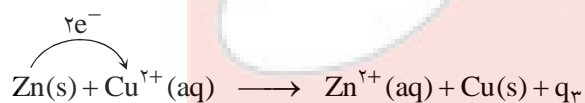
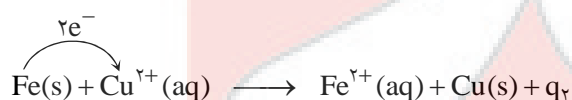
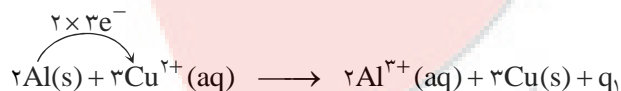


### یادآوری از شیمی دهم:

رنگ شعله‌ی سوختن فلزهای مختلف معمولاً متفاوت است. به عنوان مثال رنگ شعله‌ی سوختن فلزهای سدیم، منیزیم و آهن به صورت زیر است:

فلز	سدیم (Na)	منیزیم (Mg)	آهن (Fe)
رنگ شعله‌ی سوختن	زرد	سفید	نارنجی

در واکنش‌های بالا فلزهای سدیم، منیزیم و آهن الکترون از دست داده و اکسایش می‌یابند و نقش کاهنده را دارند. از طرفی اکسیژن الکترون گرفته و کاهش می‌یابد، بنابراین نقش اکسنده را دارد. واکنش میان فلزهای روی، آهن و آلومینیم با محلول مس (II) سولفات نیز جزء واکنش‌های اکسایش - کاهش بوده و افزون بر داد و ستد الکترون، انرژی نیز آزاد می‌کنند:



با توجه به واکنش‌های بالا به نتایج زیر می‌رسیم:

- هر سه واکنش با داد و ستد الکترون همراه بوده و از نوع اکسایش - کاهش هستند. هر مول روی و آهن با از دست دادن دو مول الکترون اکسایش یافته‌اند در حالی که هر مول آلومینیم با از دست دادن سه مول الکترون اکسایش یافته است. در واقع در معادله‌ی موازنه شده‌ی آلومینیم با یون‌های مس، شش الکترون میان اتم‌های مس و یون‌های آلومینیم داد و ستد می‌شود.
- قدرت الکترون دهی (قدرت کاهندگی آلومینیم) بیش‌تر از دو فلز دیگر است.

### تغییر دمای سامانه معیاری برای مقایسه‌ی قدرت کاهندگی

در واکنش‌های اکسایش - کاهش برای تشخیص اکسنده و کاهنده و نیز برای تشخیص نیم‌واکنش‌های اکسایش و کاهش لازم است که قدرت الکترون‌دهی ( قدرت کاهندگی ) گونه‌ها را با هم مقایسه کنیم. یکی از روش‌هایی که به ما کمک می‌کند تا قدرت الکترون‌دهی گونه‌ها را مقایسه کنیم تغییر دمای سامانه است.

در دمای  $20^{\circ}\text{C}$  تیغه‌های فلزی طلا ، مس ، آهن ، روی و آلومینیم را درون محلول مس (II) سولفات قرار می‌دهیم. پس از ورود این فلزها به درون محلول مس (II) سولفات در چند مورد دمای مخلوط تغییر می‌کند. به داده‌های جدول زیر توجه نمایید :

نام فلز	نشانه‌ی شیمیایی فلز	دمای مخلوط واکنش پس از مدتی ( $^{\circ}\text{C}$ )
طلا	Au	۲۰
مس	Cu	۲۰
آهن	Fe	۲۳
روی	Zn	۲۶
آلومینیم	Al	۲۹

از واکنش اکسایش - کاهش میان فلزهای روی آهن و آلومینیم با محلول مس (II) سولفات گرما آزاد می‌شود ، زیرا پس از ورود این فلزها به درون محلول دمای محلول افزایش یافته است.

مقایسه‌ی افزایش دمای محلول در واکنش فلزهای روی ، آهن و آلومینیم با محلول مس (II) سولفات به صورت زیر است :

محلول شامل آهن > محلول شامل روی > محلول شامل آلومینیم : مقایسه‌ی افزایش دمای محلول

با توجه به تغییر دمای سامانه‌ها می‌توان نتیجه گرفت که تیغه‌ی آلومینیمی تمایل بیشتری به از دست دادن الکترون دارد ، زیرا افزایش دمای محلول آن بیش‌تر بوده و واکنش‌پذیری بیشتری دارد. در واقع در اثر ورود تیغه‌ی آلومینیمی به داخل محلول نسبت به تیغه‌های دیگر واکنش با شدت بیشتری انجام شده و گرمادهی بیشتری دارد.

با توجه به تغییر دمای هر سامانه می‌توان نتیجه گرفت که قدرت کاهندگی ( الکترون‌دهی ) فلزها در جدول بالا به صورت زیر است :

$\text{Al} > \text{Zn} > \text{Fe} > \text{Cu} > \text{Au}$  : مقایسه‌ی قدرت کاهندگی ( تمایل به از دست دادن الکترون )

با توجه به مقایسه‌ی بالا می‌توان پیش‌بینی کرد که میان تیغه‌ی مس و محلول روی سولفات واکنشی انجام نمی‌شود ، زیرا برای انجام شدن این واکنش باید تیغه‌ی مس به یون‌های روی الکترون بدهد که این اتفاق رخ نخواهد داد ، زیرا قدرت الکترون‌دهی مس کم‌تر از روی است.

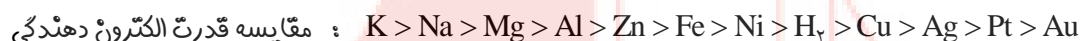


**نکته:** هرچه میزان واکنش‌پذیری یک فلز بیش‌تر باشد در واکنش‌های اکسایش - کاهش گرمای بیش‌تری آزاد کرده و قدرت کاهندگی بیش‌تری دارد.

می‌توان پیش‌بینی کرد که اگر تیغه‌ی مس یا طلا درون محلول مس (II) سولفات قرار بگیرد ، واکنشی انجام نمی‌شود ، زیرا دمای محلول قبل و بعد از ورود این فلزها به درون محلول یکسان بوده و تغییر نکرده است.

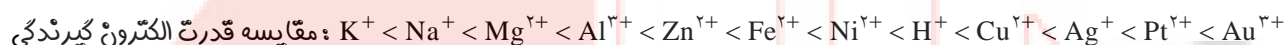
**نتیجه :** تمایل فلزها برای از دست دادن الکترون در محلول‌های آبی یکسان نیست. در واقع فلزها قدرت کاهندگی متفاوتی دارند. برای نمونه ، فلز روی کاهنده‌تر از مس است. در یک واکنش اکسایش - کاهش فلزی که قدرت کاهندگی بیش‌تری دارد ، می‌تواند با برخی از کاتیون‌های فلزی واکنش دهد و آن‌ها را به اتم‌های فلزی تبدیل کند. در واکنش‌هایی از این دست ، مخلوط واکنش گرم می‌شود ، زیرا سامانه‌ی واکنش بخشی از انرژی خود را به شکل گرما به محیط می‌دهد.

**نکته :** تمایل تعدادی از فلزهای مهم برای از دست دادن الکترون و اکسید شدن به صورت زیر است :



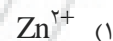
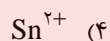
( کاهندگی )

**نکته :** هرچه تمایل فلز M برای اکسید شدن و تبدیل شدن به کاتیون  $M^{n+}$  بیشتر باشد ، تمایل  $M^{n+}$  برای گرفتن الکترون و کاهش یافتن کم‌تر است .



( اکسندگی )

**تست ۴۹ :** کدام گونه‌ی زیر کاهنده‌ی قوی‌تر است ؟



**پاسخ :**

**تست ۵۰ :** کدام فلز زیر الکترون دهنده‌تر ( کاهنده‌تر ) است ؟

طلا (۴)

نقره (۳)

قلع (۲)

آلومینیوم (۱)

**پاسخ :**

**تست ۵۱ :** در میان عناصر روی ، آلومینیم ، آهن و مس ، کدام عنصر بیش‌تری واکنش‌پذیری را دارد و اگر محلول سولفات آن در مجاورت عنصر سدیم قرار بگیرد ، یون این عنصر در واکنش چه نقشی بر عهده خواهد داشت؟

(۴) مس - کاهنده

(۳) آهن - کاهنده

(۲) روی - اکسنده

(۱) آلومینیم - اکسنده

**پاسخ :**



**تست ۵۲ :** با توجه به جدول روبه‌رو که داده‌هایی از قرار دادن برخی تیغه‌های فلزی درون محلول مس (II) سولفات در دمای  $20^{\circ}\text{C}$  را نشان می‌دهد، تغییر دما در این جدول نشان دهنده‌ی چیست و واکنش‌پذیری چند عنصر در این جدول کم‌تر از فلز آهن می‌باشد؟

نام فلز	نشانه‌ی شیمیایی فلز	دمای مخلوط واکنش پس از مدتی ( $^{\circ}\text{C}$ )
آهن	Fe	۲۳
طلا	Au	۲۰
روی	Zn	۲۶
مس	Cu	۲۰

- انجام واکنش در ظرف - سه
- گرماگیر بودن واکنش فلزها - دو
- واکنش‌پذیری بیش‌تر تیغه‌ی فلزی - دو
- بیش‌تر بودن قدرت اکسندگی تیغه‌ی فلزی - سه

پاسخ:

**تست ۵۳ :** با توجه به جدول روبه‌رو که داده‌هایی از قرار دادن برخی تیغه‌های فلزی درون محلول مس (II) سولفات در دمای  $20^{\circ}\text{C}$  نشان می‌دهد. کدام مقایسه در رابطه با عناصر داده شده بر اساس قدرت کاهندگی درست است؟

نام فلز	نشانه‌ی شیمیایی فلز	دمای مخلوط واکنش پس از مدتی ( $^{\circ}\text{C}$ )
آهن	Fe	۲۳
طلا	Au	۲۰
روی	Zn	۲۶
مس	Cu	۲۰

- $\text{Au} < \text{Fe} < \text{Zn} < \text{Cu}$  (۱)
- $\text{Fe} < \text{Au} < \text{Cu} < \text{Zn}$  (۲)
- $\text{Au} < \text{Cu} < \text{Fe} < \text{Zn}$  (۳)
- $\text{Cu} < \text{Au} < \text{Zn} < \text{Fe}$  (۴)

پاسخ:

**تست ۵۴ :** اگر قدرت کاهندگی عنصر نیکل از عنصر جیوه بیش‌تر باشد، کدام عبارت زیر نادرست است؟

- یون نیکل (II) و فلز جیوه در طی یک فرآیند گرماده با یکدیگر واکنش می‌دهند.
- قدرت اکسندگی یون جیوه (II) از قدرت اکسندگی یون نیکل (II) بیش‌تر است.
- واکنش بین یون‌های نیکل (II) و جیوه (II) به‌طور طبیعی قابل انجام نیست.
- پایداری فلز نیکل در محلولی از یون‌های جیوه (II)، کم‌تر از پایداری فلز جیوه در محلولی از یون‌های نیکل (II) است.

پاسخ:

**تست ۵۵ :** همگی موارد زیر در رابطه با واکنش فلز منیزیم با محلول نقره نیترات درست هستند، به جز ...

( $\text{Ag} = 108$  ,  $\text{Mg} = 24$  :  $\text{g.mol}^{-1}$ )

- در ترکیب محلول به دست آمده نسبت آنیون به کاتیون برابر ۲ است.
- نسبت ضریب استوکیومتری گونه‌ی اکسندنده به گونه‌ی کاهش یافته برابر ۲ است.
- یون‌های نیترات در این واکنش بدون تغییر باقی می‌مانند و نقش یون تماشاگر را دارند.
- به ازای مبادله‌ی یک مول الکترون در این واکنش، جرم مواد جامد درون ظرف ۹۶ گرم افزایش پیدا می‌کند.

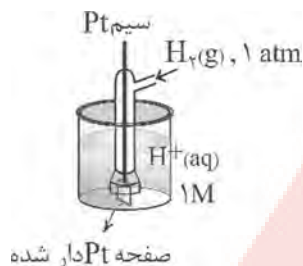
پاسخ:

## مفهوم $E^\circ$

$E^\circ$  یا پتانسیل کاهش استاندارد، میزان توانایی یک گونه برای جذب الکترون در شرایط استاندارد را در مقایسه با (SHE) را نشان می‌دهد.

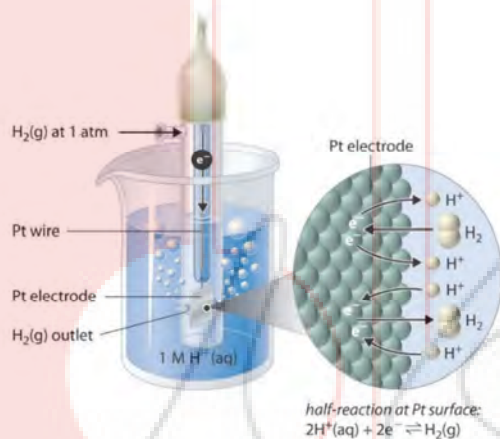
### Standard Hydrogen Electrode

(SHE) چیست؟



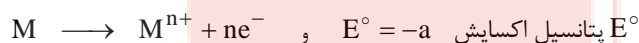
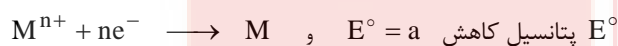
الکتروود استاندارد هیدروژن از یک الکتروود ..... تشکیل شده است که در محلول ..... مولار ..... قرار دارد و گاز هیدروژن با فشار ..... از روی آن عبور داده می‌شود.

پتانسیل الکتروودی چنین الکتروودی را در همه‌ی دماها ..... در نظر می‌گیرند.



نیم‌سلول X $\leftarrow e^-$ بدهد ← الکترون استاندارد هیدروژن (SHE)	الکترون استاندارد هیدروژن (SHE) $\leftarrow e^-$ بدهد ← نیم‌سلول X
۱- SHE کاتد و نیم‌سلول X آند است.	۱- SHE آند و نیم‌سلول X کاتد است.
۲- پتانسیل الکتروودی استاندارد نیم‌سلول X منفی است.	۲- پتانسیل الکتروودی استاندارد نیم‌سلول X مثبت است.
۳- نیم‌سلول X نسبت به SHE، تمایل کم‌تری به الکترون‌گیری دارد.	۳- نیم‌سلول X نسبت به SHE، تمایل بیش‌تری به الکترون‌گیری دارد.
۴- نیم‌سلول X نسبت به SHE، کاهنده‌ی قوی‌تری است.	۴- نیم‌سلول X نسبت به SHE، اکسنده‌ی قوی‌تری است.

**نکته:** هرچه مقدار  $E^\circ$  برای گونه‌ای بیشتر (مثبت‌تر) باشد، توانایی آن برای کاهش یافتن بیشتر است.



**مثال:** اگر پتانسیل کاهش واکنش  $\text{Ni}^{2+} + 2\text{e}^- \longrightarrow \text{Ni}$  باشد برابر  $-0/25 \text{ V}$  باشد پتانسیل اکسایش Ni برابر  $+0/25 \text{ V}$  است.

**نکته:** هرچه پتانسیل اکسایش گونه‌ی اکسید شونده بیشتر باشد، توانایی آن برای اکسید شدن بیشتر است.

**تست ۵۶:** با توجه به مقادیر  $E^\circ$  داده شده، قدرت کاهندگی گونه‌ها در کدام گزینه درست مقایسه شده است؟ 

$$E^\circ A_r / 2A^- = +1.07 V \quad \text{و} \quad E^\circ B^+ / B = -2.71 V \quad \text{و} \quad E^\circ C^{2+} / C = -0.76 V$$

$$B < C < A_r \quad (۴) \quad A_r > B^+ > C^{2+} \quad (۳) \quad C^r > A_r > B^+ \quad (۲) \quad B > C > A_r \quad (۱)$$

**پاسخ:** 

**تست ۵۷:** با توجه به مقادیر  $E^\circ$  ارایه شده، قدرت کاهندگی گونه‌ها در کدام گزینه درست مقایسه شده است؟ 

$$E^\circ I_r / 2I^- = +0.54 V \quad \text{و} \quad E^\circ Mg^{2+} / Mg = -2.38 V \quad \text{و} \quad E^\circ Fe^{2+} / Fe = -0.44 V$$

$$I^- > Mg > Fe \quad (۲)$$

$$Mg > Fe > I^- \quad (۱)$$

$$Fe > Mg > I^- \quad (۴)$$

$$I^- > Fe > Mg \quad (۳)$$

**پاسخ:** 

دستگاهی که برای سنجش تمایل عنصرها به کار گرفتن الکترون استفاده می‌شود سلول الکتروشیمیایی یا سلول گالوانی است .  
بهترین مقیاس واحد اندازه گیری « ولت » است .

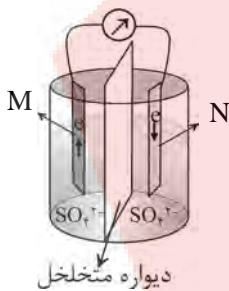
## سلولهای گالوانی یا الکتروشیمیایی:

دستگاهی که انرژی شیمیایی را به انرژی الکتریکی تبدیل می‌کند را سلول‌هایی گالوانی یا سلول‌های ولتایی است .

### سلول‌های الکتروولتی

دستگاهی که انرژی الکتریکی را به انرژی شیمیایی تبدیل می‌کند .

### ساختار یک سلول گالوانی



یک سلول گالوانی ( پیل ) از دو بخش تشکیل شده که به هر یک از این دو بخش یک ..... می‌گویند .  
هر نیم سلول از یک تیغه فلزی به نام ..... و محلول کاتیون مربوط به آن در یک ظرف ( مثلا بشر )  
تشکیل شده است .

این دو نیم سلول به وسیله‌ی یک ..... به هم وصل می‌باشند ..... یک رسانای یونی است .  
دو الکتروود به وسیله‌ی یک سیم فلز ( مدار بیرونی ) به یکدیگر متصل هستند .

**الکتروود :** هر تیغه‌ی فلزی که در محلول یکی از کاتیون‌های خود قرار داشته باشد ، را الکتروود می‌گویند .

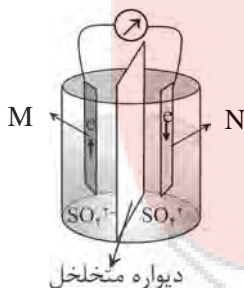
از دو الکتروود یکی به عنوان ..... ( قطب ..... ) و دیگری به عنوان ..... ( قطب ..... ) ایفای نقش می‌نمایند .

**نکته :** در آند عمل اکسایش و در کاتد عمل کاهش صورت می‌گیرد .

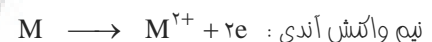
در سلول‌های استاندارد معمولا آند چپ و کاتد راست می‌باشد .

**نکته :** الکترون همیشه به وسیله‌ی سیم از آند به کاتد می‌رود و ضمن انجام واکنش از وزن تیغه آندی کاسته می‌شود

( لاغر می‌شود ) و به وزن تیغه‌ی کاتدی افزوده می‌شود . ( چاق می‌شود ) .



**نکته :** کاتد فلزی است که  $E^\circ$  بزرگتر ( مثبت تری ) دارد .





**کاتد:** الکترودی است که در آن از رسانای الکترونی ( تیغه فلزی ) به رسانای یونی ( محلول الکترولیت ) الکترون داده می‌شود .

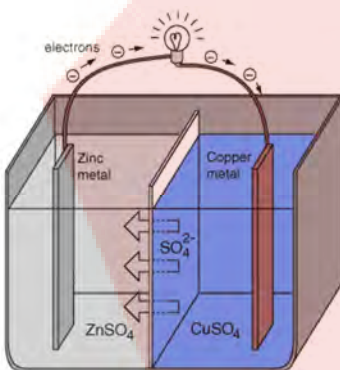
**آند:** الکترودی است که در آن از رسانای یونی ( محلول الکترولیت ) به رسانای الکترونی ( تیغه فلزی ) الکترون داده می‌شود .

**نکته:** واکنش‌های اکسایش یا کاهش در سطح الکتروود « مرز میان دو رسانای الکترونی و یونی » روی می‌دهد. از این رو به آن‌ها واکنش‌های الکتروودی می‌گویند .

**تذکره:** انتقال الکترون از طریق محلول صورت نمی‌گیرد ، بلکه محلول‌ها توسط پل نمکی به هم ارتباط دارند .

### دیواره محکم و متخلخل را بهتر بشناسیم

➤ در سلول‌های گالوانی ، دو محلول الکترولیت توسط یک دیواره‌ی محکم و متخلخل از یکدیگر جدا شده‌اند. دیواره متخلخل از جنس سفال ، خاک چینی ( کاتولن ) ، آزبست یا گرد فشرده‌ی شیشه است.



دیواره متخلخل

➤ هدف از به کار بردن دیواره متخلخل ، ایجاد توازن بار الکتریکی در هر یک از الکترولیت‌ها و ارتباط الکتریکی دو محلول می‌باشد ، بدون این که دو محلول به مقدار زیادی با هم مخلوط شوند. در واقع ، دیواره‌ی متخلخل از مخلوط شدن مستقیم و سریع دو الکترولیت جلوگیری می‌کند ، ولی یون‌های موجود در دو محلول می‌توانند از آن عبور کنند، به طوری که آنیون‌ها ضمن عبور از آن به سمت آند و کاتیون‌ها ضمن عبور از آن به سمت کاتد جا به جا می‌شوند.

➤ به شیوه‌ی عملکرد دیواره‌ی متخلخل در بخش‌های آندی و کاتیون‌های گالوانی توجه کنید.

### ولت سنج

➤ آن چه بوسیله‌ی ولت سنج اندازه گیری می‌شود ، فقط اختلاف پتانسیل موجود میان دو نیم سلول است که با یکای ولت (V) گزارش می‌شود.

➤ اگر علامت مثبت روی صفحه‌ی نمایشگر ولت سنج ظاهر شود ، نشان می‌دهد که قطب هم نام سلول الکتروشیمیایی و ولت سنج به هم متصل شده‌اند. ولی اگر علامت منفی روی صفحه نمایشگر ولت سنج ظاهر شود ، نشان می‌دهد که قطب‌های ناهم نام سلول الکتروشیمیایی و ولت سنج به هم متصل شده است. از این طریق می‌توان نوع الکترودهای سلول الکتروشیمیایی ( کاتد یا آند ) را تشخیص داد.





➤ در واقع ، شیوهی درست نصب ولت سنج در مدار آن است که الکتروود آند (-) با یک سیم فلزی به قطب منفی ولت سنج و الکتروود کاتد (+) با یک سیم فلزی به قطب ولت سنج متصل شود.

📌 **نکته:** هرچه غلظت یون‌های کاهش‌یابنده در بخش کاتدی افزایش یابد ، و غلظت یون‌ها در بخش آندی کاهش یابد ، ولتاژ افزایش می‌یابد و برعکس . ( بخش کاتدی و یون‌های آن مهم تر هستند ).

🌟 **تذکر:** اگر تیغهی ..... نیز بزرگ تر باشد ، طول عمر سلول کالوانی بیشتر است .

**تست ۵۸ :** ..... رسانای ..... هستند و ..... رسانای ..... هستند .

(۱) محلول‌ها - یونی - فلزها - یونی

(۲) محلول‌های الکترولیت - یونی - فلزها - فلزی

(۳) فلزها - الکترونی - محلول‌های الکترولیت - یونی

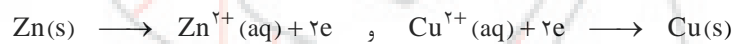
(۴) فلزها - یونی - محلول‌های الکترولیت - یونی

📝 **پاسخ :**

### بررسی ساختار سلول الکتروشیمیایی Zn - Cu



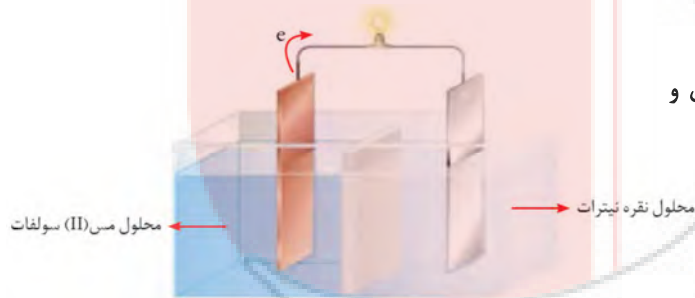
در این سلول الکتروود ..... الکترون می‌دهد و ..... می‌شود و .....  
یا قطب ..... را تشکیل می‌دهد؛ و الکتروود ..... الکترون می‌گیرد و .....  
می‌یابد و ..... قطب ..... را تشکیل می‌دهد.



الکترون‌های آزاد شده در آند از راه مدار خارجی به سمت کاتد می‌روند و در سطح تیغهی مسی جذب یون‌های  $\text{Cu}^{2+}$  موجود در محلول می‌شوند و آن‌ها را کاهش می‌دهند و الکتروود مس محل کاهش است .



واکنش کلی :



**مثال :** الف) با توجه به شکل روبرو ، واکنش‌های آندی و کاتدی و واکنش کلی را بنویسید .

🌟 **تذکره:** اگر واکنش اکسایش - کاهش در یک ظرف انجام شود انرژی حاصل از آن به صورت گرما آزار می‌شود.

اما اگر در یک سلول الکتروشیمیایی انجام شود انرژی آزاد شده به انرژی الکتریکی تبدیل و به صورت جریان برق آشکار می‌شود.

📌 **نکته:** یک فلز که در یک سلول نقش آند یا کاتد را برعهده می‌گیرد در سلول دیگر ممکن است نقش دیگری را داشته باشد.

📌 **نکته:** با گذشت زمان واکنش دهنده‌ها مصرف می‌شوند و جریان کم می‌شود و در نهایت به صفر می‌رسد.

چون شما دانش پژوهان گرانقدر علاقه‌ی وافری به مسائل محاسباتی و استوکیومتری دارید، اینجا هم مسائل عددی داریم.

### محاسبه‌ی تغییرات وزنی در دو الکترود:

$$\frac{\text{تغییرات وزنی کاتد}}{\text{جرم مولی کاتد} \times \text{شریب کاتد}} = \frac{\text{تغییرات وزنی آند}}{\text{جرم مولی آند} \times \text{شریب آند}}$$

🌟 **تذکر مهم:** همه استوکیومتری دوباره اینجا کاربرد دارد.


$$\frac{\text{تعداد الکترون‌های مبادله‌شده}}{\text{شمار مول}} = \frac{\text{ضریب کاتیون کاتدی} \times \text{بار کاتیون کاتدی} \times \text{عدد آووگادرو}}{\text{ضریب}}$$

🍎 **تست ۵۹:** در سلول گالوانی (روی - نقره)، اگر جرم تیغهی کاتد  $۴۳/۲$  گرم افزایش یابد، تقریباً چند گرم از جرم آند کاسته می‌شود؟

( $Zn = ۶۵$ ,  $Ag = ۱۰۸$  :  $g.mol^{-1}$ )

۱۹/۵ (۴)

۶/۵ (۳)

۱۳ (۲)

۲۶ (۱)

📌 **پاسخ:**

🍎 **تست ۶۰:** در سلول گالوانی (آلومینیم - آهن) برای این که  $۱۶/۲$  گرم از جرم تیغهی آند کاسته شود، چند مول الکترون باید مبادله شود؟

( $Al = ۲۷$ ,  $Ni = ۵۹$  :  $g.mol^{-1}$ )

۰/۱۵ (۴)

۱/۸ (۳)

۰/۳ (۲)

۰/۹ (۱)

📌 **پاسخ:**





**تست ۶۱:** اگر در شرایط STP حجم گاز تولید شده در سلول گالوانی که الکترودهای آن  $(Fe^{2+}/Fe)$  و  $(H^+/H_2)$  است،

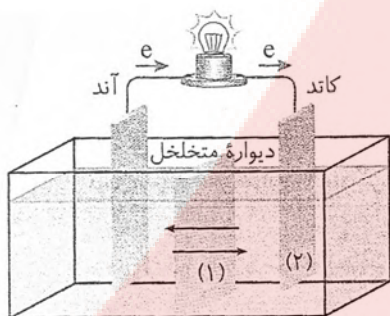
برابر ۸۰۰ میلی لیتر باشد، جرم تیغهی آندی چند گرم کاهش می یابد؟  $(Fe = ۵۶, H = ۱ : g.mol^{-1})$

- ۲ (۱)      ۱ (۲)      ۴ (۳)      ۲۰ (۴)

پاسخ:



**تست ۶۲:** چند مورد از مطالب زیر دربارهی سلول گالوانی نشان داده شده، درست است؟



(آ) سلول نشان داده شده، قادر است انرژی شیمیایی را به انرژی الکتریکی تبدیل کند.

(ب) در سلول نشان داده شده، آنیون‌ها به سمت قطب منفی و کاتیون‌ها به سمت قطب مثبت حرکت می کنند.

(پ) تیغهی آند دارای بار مثبت و تیغهی کاتد دارای بار منفی است و الکترون‌ها از قطب مثبت به سمت قطب منفی جریان می یابند.

(ت) الکترون‌های جریان یافته به سمت کاتد، توسط یون‌های (۱) دریافت می شوند و (۲) محل انجام واکنش کاهش بر روی تیغهی فلزی است.

- ۱ (۱)      ۲ (۲)      ۳ (۳)      ۴ (۴)

پاسخ:



**تست ۶۳:** کدام گزینه دربارهی سلول گالوانی (روی - مس) درست است؟

(باهم بیندیشیم ص ۴۵ کتاب درسی)

(۱) کاتیون‌های  $Zn^{2+}(aq)$  از طریق غشای متخلخل به سمت الکتروده مس حرکت می کنند.

(۲) مسیر حرکت الکترون از سمت گونهی اکسند «روی» به سمت کاهندهی «مس» است.

(۳) جرم تیغهی روی با گذشت زمان، افزایش و جرم تیغهی مس، با گذشت زمان، کاهش می یابد.

(۴) در این سلول، حرکت الکترون‌ها و حرکت یون‌ها، به صورت هم‌زمان انجام نمی شود.

پاسخ:



**تست ۶۴:** کدام مورد از مطالب زیر دربارهی سلول گالوانی «روی - مس» درست است؟

(باهم بیندیشیم ص ۴۵ کتاب درسی)

(آ) واکنش نیم سلول اکسایش به صورت  $Zn(s) \rightarrow Zn^{2+}(aq) + 2e^-$  و واکنش نیم سلول کاهش به صورت

$Cu^{2+}(aq) + 2e^- \rightarrow Cu(s)$  است.

(ب) واکنش‌های الکتروشیمیایی در سلول گالوانی «روی - مس» با قطع مدار خارجی، متوقف نمی شوند.

(پ) در این سلول حرکت کاتیون‌ها به سمت کاتد و حرکت آنیون‌ها به سمت آند، موجب می شود که دو محلول از نظر الکتریکی، خنثی باشند.

(ت) در صورتی که غشای متخلخل فقط اجازهی عبور آنیون‌ها را بدهد، غلظت آنیون‌ها در بخش کاتدی، افزایش و در بخش آندی کاهش می یابد.

- ۱ (ب) و (ت)      ۲ (ب) و (پ)      ۳ (آ) و (پ)      ۴ فقط (آ)

پاسخ:



## نیروی الکتروموتوری یا ولتاژ یا emf

برای یک سلول الکتروشیمیایی ، ولتاژ یا نیروی الکتروموتوری از رابطه‌ی زیر محاسبه می‌شود .

$$E^{\circ}_{\text{آند}} - E^{\circ}_{\text{کاتد}} = E^{\circ}_{\text{سلول}}$$

(۱) emf کوتاه شده‌ی عبارت electromotive force به معنای نیروی الکتروموتوری سلول است.

(۲) اختلاف پتانسیل الکترودی استاندارد دو نیم سلول یک سلول الکتروشیمیایی را نیروی الکتروموتوری (emf) استاندارد آن سلول می‌نامند و آن را با  $E^{\circ}$  سلول نمایش می‌دهند.

(۳) emf بیش‌ترین ولتاژی است که یک سلول الکتروشیمیایی می‌تواند به وجود بیاورد.

(۴) برای محاسبه‌ی emf ، ابتدا آند و کاتد سلول الکتروشیمیایی را معین کنید و سپس  $E^{\circ}$  آند را از  $E^{\circ}$  کاتد کم کنید.

(لوپک‌تر)  $-E^{\circ}$  (بزرگ‌تر)  $= E^{\circ}$  (نیم واکنش اکسایش)  $-E^{\circ}$  (نیم واکنش کاهش)  $= E^{\circ}$  (کاتر)  $= E^{\circ}$  (سلول) یا  $E^{\circ}$  یا emf

(۵) نیروی الکتروموتوری سلول را نیروی محرکه‌ی سلول یا ولتاژ سلول نیز می‌نامند.

(۶) ولتاژ یک سلول گالوانی با کار کردن آن و تغییر غلظت یونها در محلول هر یک از دو نیم سلول ، به تدریج کاهش می‌یابد.

(۷) نیروی الکتروموتوری ( emf ) یک سلول ولتایی به عوامل زیر بستگی دارد :

(آ) جنس الکترودهای آندی و کاتدی

(ب) غلظت الکترولیت‌های آندی و کاتدی

(پ) دما ( به طور معمول دما  $25^{\circ}\text{C}$  در نظر گرفته می‌شود. )

(۸)  $E^{\circ}$  سلول گالوانی همیشه مثبت است و چنان چه نمایشگر ولت سنج اختلاف پتانسیل دو نیم سلول را با علامت منفی گزارش کند. فقط به این معناست که قطب‌های نا هم نام سلول و ولت سنج به هم متصل شده‌اند. بنابراین  $E^{\circ}$  سلول‌های گالوانی همیشه مثبت و برابر قدرمطلق ولتاژی است که نمایشگر ولت سنج نشان می‌دهد.

**سؤال :** چرا به جای  $E^{\circ}$  ( پتانسیل کاهش ) از  $E^{\circ}$  ( پتانسیل اکسایش ) استفاده نمی‌کنیم ؟

**پاسخ :**

**تست ۶۵ :** در سلول الکتروشیمیایی آلومینیوم - مس اگر جرم الکترو آلومینیوم ۱۸ گرم کم تر شده باشد ، جرم الکترو مسی

(  $\text{Cu} = ۶۴$  و  $\text{Al} = ۲۷$  )

چند گرم بیشتر شده است ؟

۴۸ (۴)

۳۲ (۳)

۹۶ (۲)

۶۴ (۱)

**پاسخ :**



**تست ۶۶:** در کدام سلول الکتروشیمیایی، جرم الکترود آندی تغییر پیدا نمی‌کند؟

- (۱) آهن - هیدروژن (۲) هیدروژن - مس (۳) نیکل - هیدروژن (۴) نقره - آهن

**پاسخ:**



**تست ۶۷:** با توجه به آزمایش مربوط به سلول (منیزیم - مس) کدام مطلب درست است؟

- (۱) به ازای مصرف ۲/۴ گرم Mg، ۶/۴ گرم به وزن تیغه Cu افزوده می‌شود.  
 (۲) از وزن تیغه مس کاسته شده به وزن تیغه منیزیم افزوده می‌شود.  
 (۳) مس کاهنده و  $Mg^{2+}$  اکسنده است.  
 (۴) واکنش کلی سلول  $Mg + Cu^{2+} \rightarrow Mg^{2+} + Cu$  است.

**پاسخ:**



**تست ۶۸:** در سلول استاندارد گالوانی .....، با گذشت زمان ..... می‌شود.

(آزمایشی سنجش ۹۲)

- (۱) «نیکل - نقره»، از جرم تیغه نقره کاسته و بر جرم تیغه نیکل افزوده  
 (۲) «مس - نقره»، به جرم تیغه مس افزوده و از جرم تیغه نقره کاسته  
 (۳) «روی - نیکل»، از شدت رنگ محلول الکترولیت نیم سلول کاتد کاسته  
 (۴) «روی - مس»، بر شدت رنگ محلول الکترولیت نیم سلول آند افزوده

**پاسخ:**



**تست ۶۹:** هرگاه در سلول روی - نقره در حال مقداری گاز  $H_2S$  وارد شود، کدام مورد روی خواهد داد؟

- (۱) افزایش ولتاژ (Zn - Ag)  
 (۲) افزایش غلظت یون  $Zn^{2+}$   
 (۳) کاهش غلظت  $Ag^+$   
 (۴) کاهش غلظت یون  $H^+$

**پاسخ:**

**تست ۷۰:** اگر تیغه‌ای از فلز روی را در محلول رقیق روی سولفات قرار دهیم، کدام تغییر روی می‌دهد؟



- (۱) غلظت یون  $Zn^{2+}$  در محلول اندکی افزایش می‌یابد.
- (۲) تیغه فلز دارای بار مثبت می‌شود.
- (۳) یون‌های  $Zn^{2+}$  از محلول در سطح تیغه متراکم می‌شود.
- (۴) محلول دارای اندکی بار منفی می‌شود.

**پاسخ:**

**تست ۷۱:** در همه‌ی گزینه‌های زیر، عبارت بیان شده درباره‌ی طول عمر و کاربرد سول گالوانی «روی - مس» درست است به جز...



- (۱) در صورتی که تیغه‌ی روی به‌طور کامل مصرف شود، سلول از کار می‌افتد. ( باهم بیندیشیم ص ۴۵ کتاب درسی )
- (۲) جریان الکترونی موجود در سیم این سلول گالوانی، می‌تواند برای تولید انرژی شیمیایی به کار رود.
- (۳) برای جلوگیری از متوقف شدن سلول گالوانی ( روی - مس ) باید مانع تمام شدن محلول الکترولیت شویم.
- (۴) جریان الکتریکی تولید شده در اثر قرار گرفتن تیغه‌ای از روی در محلول حاوی کاتیون‌های مس، می‌تواند برای تولید انرژی الکتریکی استفاده شود.

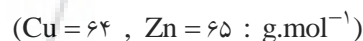
**پاسخ:**

**تست ۷۲:** با توجه به سلول گالوانی « روی - مس » کلمات کدام گزینه، عبارت‌های زیر را به درستی کامل می‌کند؟ ( به ترتیب از راست به چپ )



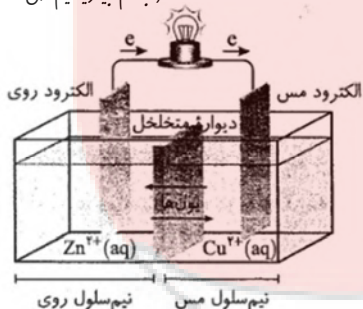
- (آ) آند و کاتد این سلول به ترتیب ..... و ..... هستند.
- (ب) جهت حرکت کاتیون‌ها از دیواره‌ی متخلخل ..... الکترون‌ها در مدار بیرونی از قطب منفی سلول به سمت قطب مثبت آن است.
- (پ) انتقال الکترون‌ها بین گونه‌های اکسند و کاهنده از طریق ..... انجام می‌شود.
- (۱) روی و مس - مشابه - سیم
- (۲) مس و روی - مشابه - سیم
- (۳) روی و مس - برخلاف - سیم
- (۴) مس و روی - برخلاف - غشای نیمه‌متخلخل

**تست ۷۳:** با توجه به شکل روبه‌رو عبارت کدام گزینه درست است؟



- (۱) با گذشت زمان از جرم الکتروود مس کاسته می‌شود.
- (۲) جهت حرکت آنیون‌ها از قطب منفی به سمت قطب مثبت آن است.
- (۳) برخی از یون‌های روی از دیواره‌ی متخلخل عبور کرده و وارد نیم‌سلول مس می‌شوند.

( باهم بیندیشیم ص ۴۵ کتاب درسی )



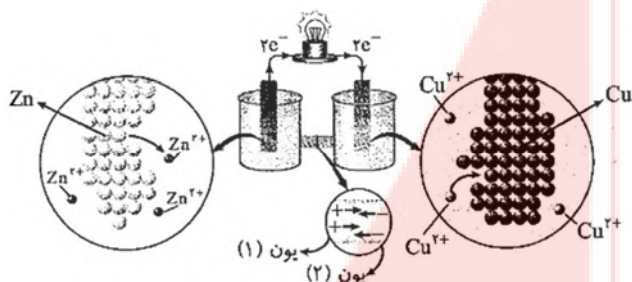
(۴) اگر میله‌ی روی در محلول مس (II) نیترات قرار بگیرد، رنگ آبی محلول الکتروود مس، به تدریج افزایش می‌یابد.

**پاسخ:**



**تست ۷۴ :** با توجه به شکل داده شده که سلول گالوانی « روی - مس » را نشان

( با هم بیندیشیم ص ۳۵ کتاب درسی )



می‌دهد ، چند مورد از مطالب زیر درست است؟

(آ) یون (۱) ، یون مس (II) و یون (۲) ، یون سولفات است.

(ب) تراکم نسبی الکترون‌ها بر روی سطح تیغی مس ، بیش‌تر از سطح تیغی روی است.

(پ) در واکنش انجام شده در سلول مقابل ، اتم Zn(s) اکسایش و اتم Cu(s) کاهش می‌یابد.

(ت) تمایل مس برای کاهش‌دهی ، کم‌تر از روی و تمایل یون مس (II) برای اکسیدشدگی ، بیش‌تر از یون روی است.

۱ (۴)                      ۲ (۳)                      ۳ (۲)                      ۴ (۱)

**پاسخ :**



**تست ۷۵ :** اگر دیواره‌ی متخلخل در سلول گالوانی « روی - مس » وجود نداشته باشد ، کدام یک از گزینه‌های زیر ، روی نمی‌دهد؟

(۱) جریان مدار به تدریج قطع می‌شود و سلول گالوانی از کار می‌افتد.

(۲) الکترون‌ها جذب تیغی روی می‌شوند و فرآیند کاهش در نیم‌سلول کاتدی صورت نمی‌پذیرد.

(۳) به دلیل اکسایش Zn(s) و ورود کاتیون‌های روی به محلول ، محلول آند دارای بار الکتریکی مثبت می‌شود.

(۴) تجمع بارهای مثبت ، پس از مدتی اجازه نمی‌دهد که الکترون‌ها در سیم از سمت تیغی آندی به سمت تیغی کاتدی حرکت کنند.

**پاسخ :**



**تست ۷۶ :** در سلول گالوانی تشکیل شده از دو فلز Mg - Cu در ازای خورده شدن ۶/۰ گرم از آند، چند گرم بر جرم کاتد

(Cu = ۶۴ و Mg = ۲۴)

اضافه می‌شود؟

۱/۶ (۱)                      ۶/۴ (۲)                      ۲/۴ (۳)                      ۰/۳۲ (۴)

**پاسخ :**



**تست ۷۷ :** با توجه به مقدار  $E^\circ$  الکترودهای داده شده ، کدام مطلب نادرست است؟

$E^\circ (\text{Ni}^{2+}(\text{aq}) / \text{Ni}(\text{s})) = -0.25 \text{ V}$  و  $E^\circ (\text{Fe}^{2+}(\text{aq}) / \text{Fe}(\text{s})) = -0.41 \text{ V}$

$E^\circ (\text{V}^{2+}(\text{aq}) / \text{V}(\text{s})) = -1.20 \text{ V}$  و  $E^\circ (\text{Zn}^{2+}(\text{aq}) / \text{Zn}(\text{s})) = -0.76 \text{ V}$

(۱) اتم وانادیم کاهش‌دهنده‌تر از اتم روی است.

(۲) کاتیون  $\text{Fe}^{2+}(\text{aq})$  ، اکسندتر از کاتیون  $\text{Ni}^{2+}(\text{aq})$  است.

(۳) در سلول الکتروشیمیایی استاندارد وانادیم - نیکل ، الکتروود وانادیم نقش آند را دارد.

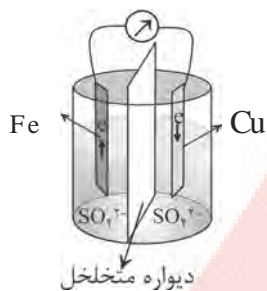
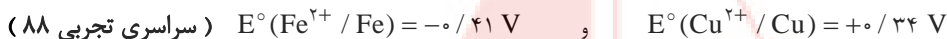
(۴) در سلول الکتروشیمیایی استاندارد روی - آهن ، جریان الکترون در مدار بیرونی از تیغی روی به سوی آهن است.

**پاسخ :**





**تست ۷۷ :** با توجه به شکل روبرو که به سلول الکتروشیمیایی استاندارد « آهن - مس » مربوط است ، کدام مطلب نادرست است؟



(۱)  $E^\circ$  این سلول برابر ۰/۷۵ ولت است.

(۲) الکتروود مس در آن کاتد (قطب مثبت) است.


(۳) جریان الکترون در مدار بیرونی از تیغه مس به سوی تیغه آهن است.

(۴) واکنش در سلول به صورت :



**پاسخ :**

(فرد را بیازمایید صفحه ۴۱ کتاب درسی)



**تست ۷۸ :** شکل روبرو نمای ذره‌ای از سلول گالوانی « مس - نقره » را

نشان می‌دهد. با توجه به آن ، کدام عبارت درست است؟

(۱) با پیشرفت واکنش ، تعادل  $\text{Cu}^{2+}(\text{aq}) + 2\text{e}^- \rightleftharpoons \text{Cu(s)}$  به سمت راست جابه‌جا می‌شود.

(۲) جهت حرکت الکترون در این سلول ، در مدار خارجی از سمت نیم‌سلول نقره به مس است.

(۳) نقش نیم‌سلول نقره در این سلول ، همانند نقش نیم‌سلول روی در سلول آلومینیم - روی است.

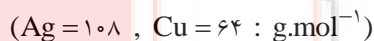
(۴) با گذشت زمان ، از شدت رنگ آبی نیم‌سلول مس کاسته می‌شود.

**پاسخ :**

**تست ۷۹ :** در سلول گالوانی « مس - نقره » ، با جابه‌جایی  $2/5$  مول الکترون در مدار خارجی تفاوت جرم دو الکتروود چند گرم

می‌شود و جهت حرکت یون‌های منفی از دیواره‌ی متخلخل در این سلول چگونه است؟ (جرم اولیه‌ی دو الکتروود یکسان است.)

(فرد را بیازمایید صفحه ۴۱ کتاب درسی)



(۱) - ۳۵۰ از نیم‌سلول نقره به نیم‌سلول مس

(۲) - ۳۵۰ از نیم‌سلول مس به نیم‌سلول نقره

(۳) - ۱۹۰ از نیم‌سلول نقره به نیم‌سلول مس

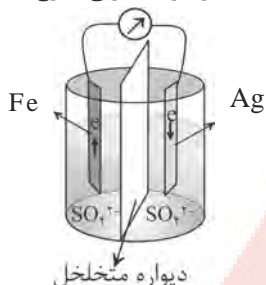
(۴) - ۱۹۰ از نیم‌سلول مس به نیم‌سلول نقره

**پاسخ :**



**تست ۸۰ :** با توجه به شکل که طرح ساده‌ای از یک سلول الکتروشیمیایی آهن - نقره است ، کدام مطلب درست است؟

(سراسری تجربی خارج کشور ۹۰)  $E^\circ(\text{Fe}^{2+}(\text{aq}) / \text{Fe}(\text{s})) = -0.41$  و  $E^\circ(\text{Ag}^+(\text{aq}) / \text{Ag}(\text{s})) = +0.80$



(۱)  $E^\circ$  آن برابر  $+0.39$  ولت است.

(۲) ضمن واکنش در آن ، بر مقدار یون  $\text{Fe}^{2+}(\text{aq})$  در محلول افزوده می‌شود.

(۳) دیواره متخلخل در آن نقش برقرار کردن جریان الکترون در مدار درونی از الکتروود آهن به سوی الکتروود نقره را دارد.

(۴) نیم واکنش در قطب مثبت آن به صورت:  $\text{Fe}(\text{s}) \rightarrow \text{Fe}^{2+}(\text{aq}) + 2\text{e}^-$  است.

**پاسخ :**



**تست ۸۱ :** با توجه به شکل روبرو که طرحی از یک سلول الکتروشیمیایی « روی - نقره » را نشان می‌دهد ، کدام مطلب درباره آن درست است؟

(سراسری تجربی ۹۰)

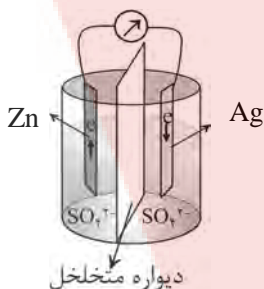
$E^\circ(\text{Ag}^+(\text{aq}) / \text{Ag}(\text{s})) = +0.80 \text{ V}$  و  $E^\circ(\text{Zn}^{2+}(\text{aq}) / \text{Zn}(\text{s})) = -0.76 \text{ V}$

(۱)  $E^\circ$  آن برابر  $+2/36$  ولت است.

(۲) الکتروود نقره در آن قطب مثبت و محل انجام نیم واکنش اکسایش است.

(۳) الکتروود روی در آن‌د است و الکترون از آن در مدار بیرونی به سوی الکتروود نقره جریان می‌یابد.

(۴) واکنش کلی آن به صورت  $\text{Zn}^{2+}(\text{aq}) + 2\text{Ag}(\text{s}) \rightarrow \text{Zn}(\text{s}) + 2\text{Ag}^+(\text{aq})$  است.



**پاسخ :**



**تست ۸۲ :** با توجه به شکل روبرو که به سلول الکتروشیمیایی « روی - نیکل » مربوط است ، کدام مطلب درست است؟

(سراسری تجربی ۹۱)

$E^\circ(\text{Ni}^{2+}(\text{aq}) / \text{Ni}(\text{s})) = -0.25 \text{ V}$

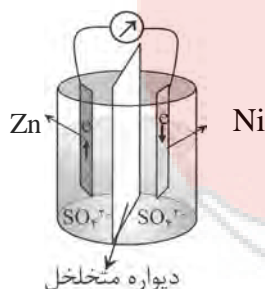
$E^\circ(\text{Zn}^{2+}(\text{aq}) / \text{Zn}(\text{s})) = -0.76 \text{ V}$

(۱)  $E^\circ$  آن برابر  $1/01$  ولت است.

(۲) ضمن آن واکنش سلول ،  $[\text{Ni}^{2+}]$  افزایش می‌یابد.

(۳) واکنش سلول ، با اکسایش  $\text{Zn}(\text{s})$  و کاهش  $\text{Ni}^{2+}(\text{aq})$  همراه است.

(۴) در قطب مثبت آن نیم واکنش:  $\text{Zn}(\text{s}) \rightarrow \text{Zn}^{2+}(\text{aq}) + 2\text{e}^-$  انجام می‌گیرد.

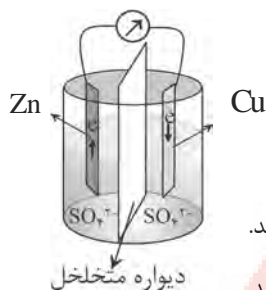


**پاسخ :**

**تست ۸۳ :** با توجه به شکل زیر که تصویری از یک سلول گالوانی استاندارد است ، کدام گزینه درست است؟



( سراسری تجربی ۹۲ )



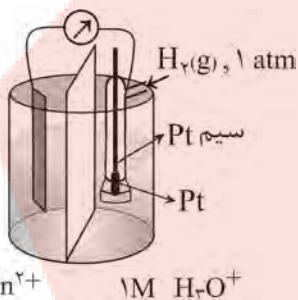
$$E^{\circ}(\text{Zn}^{2+}(\text{aq}) / \text{Zn}(\text{s})) = -0.76 \text{ V}$$

$$E^{\circ}(\text{Cu}^{2+}(\text{aq}) / \text{Cu}(\text{s})) = +0.34 \text{ V}$$

- (۱) آند در آن ، قطب مثبت است و فلز مس در آن اکسید و به یون  $\text{Cu}^{2+}(\text{aq})$  تبدیل می‌شود.
- (۲) الکتروود مس کاتد و الکتروود روی آند است و  $E^{\circ}$  آن با کم کردن  $E^{\circ}$  کاتد از  $E^{\circ}$  آند به دست می‌آید.
- (۳) الکتروود روی قطب منفی است و ضمن کار کردن سلول ، غلظت یون  $\text{Zn}^{2+}(\text{aq})$  در آن کاهش می‌یابد.
- (۴) جریان الکترون در مدار بیرونی از سوی آند به سوی کاتد است و کاتیون از دیواره متخلخل به سوی الکتروود مس حرکت می‌کند.

**پاسخ :**

**تست ۸۴ :** با توجه به شکل روبرو و  $E^{\circ}$  الکتروودها ، کدام عبارت درست است؟



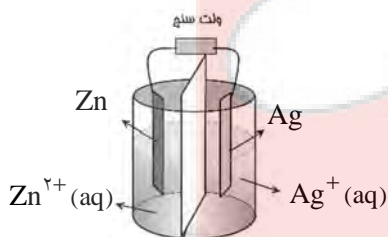
$$E^{\circ}(\text{Zn}^{2+}(\text{aq}) / \text{Zn}(\text{s})) = -0.76 \text{ v}$$

$$E^{\circ}(\text{Pt}^{2+}(\text{aq}) / \text{Pt}(\text{s})) = +1.2 \text{ v}$$

- (۱) با انجام واکنش در این سلول غلظت  $\text{Zn}^{2+}(\text{aq})$  کاهش یافته و برخی کاتیون‌ها به سوی الکتروود روی حرکت می‌کنند.
- (۲) ضمن انجام واکنش در این سلول، جرم تیغه فلزی در کاتد ، بر خلاف جرم تیغه فلزی در آند ، ثابت می‌ماند.
- (۳) واکنش کلی این سلول به صورت  $\text{Zn}(\text{s}) + \text{Pt}^{2+}(\text{aq}) \longrightarrow \text{Zn}^{2+}(\text{aq}) + \text{Pt}(\text{s})$  است.
- (۴) الکتروود روی ، کاتد است و قطب مثبت این سلول گالوانی را تشکیل می‌دهد.

**پاسخ :**

**تست ۸۵ :** با توجه به شکل روبرو و  $E^{\circ}$  الکتروودها ، کدام عبارت درست است؟



$$(\text{Ag} = 108, \text{Zn} = 65 : \text{g} \cdot \text{mol}^{-1})$$

$$E^{\circ}(\text{Zn}^{2+}(\text{aq}) / \text{Zn}(\text{s})) = -0.76 \text{ v}$$

$$E^{\circ}(\text{Ag}^{+}(\text{aq}) / \text{Ag}(\text{s})) = +0.80 \text{ v}$$

- (۱) اگر میله‌ی روی ، به طور مستقیم وارد محلول نقره نیترات شود ،  $[\text{Ag}^{+}]$  به تدریج ، افزایش می‌یابد.
- (۲) برخی از یون‌های روی از دیواره‌ی متخلخل عبور کرده و وارد نیم سلول نقره می‌شوند.
- (۳) با اضافه کردن  $\text{Zn}(\text{NO}_3)_2$  به محلول کاتدی ، واکنش الکتروشیمیایی انجام می‌شود.
- (۴) اگر محلول اولیه‌ی آندی و کاتدی حجم و غلظت یکسانی از سولفات فلز مربوطه داشته باشد ، مقدار تغییر جرم تیغه‌ی کاتدی برابر تیغه‌ی آندی خواهد بود.

**پاسخ :**




### جدول پتانسیل کاهشی استاندارد

جدول پتانسیل کاهشی استاندارد بر اساس  $E^\circ$  SHE می‌باشد. به این صورت که هر عنصری که به (SHE) الکترون بدهد آن فلز یا عنصر  $E^\circ$  ..... دارد .

**نکته:** هرچه  $E^\circ$  فلزی منفی‌تر باشد (کوچک‌تر باشد) آن فلز ..... است و تمایل بیشتری برای از دست دادن الکترون دارد و قدرت ..... بیشتری دارد .

و هرچه  $E^\circ$  عنصری ..... ( ..... ) باشد آن فلز فعالیت ..... دارد و اگر نافلز باشد ، نافلز فعال تری است و قدرت ..... و قدرت ..... آن عنصر بیشتر است .

در جدول پتانسیل کاهشی استاندارد ، فلز ..... کاهنده‌ترین عنصر است که در کتاب شیمی ۳ بیان نشده است ، اینجا می‌باشد.



این ۸ جمله را در مورد  $E^\circ$  فووب در حافظه خود *Save* کنید :

#### ❖❖ اگر علامت $E^\circ$ یک نیم سلول منفی باشد

- (۱) در جدول  $E^\circ$  بالاتر از SHE قرار دارد.
- (۲) گونه‌ی سمت راست آن از  $\text{H}_2$  کاهنده قوی‌تری است.
- (۳) گونه‌ی سمت چپ آن از  $\text{H}_3\text{O}^+$  اکسندنده ضعیف‌تری است.
- (۴) با اتصال به SHE ، جهت حرکت الکترون‌ها به سمت SHE خواهد بود.

#### ❖❖ اگر علامت $E^\circ$ یک نیم سلول مثبت باشد

- (۱) در جدول  $E^\circ$  پایین‌تر از SHE قرار دارد.
- (۲) گونه‌ی سمت چپ آن از  $\text{H}_3\text{O}^+$  اکسندنده قوی‌تری است.
- (۳) گونه‌ی سمت راست آن از  $\text{H}_2$  کاهنده ضعیف‌تری است.
- (۴) با اتصال به SHE ، جهت حرکت الکترون‌ها از SHE به سمت این نیم سلول خواهد بود.



جدول پتانسیل کاهش

نیم واکنش	$E^{\circ}$ (ولت)
$F_2(aq) + 2e^- \rightleftharpoons 2F^-(aq)$	+۲/۸۷
$O_2(g) + 2H^+(aq) + 2e^- \rightleftharpoons H_2O(l)$	+۲/۰۷
$Co^{2+}(aq) + e^- \rightleftharpoons Co^{+}(aq)$	+۱/۸۲
$Au^+(aq) + e^- \rightleftharpoons Au(s)$	+۱/۶۸
$MnO_4^-(aq) + 8H^+(aq) + 5e^- \rightleftharpoons Mn^{2+}(aq) + 4H_2O(l)$	+۱/۵۲
$Cl_2(g) + 2e^- \rightleftharpoons 2Cl^-(aq)$	+۱/۳۶
$O_2(g) + 2H^+(aq) + 2e^- \rightleftharpoons H_2O(l)$	+۱/۲۳
$Pt^{2+}(aq) + 2e^- \rightleftharpoons Pt(s)$	+۱/۲۰
$Br_2(l) + 2e^- \rightleftharpoons 2Br^-(aq)$	+۱/۰۷
$Hg^{2+}(aq) + 2e^- \rightleftharpoons Hg(l)$	+۰/۸۵
$Ag^+(aq) + e^- \rightleftharpoons Ag(s)$	+۰/۸۰
$Fe^{3+}(aq) + e^- \rightleftharpoons Fe^{2+}(aq)$	+۰/۷۷
$O_2(g) + 2H^+(aq) + 2e^- \rightleftharpoons H_2O_2(aq)$	+۰/۶۸
$MnO_4^-(aq) + e^- \rightleftharpoons MnO_4^{2-}(aq)$	+۰/۵۶
$Sn^{4+}(aq) + 2e^- \rightleftharpoons Sn^{2+}(aq)$	+۰/۱۵
$Cu^{2+}(aq) + 2e^- \rightleftharpoons Cu(s)$	+۰/۳۴
$O_2(g) + 2H_2O(l) + 4e^- \rightleftharpoons 4OH^-(aq)$	+۰/۴۰
$Cu^+(aq) + e^- \rightleftharpoons Cu(s)$	+۰/۵۲
$I_2(s) + 2e^- \rightleftharpoons 2I^-(aq)$	+۰/۵۴
$2H^+(aq) + 2e^- \rightleftharpoons H_2(g)$	۰/۰۰
$Fe^{3+}(aq) + 3e^- \rightleftharpoons Fe(s)$	-۰/۰۴
$Pb^{2+}(aq) + 2e^- \rightleftharpoons Pb(s)$	-۰/۱۳
$Sn^{2+}(aq) + 2e^- \rightleftharpoons Sn(s)$	-۰/۱۴
$Ni^{2+}(aq) + 2e^- \rightleftharpoons Ni(s)$	-۰/۲۵
$V^{3+}(aq) + e^- \rightleftharpoons V^{2+}(aq)$	-۰/۲۶
$Co^{2+}(aq) + 2e^- \rightleftharpoons Co(s)$	-۰/۲۸
$Cr^{3+}(aq) + e^- \rightleftharpoons Cr^{2+}(aq)$	-۰/۴۰
$Fe^{2+}(aq) + 2e^- \rightleftharpoons Fe(s)$	-۰/۴۴
$Cd^{2+}(aq) + 2e^- \rightleftharpoons Cd(s)$	-۰/۴۴
$Cr^{3+}(aq) + 3e^- \rightleftharpoons Cr(s)$	-۰/۷۴
$Zn^{2+}(aq) + 2e^- \rightleftharpoons Zn(s)$	-۰/۷۶
$2H_2O(l) + 2e^- \rightleftharpoons H_2(g) + 2OH^-(aq)$	-۰/۸۳
$Mn^{2+}(aq) + 2e^- \rightleftharpoons Mn(s)$	-۱/۱۸
$V^{3+}(aq) + 3e^- \rightleftharpoons V(s)$	-۱/۲۰
$Al^{3+}(aq) + 3e^- \rightleftharpoons Al(s)$	-۱/۶۶
$Mg^{2+}(aq) + 2e^- \rightleftharpoons Mg(s)$	-۲/۳۸
$Na^+(aq) + e^- \rightleftharpoons Na(s)$	-۲/۷۱
$Ca^{2+}(aq) + 2e^- \rightleftharpoons Ca(s)$	-۲/۸۷
$Ba^{2+}(aq) + 2e^- \rightleftharpoons Ba(s)$	-۲/۹۰
$K^+(aq) + e^- \rightleftharpoons K(s)$	-۲/۹۲



**تمرین :** کدام یک از عنصرهای زیر در برابر هیدروژن (SHE) آند و کدام یک کاتد هستند؟

( $E^\circ$  رو که حفظ نمی‌کنند! از رو جدول ببین)

- |        |        |                     |                    |
|--------|--------|---------------------|--------------------|
| Cu (۴) | Fe (۳) | Br <sub>۲</sub> (۲) | Ba (۱)             |
| Mn (۸) | Cd (۷) | Zn (۶)              | I <sub>۲</sub> (۵) |

پاسخ:

**تست ۸۶ :** کدام فلز زیر قدرت کاهندگی بیش‌تری دارد؟

- |        |        |        |        |
|--------|--------|--------|--------|
| Sn (۴) | Cu (۳) | Ag (۲) | Na (۱) |
|--------|--------|--------|--------|

پاسخ:

**تست ۸۷ :** قدرت اکسندگی ..... بیش‌تر از ..... و کم‌تر از ..... است.

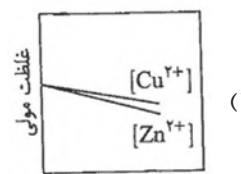
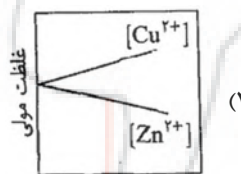
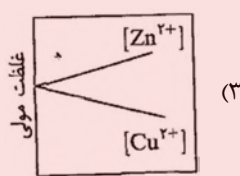
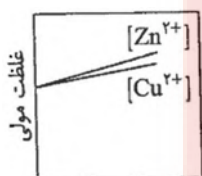
- |                        |                           |
|------------------------|---------------------------|
| (۲) کلر - برم - اکسیژن | (۱) کلر - اکسیژن - فلوئور |
| (۴) اکسیژن - کلر - ید  | (۳) اکسیژن - کلر - فلوئور |

پاسخ:

**تست ۸۸ :** با توجه به پتانسیل  $E^\circ$  دو فلز روی و مس ، کدام نمودار تغییر غلظت یون‌های موجود در سلول گالوانی تشکیل شده از

(تمرین دوره‌ای صفحه ۶۴)

این دو عنصر را نشان می‌دهد؟ ( $E^\circ(\text{Cu}^{2+}/\text{Cu}) = +0.34\text{V}$  ,  $E^\circ(\text{Zn}^{2+}/\text{Zn}) = -0.76\text{V}$ )



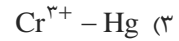
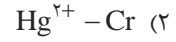
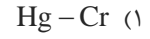
پاسخ:

**تست ۸۹ :** با توجه به جدول پتانسیل‌های کاهش استاندارد داده شده ، کدام گونه ، کاهنده ی قوی‌تر و کدام گونه اکسنده‌ی



قوی‌تری است؟ (از راست به چپ )

نیم‌واکنش	$E^\circ(V)$
$Ni^{2+}(aq) + 2e^- \longrightarrow Ni(s)$	-۰ / ۲۵
$Cr^{3+}(aq) + 3e^- \longrightarrow Cr(s)$	-۰ / ۷۴
$Hg^{2+}(aq) + 2e^- \longrightarrow Hg(l)$	+۰ / ۸۵
$2H^+(aq) + 2e^- \longrightarrow H_2(g)$	۰



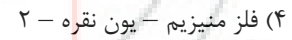
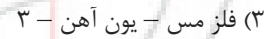
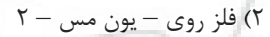
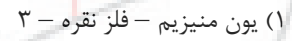
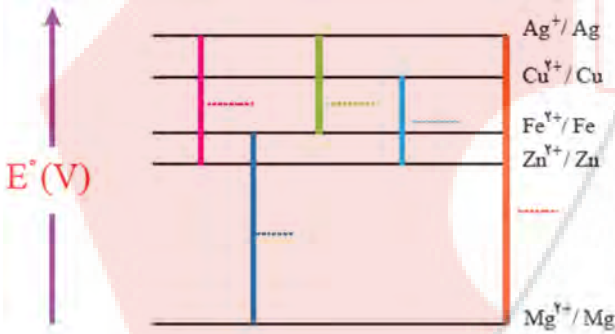
پاسخ :

**تست ۹۰ :** با توجه به نمودار روبه‌رو ، کاهنده‌ترین و اکسنده‌ترین گونه در این نمودار به ترتیب از راست به چپ کدام‌اند و چند مورد



( پیوند ریاضی صفحه ۴۸ )

از این الکترودها در واکنش با نیم‌سلول SHE نقش کاتد را ایفا خواهد کرد؟



پاسخ :



### پیشگویی درباره انجام پذیر بودن یا انجام ناپذیر بودن واکنش ها

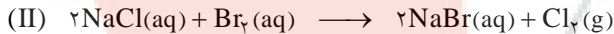

یک واکنش شیمیایی را می‌توان به دو نیم واکنش تقسیم کرد و اگر فرض کنیم این واکنش در یک سلول الکتروشیمیایی رخ می‌دهد و می‌توان تصور کرد که هر نیم واکنش نیز در یک نیم سلول انجام می‌گیرد و با پیدا کردن پتانسیل‌های کاهشی هر نیم سلول و محاسبه  $E^\circ$  می‌توان به راحتی انجام پذیری یا انجام ناپذیری واکنش یاد شده را پیش بینی کرد.

الف) اگر علامت  $E^\circ$  ..... باشد، واکنش از سمت چپ به راست انجام پذیر خواهد بود.

ب) اگر علامت سلول  $E^\circ$  ..... باشد، حکایت از انجام ناپذیر بودن واکنش یا انجام پذیر بودن واکنش از سمت راست به چپ دارد.

**نکته:** برای تعیین انجام پذیر بودن یا عدم انجام پذیر بودن واکنش از روی  $E^\circ$  نیم سلول‌ها نمی‌توان  $E^\circ$  سلول را تعیین کرد. بلکه باید از روی واکنش آند یا کاتد معلوم شود و سپس از  $E^\circ$  ها برای محاسبه  $E^\circ$  کلی استفاده کرد.

**تمرین:** کدام یک از واکنش‌های زیر انجام پذیرند؟



نیم واکنش	$E^\circ$ (ولت)
$\text{Fe}^{2+}(\text{aq}) + 2e \rightleftharpoons \text{Fe(s)}$	$E^\circ = -0.409 \text{ V}$
$2\text{H}^+(\text{aq}) + 2e \rightleftharpoons \text{H}_2(\text{g})$	$E^\circ = +0.00 \text{ V}$
$\text{Br}_2(\text{aq}) + 2e \rightleftharpoons 2\text{Br}^-(\text{aq})$	$E^\circ = +1.08 \text{ V}$
$\text{Cl}_2(\text{aq}) + 2e \longrightarrow 2\text{Cl}^-(\text{aq})$	$E^\circ = +1.358 \text{ V}$



### نکاتی در مورد جدول پتانسیل کاهش استاندارد :

عناصر بالای جدول پتانسیل کاهشى ..... دارند پس خاصیت کاهندگی ..... دارند . این وضعیت در مورد عناصر پایین جدول برعکس است . بنابراین ..... کاهنده‌ترین عنصر و ..... اکسنده‌ترین عنصر است .  
 در تشکیل یک سلول الکتروشیمیایی از دو فلز ، همیشه فلز ..... (  $E^\circ$  ) آند و فلز ..... (  $E^\circ$  ) کاتد را تشکیل می‌دهد .  
 فلز بالاتر (  $E^\circ$  منفی تر ) می‌تواند کاتیون فلز پایین‌تر (  $E^\circ$  مثبت‌تر ) را از یک ترکیب جدا کند به این ترتیب می‌توان انجام پذیر بودن واکنش را پیش بینی کرد .  
 می‌توان گفت که در فلزات قانون ..... حاکم است .

فلز پایین‌تر + کاتیون فلز بالاتر  $\longrightarrow$  کاتیون فلز پایین‌تر + فلز بالاتر



**نکته:** فلزاتی که بالاتر از آب هستند با آب واکنش می‌دهند و گاز هیدروژن آزاد می‌کنند . فلزات اصلی مانند :

$\text{Cr}^{2+}$  , Ti , Mn , Ca , K , Na



**نکته:** فلزاتی که  $E^\circ$  منفی دارند « بالای هیدروژن » با اسیدهای قوی نظیر نیتریک اسید و سولفوریک اسید و هیدروکلریک اسید واکنش می‌دهند و گاز هیدروژن آزاد می‌کنند .

**تست ۹۱:** فلزهایی با هیدروکلریک اسید واکنش می‌دهند که .....



(۱) در تشکیل سلول با هیدروژن نقش قطب مثبت داشته باشند .

(۲) پتانسیل الکتروکاهش آن‌ها مثبت باشد .



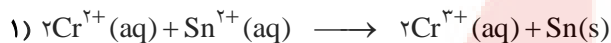
(۳) در تشکیل سلول با هیدروژن نقش کاتد داشته باشند .

(۴) پتانسیل الکتروکاهش آن‌ها منفی باشد .

**پاسخ:**



**تست ۹۲:** با توجه به واکنش‌های داده شده که به‌طور طبیعی انجام می‌شوند، کدام گزینه درست است؟ (تمرین دوره‌ای صفحه ۶۴)



۱) قدرت کاهندگی گونه‌ها به صورت  $\text{Sn} > \text{Cr}^{2+} > \text{Fe}$  است.

۲) در جدول پتانسیل کاهش استاندارد، نیم‌واکنش  $\text{Sn}^{2+}(\text{aq}) + 2\text{e}^{-} \longrightarrow \text{Sn}(\text{s})$  بالاتر از بقیه قرار دارد.

۳) در جدول پتانسیل کاهش استاندارد، نیم‌واکنش  $\text{Cr}^{3+}(\text{aq}) + \text{e}^{-} \longrightarrow \text{Cr}^{2+}(\text{aq})$  بین دو نیم‌واکنش دیگر قرار دارد.

۴) قدرت اکسندگی گونه‌ها به صورت  $\text{Sn}^{2+} > \text{Cr}^{2+} > \text{Fe}^{2+}$  است.

**پاسخ:**



**تست ۹۳:** با توجه به واکنش زیر، M می‌تواند فلز ..... باشد که در جدول تناوبی در گروه ..... و در جدول پتانسیل کاهش

(سنجش ۹۳)



الکترودی استاندارد در ..... هیدروژن جای دارد.

۱) مس - IIB - پایین

۲) مس - IB - پایین

۳) نیکل - VIIIIB - بالای

۴) نیکل - VIIB - بالای

**پاسخ:**



**تست ۹۴:** کدام مطلب در مورد سلول (پیل) الکتروشیمیایی «روی - نقره» درست است؟

$$E^{\circ}(\text{Ag}^{+} / \text{Ag}) = +0.8 \text{ V} \quad \text{و} \quad E^{\circ}(\text{Zn}^{2+} / \text{Zn}) = -0.76 \text{ V}$$

۱) الکتروود روی در آن مثبت است و یون‌های  $\text{Zn}^{2+}$  اکسید می‌شوند.

۲) الکترون در آن از درون محلول از تیغه روی به تیغه نقره می‌رود.





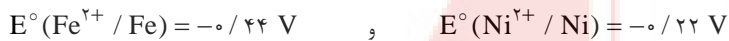

۳) ضمن واکنش غلظت  $\text{Ag}^{+}$  در محلول افزایش می‌یابد و یون‌های  $\text{Ag}^{+}$  کاهش می‌یابند.

۴)  $E^{\circ}$  آن برابر  $1/56$  ولت است.

**پاسخ:**


( سراسری - ۸۷ )

**تست ۹۵ :** کدام واکنش ، در جهتی که نشان داده شده است ، انجام پذیر است ؟



**پاسخ :**

**تست ۹۶ :** در مورد سلول ( پیل ) الکتروشیمیایی ( آهن - نقره ) کدام مطلب درست است ؟



(۱) الکتروود آهن در آهن نقش کاتد و الکتروود نقره نقش آنود را دارد .

(۲) ضمن واکنش آن غلظت  $\text{Ag}^+$  کاهش و غلظت  $\text{Fe}^{2+}$  افزایش می یابد .

(۳)  $E^\circ$  آن برابر  $+0.36$  ولت است .

(۴) واکنش آن به صورت  $\text{Fe} + 2\text{Ag}^+ \longrightarrow \text{Fe}^{2+} + 2\text{Ag}$  است .

**پاسخ :**

( سراسری تجربی خارج کشور ۹۲ )

**تست ۹۷ :** با توجه به  $E^\circ$  الکترودها :



چند واکنش اکسایش - کاهش داده شده ی زیر ، به صورت خود به خودی انجام می شود؟



۴ (۴)

۳ (۳)

۲ (۲)

۱ (۱)

**پاسخ :**



**تست ۹۸ :** با توجه به  $E^\circ$  الکتروود نیکل ( $-0.25V$ ) و  $E^\circ$  الکتروود مس ( $+0.34V$ ) کدام مطلب در شرایط استاندارد ، نادرست است؟

( سراسری ریاضی خارج کشور ۸۸ )

(۱)  $Cu^{2+}(aq)$  از  $Ni^{2+}(aq)$  اکسندتر است.

(۲)  $Ni(s)$  از  $Cu(s)$  ، کاهنده تر است.

(۳)  $Cu(s)$  می تواند  $Ni^{2+}(aq)$  را در محلول ، به صورت  $Ni(s)$  آزاد کند.

(۴)  $Ni(s)$  می تواند  $Cu^{2+}(aq)$  را در محلول ، به صورت  $Cu(s)$  آزاد کند.

**پاسخ :**



**تست ۹۹ :** با توجه به  $E^\circ$  نیم واکنش های داده شده ، کدام مطلب درست است؟

( سراسری ریاضی ۹۲ )

$E^\circ(Ni^{2+}(aq)/Ni(s)) = -0.25V$  و  $E^\circ(Zn^{2+}(aq)/Zn(s)) = -0.76V$  و  $E^\circ(Fe^{2+}(aq)/Fe(s)) = -0.44V$

(۱) در شرایط استاندارد ، فلز آهن با محلول نمک های روی واکنش می دهد.

(۲) قدرت کاهندگی این سه فلز ، به صورت  $Ni > Fe > Zn$  است.

(۳) قدرت اکسندگی این سه کاتیون به صورت  $Zn^{2+}(aq) > Fe^{2+}(aq) > Ni^{2+}(aq)$  است.

(۴) تفاوت  $E^\circ$  سلول الکتروشیمیایی آهن - نیکل با  $E^\circ$  سلول الکتروشیمیایی روی - نیکل برابر  $0.32V$  است.

**پاسخ :**



**تست ۱۰۰ :** اگر  $E^\circ$  واکنش :  $A^{2+}(aq) + B(s) \longrightarrow B^{2+}(aq) + A(s)$  ، منفی و  $E^\circ$  واکنش

( سراسری ریاضی ۹۳ )

$B(s) + D^{2+}(aq) \longrightarrow B^{2+}(aq) + D(s)$  مثبت باشد ، کدام گزینه همواره درست است؟

(۱) ترتیب کاهندگی این فلزها ، به صورت :  $D > A > B$  است.

(۲) ترتیب اکسندگی کاتیون های سه فلز به صورت :  $A^{2+} > D^{2+} > B^{2+}$  است.

(۳) واکنش :  $A(s) + D^{2+}(aq) \longrightarrow A^{2+}(aq) + D(s)$  ، در شرایط استاندارد خود به خودی است.

(۴) اگر پتانسیل کاهش استاندارد الکتروود  $D$  برابر  $+0.33V$  ولت باشد ، فلز  $A$  با محلول هیدروکلریک اسید واکنش می دهد.

**پاسخ :**



**تست ۱۰۱:** اگر جرم اولیه آند در سلول الکتروشیمیایی Mg – Cu برابر با ۴۸ گرم باشد، به ازای خورده شدن چند درصد از جرم آند، ۲/۵۶ گرم بر جرم کاتد افزوده می‌شود؟ (Cu = ۶۴ , Mg = ۲۴)

- ۴۸ (۱)      ۱ (۲)      ۲ (۳)      ۲۴ (۴)

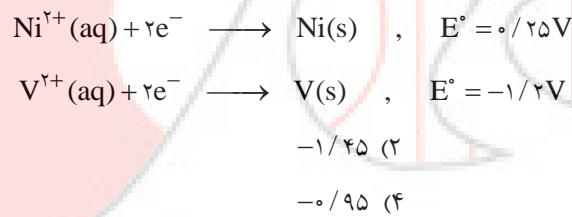
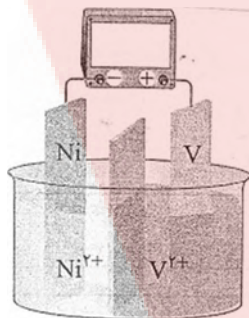
پاسخ:

**تست ۱۰۲:** اگر جرم تیغهی آند و کاتد در سلول الکتروشیمیایی Al – Cu برابر باشد، به ازای افزایش ۴۸٪ جرم تیغهی کاتد، چند درصد از جرم تیغهی آند کم می‌شود؟ (Cu = ۶۴ , Al = ۲۷)

- ۶/۲۵ (۱)      ۱۳/۵ (۲)      ۲۰/۲۵ (۳)      ۲۷ (۴)

پاسخ:

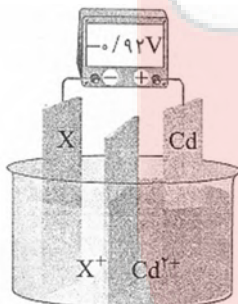
**تست ۱۰۳:** در سلول الکتروشیمیایی روبه‌رو، ولت‌سنج چه عددی را نشان می‌دهد؟



- ۰/۹۵ (۱)      -۱/۴۵ (۲)      -۰/۹۵ (۴)      +۱/۴۵ (۳)

پاسخ:

**تست ۱۰۴:** با توجه به سلول گالوانی مقابل، نیروی الکتروموتوری نیم‌سلول  $2\text{X}^{+}(\text{aq}) + 2\text{e}^{-} \longrightarrow 2\text{X}(\text{s})$  کدام است؟



$$(E^{\circ}(\text{Cd}^{2+} / \text{Cd}) = -0.4\text{V})$$

- +۰/۵۲ (۲)      -۱/۰۴ (۴)      +۱/۰۲ (۱)      -۰/۵۲ (۳)

پاسخ:



**تست ۱۰۵ :** emf سلولی که واکنش  $A(s) + 2Ag^+(aq) \rightarrow A^{2+}(aq) + 2Ag(s)$  در آن رخ می‌دهد برابر با

$1/98V$  است. با توجه به جدول داده شده، فلز A کدام

است؟ (تمرین دوره‌ای صفحه ۶۳)

نیم‌واکنش کاهش	$E^\circ (V)$
$Ag^+(aq) + e^- \rightarrow Ag(s)$	$+0/8$
$Fe^{2+}(aq) + 2e^- \rightarrow Fe(s)$	$-0/44$
$Zn^{2+}(aq) + 2e^- \rightarrow Zn(s)$	$-0/76$
$Mn^{2+}(aq) + 2e^- \rightarrow Mn(s)$	$-1/18$
$Mg^{2+}(aq) + 2e^- \rightarrow Mg(s)$	$-2/37$

- Zn (۲) Fe (۱)  
Mg (۴) Mn (۳)

**پاسخ :**



**تست ۱۰۶ :** با توجه به نمودار روبه‌رو، اختلاف

emf کدام دو سلول از یکدیگر کم‌تر می‌باشد؟

(۱) منیزیم - نقره، منیزیم - آهن (پیوند با ریاضی صفحه ۴۸)

(۲) منیزیم - آهن، منیزیم - مس

(۳) روی - نقره، روی - مس

(۴) روی - مس، آهن - مس

**پاسخ :**

**تست ۱۰۷ :** اگر emf یک سلول الکتروشیمیایی که در آن واکنش  $V(s) + A^{3+}(aq) \rightarrow A^{2+}(aq) + V^{2+}(aq)$  انجام

می‌گیرد، برابر با  $0/78V$  ولت باشد، emf واکنش  $Sn^{2+}(aq) + A^{2+}(aq) \rightarrow A^{3+}(aq) + Sn(s)$  برابر کدام گزینه است؟

$$E^\circ(V^{2+}/V) = -1/27V \quad \text{و} \quad E^\circ(Sn^{2+}/Sn) = -0/14V$$

- $0/56$  (۱)  $0/28$  (۲)  $0/92$  (۳)  $0/64$  (۴)

**پاسخ :**

**تست ۱۰۸ :** اگر  $E^\circ$  یک سلول الکتروشیمیایی که در آن واکنش  $B^{2+} + A \rightarrow A^{2+} + B$  انجام می‌گیرد با  $E^\circ$  سلول

الکتروشیمیایی دیگری که در آن واکنش  $C^{2+} + B \rightarrow C + B^{2+}$  انجام می‌شود برابر باشد،  $E^\circ$  سلول دارای نیم‌سلول‌های B و

Ag برابر کدام گزینه است؟

$$E^\circ(A^{2+}/A) = -0/83V \quad \text{و} \quad E^\circ(C^{2+}/C) = +0/33V \quad \text{و} \quad E^\circ(Ag^+/Ag) = +0/8V$$

- $1/05$  (۱)  $0/55$  (۲)  $1/3$  (۳)  $1/38$  (۴)

**پاسخ :**

## آزمون دوم

۱- کدام عبارت در رابطه با واکنش  $Zn + Cu^{2+} \rightarrow Zn^{2+} + Cu$  درست است ؟


(۱) رنگ آبی محلول اولیه ، به مرور کاهش می‌یابد .

(۲) عدد اکسایش اتم‌های روی کاهش می‌یابند و این اتم‌ها کاهنده‌اند .

(۳) قدرت کاهندگی اتم مس کم تر از یون روی است .

(۴) یک واکنش اکسایش - کاهش را نشان می‌دهد که اتم‌های مس کاهنده‌اند .

۲- با توجه به واکنش‌های زیر ، M می‌تواند کدام فلز باشد؟



Mn (۴)

Cu (۳)

Mg (۲)

Zn (۱)

۳- در پیل الکتروشیمیایی (Al - Cu) ولتاژ پیل ۱/۹۴ ولت و در پیل (Zn - Cu) ولتاژ پیل برابر ۱/۱ ولت است . اختلاف پتانسیل پیل (آلومینیوم - روی) چند ولت است ؟

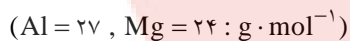
۱/۶۶ (۴)

۰/۸۶ (۳)

۰/۸۴ (۲)

۰/۹ (۱)

۴- اگر در شرایط یکسان و دما و فشار ، حجم گاز تولید شده در سلول الکتروشیمیایی  $Al - H_2$  با حجم گاز تولید شده در سلول الکتروشیمیایی  $Mg - H_2$  برابر باشد ، نسبت تغییر جرم تیغی آلومینیوم به تغییر جرم تیغی منیزیم چند درصد است؟



۷۵ (۴)

۶۶ (۳)

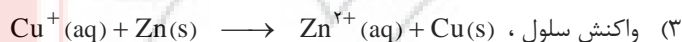
۳۳ (۲)

۵۰ (۱)

۵- با توجه به شکل روبرو ، کدام مطلب درباره‌ی آن درست است؟


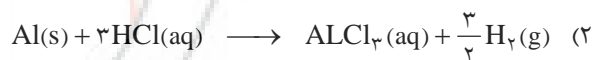
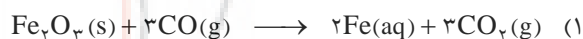
(۱) طرحی از یک سلول الکترولیتی است.

(۲) الکتروود مس در آن قطب منفی و کاتد است.



(۴) الکترون در آن از الکتروود روی به سمت الکتروود مس در محلول جریان پیدا می‌کند.

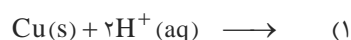
۶- شمار الکترون‌های مبادله شده در کدام واکنش بیش تر است؟



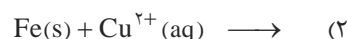


۷- با توجه به  $E^\circ$  الکتروود مس، آهن و منیزیم، واکنش کدام دو گونه شیمیایی در جهتی که نوشته شده است، در شرایط استاندارد انجام پذیر است؟

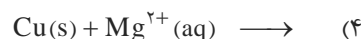
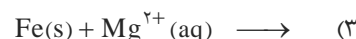
$$E^\circ(\text{Cu}^{2+}(\text{aq}) / \text{Cu}(\text{s})) = +0.34 \text{ V}$$



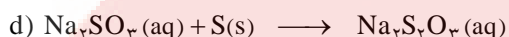
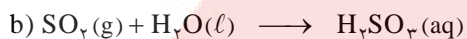
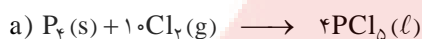
$$E^\circ(\text{Fe}^{2+}(\text{aq}) / \text{Fe}(\text{s})) = -0.41 \text{ V}$$



$$E^\circ(\text{Mg}^{2+}(\text{aq}) / \text{Mg}(\text{s})) = -2.38 \text{ V}$$



۸- کدام دو واکنش از نوع اکسایش - کاهش اند؟



d, c (۴)

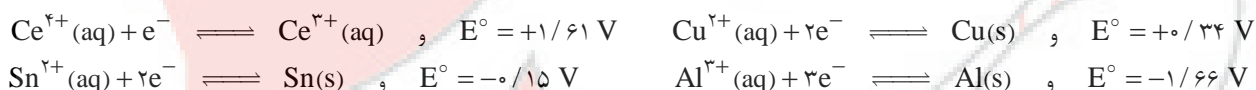
d, a (۳)

b, a (۲)

c, b (۱)

۹- با توجه به داده‌های زیر می‌توان دریافت که ..... اکسندهی قوی‌تر، ..... کاهندهی قوی‌تر است و ..... می‌تواند ..... را از محلول نمک‌های آن آزاد سازد.

(تجربی فارغ کشور ۸۷)



۱۰- با توجه به این که واکنش:  $\text{Ni}(\text{s}) + \text{Cu}^{2+}(\text{aq}) \longrightarrow \text{Ni}^{2+}(\text{aq}) + \text{Cu}(\text{s})$ ، به طور خود به خودی پیش می‌رود، کدام نتیجه‌گیری درست است؟

(ریاضی فارغ کشور ۸۷ و ۸۸)

(۱)  $E^\circ$  الکتروود نیکل از  $E^\circ$  الکتروود مس بزرگ‌تر است.

(۲)  $\text{Cu}^{2+}(\text{aq})$  نقش کاهندگی و  $\text{Ni}(\text{s})$  نقش اکسندهی دارد.

(۳) در سلول الکتروشیمیایی استاندارد «نیکل - مس»، الکتروود مس نقش آند را دارد.

(۴) تمایل  $\text{Ni}(\text{s})$  برای از دست دادن الکترون در مقایسه با مس بیشتر است.

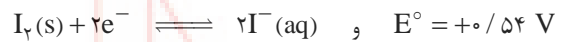


۱۱- اگر در سلول گالوانی  $Al-H_2$  در شرایط استاندارد، پس از مدتی جرم تیغه‌ی آند  $2/16$  گرم تغییر یابد، pH نیم سلول هیدروژن چه مقدار خواهد شد؟ (حجم محلول هر دو نیم سلول را برابر با  $600$  میلی لیتر در نظر بگیرید.)

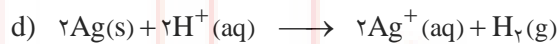
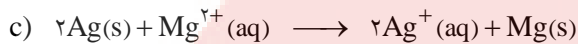
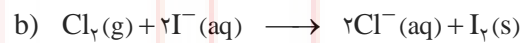
- (۱)  $0/2$  (۲)  $0/4$  (۳)  $0/6$  (۴)  $0/8$

(سراسری تهرانی ۹۰)

۱۲- با توجه به پتانسیل‌های کاهش‌ی استاندارد نیم‌واکنش‌های زیر:



کدام دو واکنش زیر به صورت خود به خودی انجام می‌شوند؟



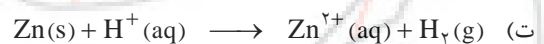

d و c (۴)

c و a (۳)

b و c (۲)

b و a (۱)

۱۳- به ترتیب از راست به چپ مجموع ضرایب استوکیومتری معادله‌ی موازنه شده‌ی کدام گزینه از بقیه بیش تر و کدام گزینه از بقیه کم تر است؟



پ و ت (۴)

آ و پ (۳)

آ و ب (۲)

ب و ت (۱)

۱۴- در سلول استاندارد گالوانی ..... ، با گذشت زمان ..... می‌شود.

.  $E^{\circ}(Ag^{+}(aq) / Ag(s)) = +0/80 \text{ v}$

(۱) « آهن - نقره » ، از جرم تیغه‌ی نقره کاسته و بر جرم تیغه‌ی آهن افزوده

.  $E^{\circ}(Fe^{2+}(aq) / Fe(s)) = -0/41 \text{ v}$

(۲) « مس - نقره » ، به جرم تیغه‌ی مس افزوده و از جرم تیغه‌ی نقره کاسته

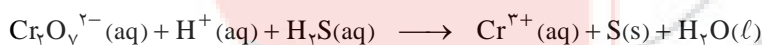
.  $E^{\circ}(Cu^{2+}(aq) / Cu(s)) = +0/34 \text{ v}$

(۳) « روی - مس » ، از شدت رنگ محلول الکترولیت نیم سلول کاند کاسته

.  $E^{\circ}(Zn^{2+}(aq) / Zn(s)) = -0/76 \text{ v}$

(۴) « روی - آهن » ، بر شدت رنگ محلول الکترولیت نیم سلول آند افزوده

۱۵- در واکنش زیر، پس از موازنه ، نسبت تعداد هیدروژن ها به اکسیژن ها کدام است؟



۲ (۴)

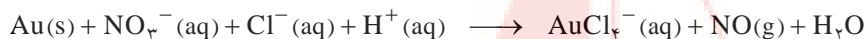
$\frac{1}{2}$  (۳)

$\frac{3}{7}$  (۲)

$\frac{6}{7}$  (۱)

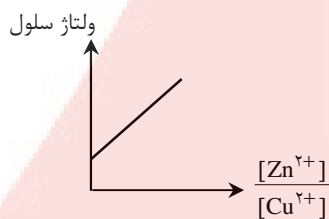


۱۶- در واکنش زیر ، پس از موازنه ، تفاوت مجموع ضرایب دو طرف معادله چقدر است؟

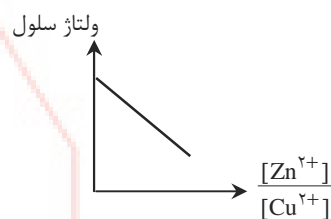


(۱) صفر (۲) ۴ (۳) ۶ (۴) ۲

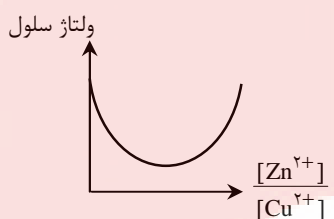
۱۷- در سلول (Zn-Cu) ، تغییرات ولتاژ سلول بر حسب نسبت  $\frac{[\text{Zn}^{2+}]}{[\text{Cu}^{2+}]}$  کدام است؟



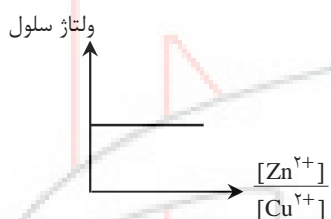
(۲)



(۱)

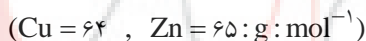


(۴)



(۳)

۱۸- در سلول گالوانی « روی - مس » اگر از تیغهی آندی ۲۶ گرم کاسته شود ، چند گرم به جرم تیغهی کاتدی اضافه می‌شود؟



(۱) ۳۸/۲ (۲) ۱۲/۸ (۳) ۲۵/۶ (۴) ۳۲

۱۹- در سلول گالوانی « آلومینیم - آهن » برای این که ۲۸ گرم به جرم تیغهی کاتدی افزوده شود ، چند مول الکترون باید مبادله شود؟ (واکنش



(۱) ۰/۵ (۲) ۰/۷۵ (۳) ۱/۵ (۴) ۳

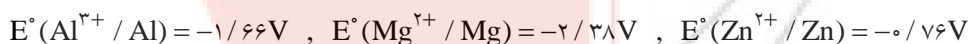
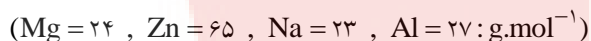
۲۰- اگر در سلول گالوانی « نیکل - SHE » در شرایط استاندارد ۳/۳۶ لیتر گاز هیدروژن تولید شود ، چند گرم از جرم تیغهی آندی کاسته



(۱) ۱۷/۷ (۲) ۱۱/۸ (۳) ۸/۸۵ (۴) ۷/۰۸

۲۱- اگر تعداد الکترون‌های مبادله شده در سلول « منیزیم - روی » برابر با تعداد الکترون‌های مبادله شده در سلول « منیزیم - آلومینیم » باشد

و از جرم تیغهی آندی در سلول اول به اندازه‌ی ۲۸/۸g کاتدی در سلول دوم اضافه شده است؟



(۱) ۲۱/۶ (۲) ۶۴/۸ (۳) ۱۰/۸ (۴) ۴۳/۲

۲۲- اگر گاز هیدروژن تولید شده در سلول « کروم - SHE » وارد سلول « SHE - نقره » شده باشد و در این سلول  $32/4$  گرم بر جرم فلز

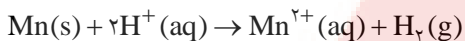
نقره اضافه شده باشد، در سلول « کروم - SHE » چند الکترون مبادله شده است؟ ( $Ag = 108 : g.mol^{-1}$ )

( معادله‌ی واکنش سلول « کروم - SHE » را به صورت  $2Cr + 6H^+(aq) \rightarrow 2Cr^{3+}(aq) + 3H_2(g)$  در نظر بگیرید. )

(۱)  $9/03 \times 10^{22}$  (۲)  $3/612 \times 10^{23}$  (۳)  $7/224 \times 10^{22}$  (۴)  $1/806 \times 10^{23}$

۲۳- اگر در سلول گالوانی « Mn - SHE » تیغه‌ای به جرم ۶۶ گرم از منگنز را قرار دهیم و پس از اتمام واکنش،  $4/5$  لیتر گاز  $H_2$  با

چگالی  $0.04 g.L^{-1}$  تولید شده باشد، درصد خلوص تیغه‌ی منگنز برابر چند درصد است؟ ( $Mn = 55, H = 1 : mol^{-1}$ )



(۱) ۵۰ (۲) ۷۵ (۳) ۸۰ (۴) ۴۰

۲۴- دو ظرف A و B را در اختیار داریم. محلول ظرف A محتوی  $0.4$  مول یون کروم و محلول ظرف B محتوی  $0.7$  مول یون نیکل

است. اگر در هر ظرف تیغه‌ای از جنس روی به جرم ۹۰ گرم قرار دهیم، در پایان واکنش‌ها، اختلاف جرم روی در تیغه‌های هر دو محلول

برابر کدام است؟

( $Zn = 65 : g.mol^{-1}$ )  $E^\circ(Cr^{3+}/Cr) = -0.42V$  ,  $E^\circ(Zn^{2+}/Zn) = -0.76V$  ,  $E^\circ(Ni^{2+}/Ni) = -0.25V$

(۱)  $32/5g$  (۲)  $84/5g$  (۳)  $13g$  (۴)  $19/5g$

( تمرین دوره‌ای صفحه ۶۴ )

۲۵- با توجه به جدول داده شده کدام مطلب نادرست است؟

نیم‌واکنش کاهش	$E^\circ (V)$
$A^+(aq) + e^- \rightarrow A(s)$	$+1/33$
$B^{2+}(aq) + 2e^- \rightarrow B(s)$	$+0/87$
$C^{3+}(aq) + e^- \rightarrow C^{2+}(aq)$	$-0/12$
$D^{3+}(aq) + 3e^- \rightarrow D(s)$	$-1/59$

(۱)  $A$  و  $A^+$  به ترتیب قوی‌ترین و ضعیف‌ترین اکسند و کاهنده‌ی جدول هستند.

(۲)  $A^+$  و  $B^{2+}$  می‌توانند  $C^{2+}$  را اکسید کنند.

(۳)  $D$  و  $D^{3+}$  به ترتیب ضعیف‌ترین و قوی‌ترین اکسند و کاهنده‌ی جدول هستند.

(۴) emf واکنش  $D(s) + C^{3+}(aq) \rightarrow D^{3+}(aq) + C(s)$  برابر  $1/47V$  است.

## انواع سلول‌های شیمیایی

### ۱) سلول‌های گالوانی یا سلول‌های ولتایی :

سلول‌هایی هستند که هر دو نیم واکنش الکترودی آن‌ها به طور خود به خود انجام می‌گیرد و بر اثر وقوع آن‌ها انرژی ..... به انرژی ..... تبدیل می‌شود .

### ۲) سلول‌های الکترولیت :

سلول‌هایی هستند که انرژی ..... را به انرژی ..... تبدیل می‌کنند .  
در این سلول‌ها با اعمال یک ولتاژ بیرونی، هر دو نیم‌واکنش الکترودی با صرف انرژی به سمت ایجاد تغییر شیمیایی رانده می‌شوند.

انواع سلول‌های گالوانی :  
 { سلول‌های نوع اول  
 { سلول‌های نوع دوم

### سلول‌های نوع اول:

باتری‌ها و سلول‌های ..... از جمله سلول‌های نوع اول هستند . این نوع سلول‌ها با تمام شدن واکنش دهنده‌های موجود در آن‌ها ..... می‌شوند و امکان شارژ یا پر کردن دوباره‌ی آن‌ها وجود ندارد .

### سلول‌های نوع دوم:

شامل سلول‌های (نباره‌ای) (مانند باتری خودرو) و باتری‌های ..... هستند و می‌توان آن‌ها را بارها شارژ کرد و مورد استفاده قرار داد .



## خوردگی آهن

اکسیژن عنصر بسیار واکنش پذیری است ، به طوری که می تواند همه فلزها به جز فلزهای نجیب یعنی ..... و ..... و ..... را به طور خود به خودی اکسید کند .

همین واکنش پذیری بیش از اندازه ی اکسیژن و تمایل طبیعی برخی فلزها مانند آهن به زنگ زدن به مرور زمان سبب ترد شدن ، خرد شدن و فرو ریختن این فلزها می شود .

خوردگی چیست ؟ به ..... شدن و ..... شدن و ..... ریختن فلزها بر اثر ..... خوردگی می گویند .

زنگ زدن آهن ، تیره شدن نقره و زنگار سبز به سطح مس نمونه هایی از خوردگی هستند.

عوامل موثر در خوردگی

- (۱)
- (۲)
- (۳)

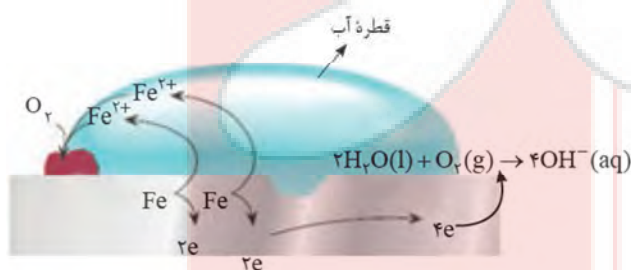
هنگامی که یک قطعه آهن در تماس با یک قطره آب قرار می گیرد ، یک واکنش اکسایش - کاهش روی می دهد :



این دو واکنش در دو بخش متکلف قطعه آهن روی می دهند .

الکترون ها از میان فلز و از پایگاه آندی به سمت پایگاه کاتدی جریان می یابند ( مدار درونی رسانای الکتریکی ) . ولی یون ها در قطره آب ( مدار بیرونی رسانای یونی ) جریان یافته ، مدار الکتریکی را کامل می کنند .

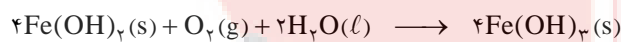
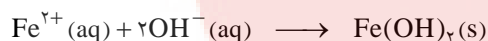
به همین علت ، بدون آب مدار یاد شده کامل نیست و زنگ زدن روی نمی دهد .

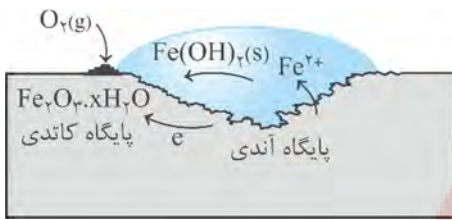


نیم واکنش کاتدی در محلی روی می دهد که غلظت اکسیژن زیاد باشد

در حالی که نیم واکنش آندی در جایی روی می دهد که غلظت اکسیژن کم باشد

یون های آهن (II) به هنگام عبور از آب به صورت  $\text{Fe(OH)}_2(\text{s})$  رسوب می دهند . در ادامه ، این رسوب نیز اکسید می شود و به آهن (III) اکسید آب پوشیده یا زنگ آهن تبدیل می شود .





📌 **تذکره:**  $4\text{Fe(OH)}_2$  را به صورت  $2(\text{Fe}_2\text{O}_3 \cdot 3\text{H}_2\text{O})$  نیز نشان می‌دهند که آهن (III) اکسید آب پوشیده گفته می‌شود.

📌 **نکته:** آهن پر مصرف‌ترین فلز در جهان است. خوردگی آهن سالانه خسارت هنگفتی به اقتصاد کشورها وارد می‌کند. به طوری که در کشورهای صنعتی حدود ۲۰٪ از آهن و فولاد تولیدی برای جایگزین کردن قطعات خورده شده مصرف می‌شود.

📌 **نکته:** ناخالصی‌ها و الکترولیت‌های خنثی و محیط اسیدی زنگ زدن آهن را تسریع می‌کنند ولی محیط قلیایی زنگ زدن را کند می‌کند.

📌 **نکته:** آب باران بر سرعت خوردگی می‌افزاید. (چگونه؟)

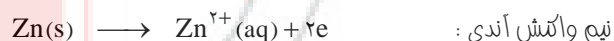
### فداکاری فلزها برای حفاظت آهن

- (۱) رنگ زدن یا ضد زنگ زدن ( $\text{Pb}_3\text{O}_4$ )  
 (۲) پوشاندن سطح آهن با موادی مانند روغن، قیر  
 (۳) روغن زدن قطعات فلزی  
 (۴) قیر اندود کردن


(۳) حفاظت کاتدی: در این روش آهن را به فلزاتی که  $E^\circ$  ..... از آهن دارند (در ..... جدول هستند) متصل می‌نمایند که فلز مورد نظر در نقش ..... و آهن در نقش ..... ظاهر می‌شود و آهن از زنگ زدن حفظ می‌شود مانند اتصال لوله‌های نفتی به ..... و پل‌ها و بدنه کشتی‌ها به .....

### محافظت آهن به وسیله روی در آهن سفید ( آهن گالوانیزه )

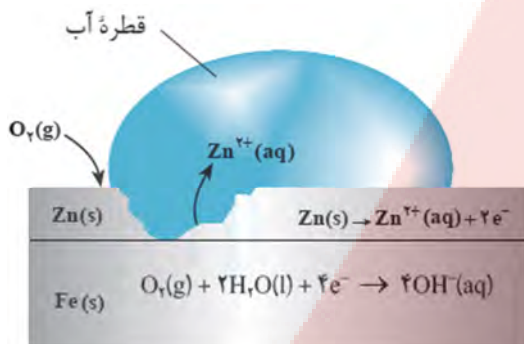
آهن سفید را از فرو بردن ورق نازک آهن و فولاد در ..... مذاب و گاهی به روش آبکاری الکتریکی تهیه می‌کنند. هر گاه خراشی بر آهن سفید وارد شود ..... در آن محافظت می‌شود، زیرا تمایل فلز ..... برای الکترون دهی بیشتر است و ..... دچار خوردگی می‌شود.



فلز روی الکترون‌های خود را به اکسیژن حل شده در رطوبت می‌دهد و در نتیجه Fe به عنوان کاتد می‌ماند.



از آهن گالوانیزه در ساخت تانکر آب ، کانال کولر و... استفاده می شود. اگر سطح آهن را به وسیله کروم هم بپوشانیم همین اتفاق روی می دهد و کروم در آند قرار می گیرد و خورده می شود و آهن محافظت می شود .



**نکته:** به طور کلی اگر آهن در مجاورت فلزی قرار گیرد  $E^{\circ}$  آن از  $E^{\circ}$  آهن منفی تر باشد آهن زنگ نمی زند و اگر در مجاورت فلزی قرار گیرد که  $E^{\circ}$  آن بزرگ تر و مثبت تر از  $E^{\circ}$  آهن باشد آهن به شدت زنگ می زند .

### خورده شدن آهن در حلبی

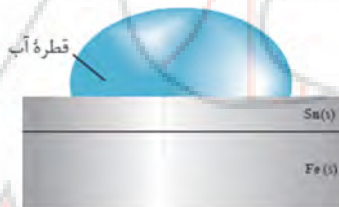
حلبی چیست ؟ حلبی ورقه های نازک آهن و فولاد است که به وسیله لایه نازکی از ..... پوشیده و محافظت می شوند .

از حلبی برای ساختن قوطی های کنسرو مواد غذایی استفاده می شود زیرا اسیدهای ..... بر قلع اثر نمی کنند .

در موقع خراشیده شدن حلبی ..... در آند قرار می گیرد و خورده می شود و ..... در کاتد قرار می گیرد و محافظت می شود .



زیرا آهن در سری الکتروشیمیایی بالاتر از قلع قرار دارد . آهن ، اکسیژن محلول در آب را به  $OH^{-}$  کاهش می دهد و یون های  $OH^{-}$  با کاتیون های آهن تولید  $Fe(OH)_2$  می کنند .



این جدول مقایسه آهن سفید و حلبی رو نشون می ده.

نیم واکنش کاتدی	نیم واکنش آندی	کاتد (+)	آند (-)	ماده
$O_2(g) + 2H_2O(l) + 4e^{-} \rightarrow 4OH^{-}(aq)$	$Zn(s) \rightarrow Zn^{2+}(aq) + 2e^{-}$	Fe	Zn	آهن سفید
$O_2(g) + 2H_2O(l) + 4e^{-} \rightarrow 4OH^{-}(aq)$	$Fe(s) \rightarrow Fe^{2+}(aq) + 2e^{-}$	Sn	Fe	حلبی

**نکته:** فلزات **قمارونگ** زنگ نمی زنند . البته زنگ می زنند ولی چون لایه اکسید سطح فلز را می پوشاند و مانع رسیدن اکسیژن به سایر قسمت های فلز می شود در نتیجه فلز محافظت می شود و گفته می شود که فلز مورد نظر زنگ نمی زند .



**تست ۱۰۹:** وجود کدام یک در هوای مرطوب موجب کندی زنگ زدن آهن می‌شود؟

CO<sub>2</sub> (۱)      H<sup>+</sup> (۲)      SO<sub>2</sub> (۳)      OH<sup>-</sup> (۴)

**پاسخ:**



**تست ۱۱۰:** در بین فلزهای زیر کدام یک همیشه حافظ کاتدی است؟

Sn (۱)      Fe (۲)      Al (۳)      Cu (۴)

**پاسخ:**



**تست ۱۱۱:** در بین چهار فلز زیر کدام یک همیشه حافظ کاتدی است؟

Zn (۱)      Fe (۲)      Mg (۳)      Al (۴)

**پاسخ:**

### نگهداری محلول‌ها در ظرف فلزی

مطلوب نمک یا کاتیون یک فلز را باید در ظرفی از جنس فلز پایین تر (در سری E<sup>o</sup>) نگهداری نمود. چون ظرف مورد نظر باید از جنس فلزی باشد که کاتیون موجود در محلول بتواند با آن واکنش بدهد تا محلول و ظرف هر دو باهم سالم بمانند.

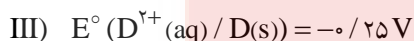
**مثال:** محلولی از نقره نیترات را نمی‌توان در ظرف آلومینیومی نگهداری کرد، زیرا فلز Ag در سری E<sup>o</sup> پایین تر از Al است. ولی برعکس محلول آلومینیوم نیترات را می‌توان در ظرف نقره ای نگهداری کرد.

**مثال مهم:** محلول نمک‌های فلزهای فعال نظیر Na و Mg و Al و Zn را می‌توان در ظروف فلزات غیر فعال نظیر مس، نقره، و ... نگهداری کرد.



**تست ۱۱۲:** کدام گزینه با توجه به E<sup>o</sup> الکترودهای زیر، نادرست است؟

( سراسری تجربی خارج کشور ۹۳ )



(۱) فلز M، از دو فلز دیگر، کاهنده تر است.

(۲) کاتیون A<sup>2+</sup>، از دو کاتیون دیگر، اکسنده تر است.

(۳) در سلول گالوانی تشکیل شده از الکترودهای II و III، الکتروود II، نقش کاتد را دارد.

(۴) واکنش:  $A(s) + M^{2+}(aq) \rightarrow A^{2+}(aq) + M(s)$ ، در شرایط استاندارد، خود به خودی است.

**پاسخ:**



**تست ۱۱۳:** با در نظر گرفتن موقعیت فلزها در جدول پتانسیل‌های کاهش استاندارد که در آن فلز روی بالاتر از آهن بوده و نقره زیر هیدروژن جای دارد، کدام مطلب درست است؟



- (۱) محلول نمک‌های نقره را می‌توان در ظرفی از جنس فلز آهن نگهداری کرد.
- (۲) اتم روی کاهنده‌تر از اتم آهن و یون  $Ag^+(aq)$  اکسنده‌تر از یون  $Fe^{2+}(aq)$  است.
- (۳)  $E^\circ$  سلول الکتروشیمیایی روی - آهن، از  $E^\circ$  سلول الکتروشیمیایی روی - نقره، بزرگ‌تر است.
- (۴) در سلول الکتروشیمیایی روی - نقره، نقره قطب منفی و روی آند است و خورده می‌شود.

**پاسخ:**

**تست ۱۱۴:** اگر واکنش:  $Mg(s) + Fe^{2+}(aq) \rightarrow Mg^{2+}(aq) + Fe(s)$ ، در شرایط استاندارد خود به خودی باشد، کدام مطلب نادرست است؟



(سراسری تجربی ۹۲)

- (۱) در جدول پتانسیل کاهش استاندارد، آهن بالاتر از منیزیم جای دارد.
- (۲) در سلول گالوانی استاندارد منیزیم - آهن، منیزیم نقش آند را دارد.
- (۳) محلول نمک‌های منیزیم را می‌توان در ظرف آهنی نگهداری کرد.
- (۴)  $E^\circ$  الکتروود منیزیم از  $E^\circ$  الکتروود آهن کوچک‌تر است.

**پاسخ:**

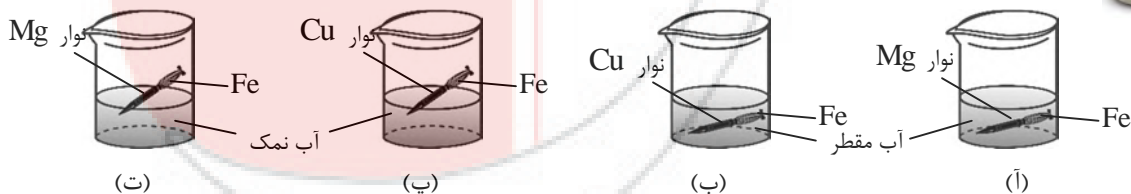
**تست ۱۱۵:** برای حفاظت کاتدی آهن، باید آن را با فلزی که  $E^\circ$  آن از  $E^\circ$  آهن ..... باشد، مانند ..... متصل کرد. در این صورت آن فلز، در نقش ..... عمل می‌کند و از زنگ زدن آهن جلوگیری می‌کند.



- (۱) کوچک‌تر - منیزیم - آند (۲) کوچک‌تر - روی - کاتد (۳) بزرگ‌تر - قلع - آند (۴) بزرگ‌تر - مس - کاتد

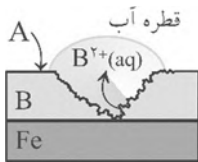
**پاسخ:**

**تست ۱۱۶:** به ترتیب در کدام ظرف میخ آهنی سریع‌تر زنگ می‌زند و در کدام ظرف از زنگ زدن محفوظ می‌ماند؟



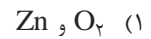
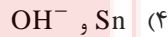
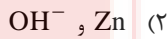
- (۱) آ و پ (۲) آ و ب (۳) پ و آ (۴) پ و ت

**پاسخ:**



**تست ۱۱۷:** اگر تصویر رو به رو ، به یک قطعه آهن سفید خراش برداشته در هوای مرطوب باشد ، A و B به ترتیب از راست به

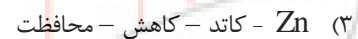
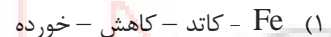
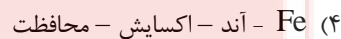
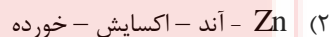
چپ کدام است؟



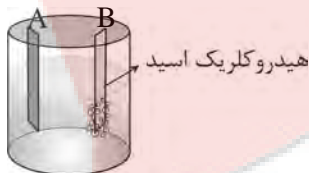
**پاسخ:**

**تست ۱۱۸:** هرگاه در سطح آهن سفید ، در هوای مرطوب خراشی به وجود آید ، در محل آن خراش ، یک سلول گالوانی تشکیل

می شود و در نتیجه ، ..... در نقش ..... ، ..... یافته و ..... می شود.



**پاسخ:**



**تست ۱۱۹:** با توجه به شکل روبرو ، کدام عبارت نادرست است؟

(۱) نسبت به فلز A ، کاهنده ی قوی تری است.

(۲) نسبت به کاتیون فلز B ، اکسنده ی ضعیف تری است.

(۳) فلز A نسبت به فلز B ، کاهنده ی ضعیف تری است.

(۴) کاتیون فلز A نسبت به  $H^+$  ، اکسنده ی قوی تری است.

**پاسخ:**

**تست ۱۲۰:** با توجه به جدول روبرو ، نکه داری کدام محلول آبی در کدام ظرف امکان پذیر است؟

(۱) محلول دارای یون های مس (II) در ظرف آهنی

(۲) محلول دارای یون های  $Ni^{2+}$  در ظرف مسی

(۳) محلول اسیدی در ظرف نیکلی

(۴) محلول دارای یون های  $Ni^{2+}$  در ظرف آهنی

**پاسخ:**

نیم واکنش	$E^{\circ} (v)$
$Cu^{2+}(aq) + e^{-} \longrightarrow Cu(s)$	+۰ / ۳۴
$Fe^{2+}(aq) + 2e^{-} \longrightarrow Fe(s)$	-۰ / ۲۴
$Ni^{2+}(aq) + 2e^{-} \longrightarrow Ni(s)$	-۰ / ۲۵

**تست ۱۲۱ : چند مورد از مطالب زیر درست‌اند؟**



(آ) فلز منیزیم می‌تواند آهن را از محلول آبی دارای یون‌های آن خارج کند.  
 (ب) فلزهایی می‌توانند با هیدروکلریک اسید واکنش دهند که پتانسیل الکترودی آن مثبت باشد.  
 (پ) با توجه به سری الکتروشیمیایی، فلز نقره نمی‌تواند با یون  $Fe^{2+}$  واکنش دهد.  
 (ت) محلول‌های اسیدی را می‌توان در ظرف‌های مسی یا نقره‌ای نگه داشت.

- (۱) ۱      (۲) ۲      (۳) ۳      (۴) ۴

**پاسخ :**

**تست ۱۲۲ : اگر در واکنش خوردگی یک تیغه‌ی آهنی،  $\frac{42}{8}$  گرم زنگ آهن ( $Fe_2O_3 \cdot 3H_2O$ ) تشکیل شود، در این واکنش**



چند میلی لیتر اکسیژن در شرایط STP مصرف می‌شود؟ ( $Fe = 56, O = 16, H = 1 : g \cdot mol^{-1}$ )

- (۱) ۲۲۴۰      (۲) ۴۴۸۰      (۳) ۶۷۲۰      (۴) ۳۳۶۰

**پاسخ :**

**تست ۱۲۳ : اگر بر اثر خراش قطعه‌ای آهن سفید،  $\frac{10}{4}$  گرم فلز در آند اکسید شود، در کاتد چند میلی لیتر گاز در شرایط STP مصرف می‌شود؟**



( $Sn = 119, Zn = 65, Fe = 56 : g \cdot mol^{-1}$ )

- (۱) ۱۷۹۲      (۲) ۱۹۷۴      (۳) ۳۵۸۴      (۴) ۳۹۴۸

**پاسخ :**

## الکترولیز یا برقکافت

تجزیه‌ی مواد به کمک جریان برق را ..... می‌گویند و دستگاهی که این عمل را انجام می‌دهد سلول ..... می‌گویند .  
الکترولیز ( برقکافت ) : سلول الکترولیتی دستگاهی است که در آن یک واکنش شیمیایی « اکسایش - کاهش » غیر خود به خودی ،  
بر اثر عبور جریان الکتریسیته از محلول الکترولیت انجام می‌شود .  
به بیان دیگر در دستگاه الکترولیز باید مقداری انرژی الکتریکی از یک منبع بیرونی ( برای مثال یک باتری ) مصرف شود تا یک  
واکنش « اکسایش - کاهش » غیر خود به خودی انجام گیرد .

**نکته:** برق مصرفی حتما باید به صورت جریان مستقیم باشد زیرا اگر از جریان متناوب استفاده شود قطب‌های مثبت و  
منفی به طور دائم عوض می‌گردد و کار دستگاه به هم می‌ریزد .

یک سلول الکترولیتی شامل دو الکترود است که در یک محلول الکترولیت فرو رفته است . این الکترولیت می‌تواند یک ترکیب  
..... یا محلول یک ماده‌ی ..... باشد .  
الکترودها را معمولا از جنس ..... یا ..... انتخاب می‌کنند زیرا این مواد جریان برق را خیلی خوب از خود عبور می‌دهند و در  
ضمن فعالیت شیمیایی بسیار کمی نیز دارند و به همین دلیل با مواد موجود در الکترولیت واکنش نمی‌دهند .  
در دستگاه الکترولیز ( سلول‌های الکترولیتی ) ، کاتد نقش قطب ..... و آند نقش قطب ..... را دارد .

**تذکره:** نقش کاتد و آند در سلول‌های الکتروشیمیایی و الکترولیتی عکس یکدیگر هستند .

جهت حرکت الکترون‌ها در خارج از الکترولیت ، از ..... به سمت ..... است .  
الکتروود آند پس از قرار گرفتن در الکترولیت الکترون‌ها را از الکترولیت خارج می‌کند ( الکترون‌های حاصل از فرآیند اکسایش  
گونه‌های موجود در الکترولیت )  
الکتروود کاتد پس از قرار گرفتن در الکترولیت ، الکترون‌های رانده شده از منبع را به الکترولیت منتقل می‌کند ( الکترون‌های مورد  
نیاز برای کاهش گونه‌های موجود در الکترولیت )

**نکته:** در قطب ( منفی ) کاتد عمل کاهش و در قطب ( مثبت ) آند عمل اکسایش صورت می‌گیرد .



### مقایسه سلول‌های گالوانی و الکترولیتی

سلول‌های الکترولیتی	سلول‌های گالوانی
واکنش‌ها غیر خود به خودی اند	واکنش‌ها خود به خودی اند
واکنش‌ها گرما ..... است	واکنش‌ها گرما ..... است
سطح انرژی فرآورده‌ها از واکنش دهنده‌ها ..... است	سطح انرژی فرآورده‌ها از واکنش دهنده‌ها ..... است
در آند نیم واکنش ..... انجام می‌شود	در آند نیم واکنش ..... انجام می‌شود
در کاتد نیم واکنش ..... انجام می‌شود	در کاتد نیم واکنش ..... انجام می‌شود
آند قطب ..... و کاتد قطب ..... است	آند قطب ..... و کاتد قطب ..... است

### تشابه سلول گالوانی با سلول الکترولیتی

- ۱) در هر دو سلول، آنیون‌ها به سمت آند و کاتیون‌ها به سمت کاتد حرکت می‌کند.
- ۲) در هر دو سلول نیم‌واکنش اکسایش در آند و نیم‌واکنش کاهش در کاتد صورت می‌گیرد.
- ۳) در هر دو سلول الکترون‌ها از آند به کاتد با به جا می‌شوند.

### تشخیص تستی سلول‌های الکتروشیمیایی

سلول الکتروشیمیایی } با دیواره متغلف ← سلول گالوانی یا ولتایی  
بدون دیواره متغلف ← سلول الکترولیتی

مثال: به سلول‌های زیر و شیوه‌ی تشخیص تستی هر کدام در زیر هر شکل خوب خوب توجه کن. ( فهمیدی؟! )

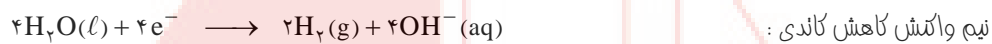
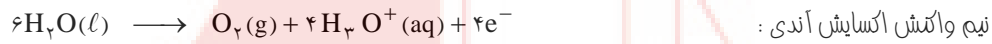




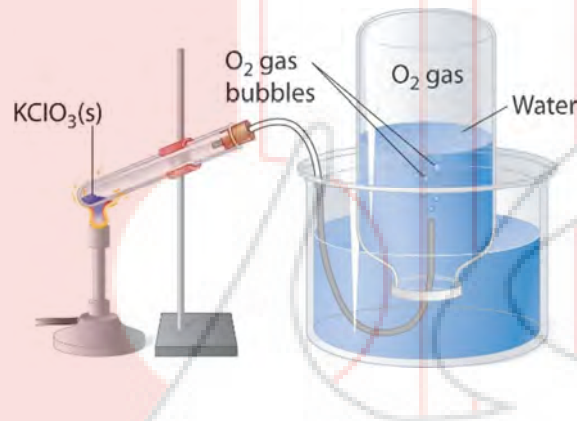
نمک‌های مذاب } **الکترولیز**  
 محلول نمک‌های گوناگون }

### برقکافت آب

**برقکافت آب:** فرآیندی است که طی آن آب به عنصرهای سازنده‌اش تجزیه می‌شود.



همانطور که ملاحظه می‌شود حجم گاز هیدروژن تولید شده دو برابر حجم گاز اکسیژن تولید شده است.



**تست ۱۲۴:** در یک سلول الکترولیتی، تبدیل انرژی از ..... انجام می‌شود و واکنش کاهش، در سطح قطب ..... انجام

می‌شود.

(۲) الکتریکی به شیمیایی - مثبت

(۴) شیمیایی به الکتریکی - مثبت

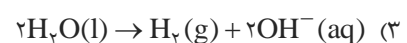
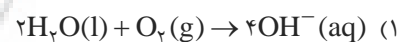
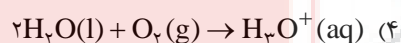
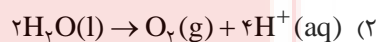
(۱) شیمیایی به الکتریکی - منفی

(۳) الکتریکی به شیمیایی - منفی

**پاسخ:**

**تست ۱۲۵:** نیم‌واکنش اکسایش در سلول الکترولیتی برقکافت آب کدام است؟ (الکترون‌ها در نیم‌واکنش‌ها نمایش داده نشده‌اند.)

(فرد را بیازمایید صفحه ۵۴)



**پاسخ:**

**تست ۱۲۶:** کدام گزینه جای خالی (آ) و (ب) را به نادرستی و جای خالی (ب) را به درستی تکمیل می‌کند؟



( شکل روبه‌رو مربوط به برقکافت آب است. )



(آ) مایع درون سلول روبه‌رو چیست؟

(ب) تیغهی سمت چپ در سلول روبه‌رو چه نقشی دارد؟

(پ) کدام مواد در تیغهی سمت راست سلول روبه‌رو تولید می‌شوند؟

(۱) آب خالص - کاتد - یون هیدروژن و گاز اکسیژن

(۲) محلول رقیق الکتrolیت - آند - یون هیدروکسید و گاز هیدروژن

(۳) محلول غلیظ الکتrolیت - آند - یون هیدروکسید و گاز هیدروژن

(۴) محلول غلیظ الکتrolیت - آند - یون هیدروژن و گاز اکسیژن

**پاسخ:**

**تست ۱۲۷:** در فرآیند برقکافت آب، در نیم‌واکنش کاتدی چه گازی آزاد می‌شود و در شرایط یکسان، حجم گاز آزاد شده در آند



(فرد را ببینید صفحه ۵۴)

چند برابر کاتد است؟

(۱) اکسیژن - ۲

(۳) هیدروژن - ۵/۰

(۲) هیدروژن - ۴

(۴) اکسیژن - ۲۵/۰

**پاسخ:**

**تست ۱۲۸:** کدام موارد از مطالب زیر در مورد سلول الکتrolیتی برقکافت آب، درست هستند؟



(فرد را ببینید صفحه ۵۴)

آ- کاغذ pH در محلول اطراف آند، به رنگ قرمز در می‌آید.

ب- کاغذ pH در محلول اطراف کاتد، به رنگ آبی در می‌آید.

پ- تعداد الکترون‌های مصرف شده در نیم‌واکنش کاهش این سلول، با نیم‌واکنش کاهش در سلول گالوانی (روی - مس) برابر است.

ت- جهت حرکت الکترون‌ها در مدار بیرونی از سمت کاتد به سمت آند می‌باشد.

(۱) (آ) و (ب)

(۲) (پ) و (ت)

(۳) (آ) و (ب) و (پ)

(۴) (ب) و (پ) و (ت)

**پاسخ:**

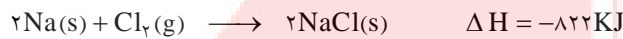


### برقکافت سدیم کلرید مذاب

فلز سدیم به حالت آزاد در طبیعت وجود ندارد. اما ترکیب‌های شیمیایی گوناگون از آن در طبیعت شناخته شده است. سدیم در این ترکیب‌ها به صورت یون سدیم  $\text{Na}^+$  مشاهده می‌شود. این مشاهده‌ها نشان می‌دهد که فلز سدیم بسیار واکنش پذیر است و طی واکنش خود به خود به سرعت اکسایش یافته و به یون  $\text{Na}^+$  تبدیل می‌شود. بنابراین برای بدست آوردن فلز سدیم باید انرژی زیادی مصرف کرد.

**نکته:** ۲/۷٪ جرمی آب دریا را سدیم کلرید تشکیل می‌دهد.

برای نمونه، اگر هدف تهیه فلز سدیم از  $\text{NaCl}$  باشد باید واکنش زیر در جهت عکس خود به خودی انجام گیرد.



محاسبه نشان می‌دهد که برای خود به خودی بودن فرآیند تجزیه‌ی گرمایی  $\text{NaCl}$  به دمای بسیار بالایی حدود  $4267^\circ\text{C}$  (فقط کمی کم‌تر از خورشید) نیاز است.

آشکار است که تأمین چنین دمایی ممکن نیست.

در صنعت فلز سدیم را از طریق برقکافت سدیم کلرید مذاب در سلول دانز (Downs cell) تهیه می‌کنند.


سلول دانز یک سلول الکترولیتی است که نخستین مرتبه در سال ۱۹۲۱ توسط شرکت دوپون (Dupont) طراحی، ساخته و استفاده شد.

در این سلول با کمک یک آند ..... و یک کاتد ..... فلز سدیم خالص تهیه می‌شود.

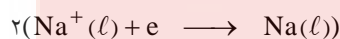
**نکته:**  $\text{NaCl}$  خالص در  $801^\circ\text{C}$  ذوب می‌شود. افزودن مقداری  $\text{CaCl}_2$  به آن دمای ذوب را تا حدود  $587^\circ\text{C}$  پایین

می‌آورد. این کار از نظر اقتصادی چه مزیتی دارد؟

واکنش‌های انجام شده در سلول دانز:



نیم واکنش آندی:



نیم واکنش کاتدی:

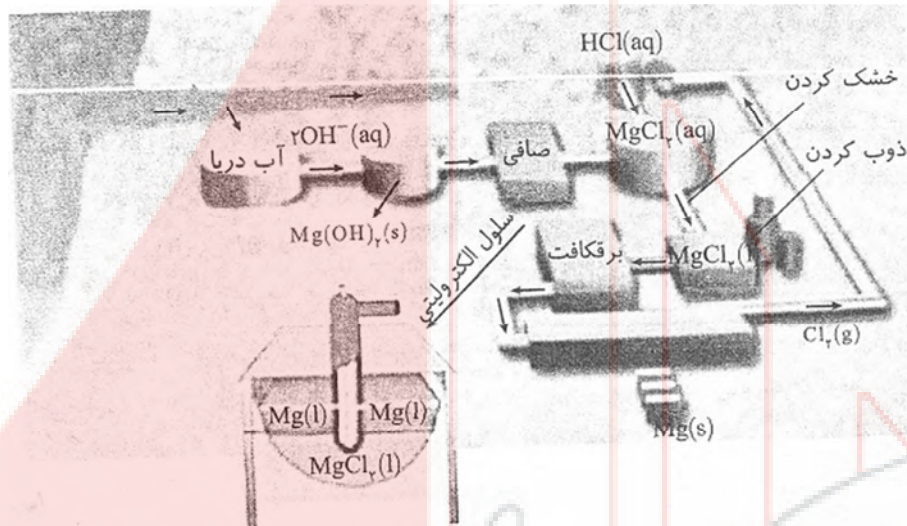


واکنش کلی:

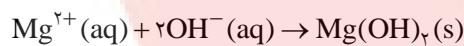


### تهیه فلز منیزیم از آب دریا

فلز منیزیم (Mg) ماده‌ای ارزشمند است که کاربردهای گوناگونی دارد. به عنوان مثال در تهیه آلیاژها، شربت معده و... از فلز منیزیم استفاده می‌شود. شکل زیر مراحل تهیه منیزیم را از آب دریا نشان می‌دهد.

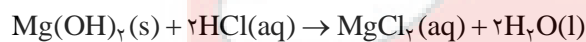


**مرحله‌ی اول:** ابتدا آب دریا را به داخل مخازن ویژه‌ای هدایت کرده و سپس از محیط بازی عبور می‌دهند تا مخلوطی به دست آید که شامل ترکیب  $Mg(OH)_2$  جامد نیز می‌شود. در واقع در این مرحله منیزیم را به صورت ماده‌ی جامد و نامحلول  $Mg(OH)_2$  (منیزیم هیدروکسید) رسوب می‌دهند.



**مرحله‌ی دوم:** در مرحله‌ی بعدی مخلوط ناخالص  $Mg(OH)_2$  جامد را از صافی عبور می‌دهند تا ناخالصی‌ها به صورت فیزیکی جداسازی شوند.

**مرحله‌ی سوم:** پس از عبور از صافی این ترکیب جامد وارد مخزنی دیگر می‌شود. این مخزن شامل دو ورودی و یک خروجی است. ورودی‌های این مخزن از یک سو برای ورود  $Mg(OH)_2$  و از سوی دیگر برای ورود اسید ( $HCl(aq)$ ) است. پس از ورود این دو به مخزن، واکنش زیر انجام می‌شود:



**مرحله‌ی چهارم:** پس از انجام واکنش بالا علاوه بر نمک  $MgCl_2$  محلول، مقداری آب نیز تولید می‌شود. پس از این که فرآورده‌ها از مخزن انجام واکنش خارج شدند به آن‌ها حرارت داده می‌شود تا آب موجود به صورت بخار آب جدا شود.

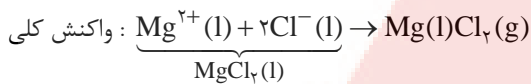
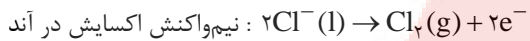
**مرحله‌ی پنجم:** در ادامه  $MgCl_2$  محلول وارد مخزن ذوب می‌شود تا با از دست دادن آب همراه خود به حالت مذاب تبدیل شود.

**تذکره:** می‌دانیم که از برقکافت نمک‌های مذاب می‌توانیم کاتیون و آنیون نمک را از هم جدا کنیم، به همین دلیل ابتدا مخلوط منیزیم کلرید را به حالت مذاب تبدیل می‌کنیم.


**مرحله‌ی ششم:** در ادامه نمک مذاب منیزیم کلرید را وارد یک سلول الکترولیتی کرده و فرایند برقکافت را انجام می‌دهیم.



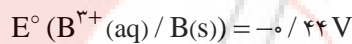
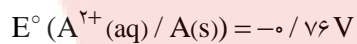
**مرحله هفتم:** در برقکافت منیزیم کلرید مذاب، یون منیزیم به سمت کاتد حرکت کرده و با دریافت الکترون در آنجا کاهش یافته و تبدیل به فلز منیزیم می‌شود. از طرفی یون کلرید به سمت آند رفته و با آزاد کردن الکترون در آنجا اکسایش یافته و تبدیل به گاز کلر می‌شود. نیم‌واکنش‌های اکسایش و کاهش و واکنش کلی در برقکافت منیزیم کلرید مذاب به صورت زیر است:



**نتیجه:** با استفاده از فرآیند برقکافت در سلول الکترولیتی می‌توان منیزیم کلرید مذاب را به عنصرهای سازنده‌ی آن تجزیه کرد. واکنش نهایی انجام شده به صورت زیر است:



**تست ۱۲۹:** اگر برقکافت یک سلول الکترولیتی با ولتاژ ۱/۵ ولت قابل انجام باشد، با اتصال سلول گالوانی استاندارد تشکیل شده از الکترودهای کدام دو فلز به آن، برقکافت در آن انجام می‌شود؟ (تجربی ۹۳)



E و D (۴)

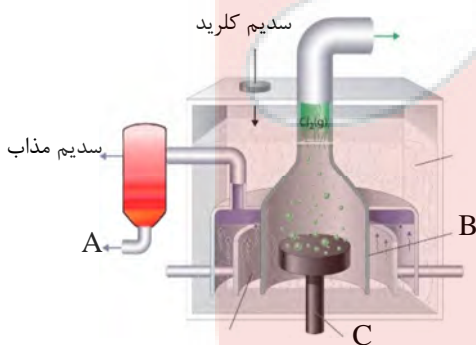
E و B (۳)

D و B (۲)

D و A (۱)

**پاسخ:**

**تست ۱۳۰:** کدام گزینه درباره‌ی تهیه‌ی فلز سدیم در سلول دانه مطابق شکل روبرو، نادرست است؟ (سراسری ریاضی ۹۳)



(۱) C، آند این سلول، از جنس گرافیت و B کاتد از جنس آهن است.

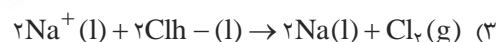
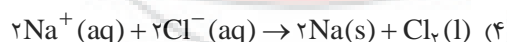
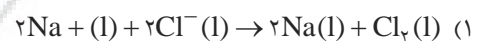
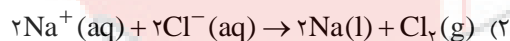
(۲) به ازای تولید هر مول فلز سدیم، نیم مول کلر تشکیل می‌شود.

(۳) سدیم مذاب به دست آمده، در ظرف A درون آب سرد جمع آوری می‌شود.

(۴) برای پایین آوردن دمای ذوب سدیم کلرید، مقداری کلسیم کلرید به آن می‌افزایند.

**پاسخ:**

**تست ۱۳۱:** کدام گزینه معادله‌ی واکنش کلی برقکافت سدیم کلرید مذاب را به درستی نشان می‌دهد؟ (فرد را بیازمایید صفحه ۵۵ و ۵۶)



**پاسخ:**

**تست ۱۳۲ :** اگر ۲/۹۲۵ % جرم آب دریا را سدیم کلرید تشکیل دهد ، چند لیتر گاز کلر در شرایط STP از هر تن آب دریا ، پس از جداسازی سدیم کلرید در سلول دانه تولید می‌شود؟ (بازده سلول دانه را ۸۰% فرض کنید)

( $\text{Na} = 23$  ,  $\text{Cl} = 35/5 : \text{g.mol}^{-1}$ )

۵۶۰۰ (۴)

۴۴۸۰ (۳)

۸۹۶۰ (۲)

۱۱۲۰۰ (۱)

**پاسخ :**

**تست ۱۳۳ :** اگر مخلوط دو ترکیب یونی سدیم یدید و کلسیم برمید را به صورت مذاب در یک سلول الکترولیتی قرار دهیم ، فرآورده‌های برقکافت کدام گونه‌ها هستند؟

$E^\circ(\text{Na}^+ / \text{Na}) = -2/71\text{V}$  و  $E^\circ(\text{Br}_2 / \text{Br}^-) = +1/07\text{V}$  و  $E^\circ(\text{Ca}^{2+} / \text{Ca}) = -2/87\text{V}$  و  $E^\circ(\text{I}_2 / \text{I}^-) = +0/54\text{V}$

$\text{Br}_2(\text{g})$  و  $\text{Ca}(\text{l})$  (۴)       $\text{I}_2(\text{l})$  و  $\text{Ca}(\text{l})$  (۳)       $\text{Br}_2(\text{g})$  و  $\text{Na}(\text{l})$  (۲)       $\text{I}_2(\text{l})$  و  $\text{Na}(\text{l})$  (۱)

**پاسخ :**

**تست ۱۳۴ :** معادله‌ی کلی فرآیند برقکافت کدام مخلوط دو نمک مذاب ، درست بیان شده است؟

$E^\circ(\text{Al}^{3+} / \text{Al}) = -1/66\text{V}$  و  $E^\circ(\text{Na}^+ / \text{Na}) = -2/71\text{V}$  و  $E^\circ(\text{Fe}^{3+} / \text{Fe}) = -0/04\text{V}$  و  $E^\circ(\text{Zn}^{2+} / \text{Zn}) = -0/76\text{V}$

$E^\circ(\text{Mg}^{2+} / \text{Mg}) = -2/38\text{V}$  و  $E^\circ(\text{K}^+ / \text{K}) = -2/92\text{V}$  و  $E^\circ(\text{Pb}^{2+} / \text{Pb}) = -0/13\text{V}$  و  $E^\circ(\text{Ni}^{2+} / \text{Ni}) = -0/25\text{V}$

$\text{KF}$  و  $\text{NaBr} : 2\text{Na}^+ + 2\text{F}^- \rightarrow \text{F}_2 + 2\text{Na}$  (۲)       $\text{FeCl}_3$  و  $\text{NiBr}_2 : 2\text{Fe}^{3+} + 6\text{Br}^- \rightarrow 2\text{Fe} + 3\text{Br}_2$  (۱)

$\text{AlF}_3$  و  $\text{PbI}_2 : 2\text{Al}^{3+} + 6\text{I}^- \rightarrow 3\text{I}_2 + 2\text{Al}$  (۴)       $\text{MgI}_2$  و  $\text{ZnCl}_2 : \text{Zn}^{2+} + 2\text{Cl}^- \rightarrow \text{Cl}_2 + \text{Zn}$  (۳)

**پاسخ :**

**تست ۱۳۵ :** اگر در فرآیند برقکافت نمک مذاب کلسیم کلرید ، ۷۰ گرم فلز کلسیم تولید شود ، چند لیتر گاز در شرایط STP در

این سلول تولید می‌شود؟ ( $\text{Ca} = 40 : \text{g.mol}^{-1}$ )

۱۹/۶ (۴)

۷۸/۴ (۳)

۳۹/۲ (۲)

۹/۸ (۱)

**پاسخ :**

**تست ۱۳۶ :** اگر بر اثر برقکافت سدیم کلرید مذاب ، ۸۹۶ میلی‌لیتر گاز در شرایط STP تولید شده باشد ، چند گرم سدیم از این

سلول می‌توان به دست آورد؟ ( $\text{Na} = 23 : \text{g.mol}^{-1}$ )

۱/۸۴ (۴)

۷/۳۶ (۳)

۰/۹۲ (۲)

۳/۶۸ (۱)

**پاسخ :**



**تست ۱۳۷:** اگر در اثر برقکافت نمک مذاب پتاسیم فلوئورید، ۵۰ میلی لیتر گاز فلوئور با چگالی  $1/9 \text{ g.mL}^{-1}$  در آند تولید شود، چند گرم یون پتاسیم در نیم واکنش کاتدی کاهش یافته است؟ ( $K = 39$  ,  $F = 19 : \text{g.mol}^{-1}$ )

- (۱) ۱۹۵ (۲) ۹۷/۵ (۳) ۳۹۰ (۴) ۴۸/۷۵

پاسخ:



**تست ۱۳۸:** اگر در ابتدا ۷۰/۳۲ گرم منیزیم کلرید از آب دریا وارد فرآیند تهیه فلز منیزیم از آب دریا شود و هر مرحله از واکنشها با بازدهی ۹۰٪ انجام شود، در نهایت به تقریب، چند گرم منیزیم مذاب تولید می شود؟ ( $Cl = 35/5$  ,  $Mg = 24 : \text{g.mol}^{-1}$ )

(فرد را ببینید صفحه ۵۵ و ۵۶)

- (۱) ۱۷/۷۶ (۲) ۱۲/۹۵ (۳) ۱۵/۳۶ (۴) ۱۰/۵۴

پاسخ:



**تست ۱۳۹:** از برقکافت ۱۲۵ کیلوگرم منیزیم کلرید مذاب ناخالص مقدار ۱۶/۸ کیلوگرم فلز منیزیم تهیه شده است. در صورتی که بازده درصدی فرآیند برقکافت ۷۶ باشد، درصد خلوص منیزیم کلرید اولیه کدام است؟ ( $Cl = 35/5$  ,  $Mg = 24 : \text{g.mol}^{-1}$ )

- (۱) ۵۰ (۲) ۶۰ (۳) ۷۰ (۴) ۸۰

پاسخ:

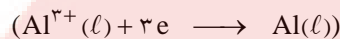


## استخراج آلومینیم


آلومینیوم فراوان‌ترین ..... و ..... فراوان در روی پوسته‌ی زمین ( پس از O و Si ) است . در صنعت آلومینیوم را از سنگ معدنی آلومینیوم داری به نام ..... ( آلومینای ناخالص  $Al_2O_3$  ) به دست می‌آورند . چون دمای ذوب آلومینای خالص  $2045^{\circ}C$  است ، تأمین این دما و برق‌کافت آن به حالت مذاب ممکن نیست . به همین دلیل آلومینا را پس از خالص سازی در دمایی حدود  $960^{\circ}C$  در ..... ( $Na_3AlF_6$ ) مذاب حل می‌کنند. (الکترولیت) فرآیند برق‌کافت محلول مذاب یاد شده در یک سلول الکترولیتی با الکترودهای ..... انجام می‌شود . کف و دیواره‌ی دستگاه نیز از جنس گرافیت است .

اکسیژن آلومینا در ..... زغالی آزاد می‌شود و مقداری در دمای بالا با ذغال ترکیب شده و به  $CO_2$  تشکیل می‌دهد .

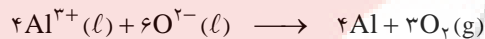
$Al^{3+}$  در کاتد کاهش نامیده می‌شود .



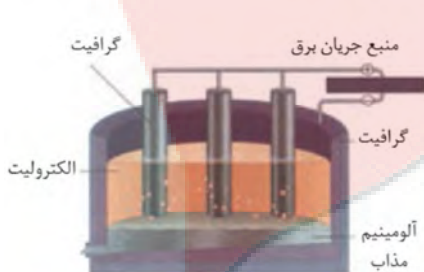

کاهش در کاتد :



اکسایش در آنود :



واکنش کلی :



تولید آلومینیوم با این روش را فرآیند هال می‌گویند . قبل از ابداع روش هال آلومینیوم از طلا و نقره نیز گران‌تر بود.

🔴 **تذکر:** چون فرآیند هال به علت مصرف زیادی انرژی الکتریکی هزینه‌ی بالایی دارد ، به همین علت بازیافت فلز Al باعث کاهش برش هزینه‌های تولید Al می‌شود .

( تهیه‌ی قوطی Al از قوطی‌های کهنه فقط ۷٪ انرژی تهیه قوطی از سنگ معدن Al نیاز دارد )



**تست ۱۴۰:** اگر  $\frac{1}{5}$  گاز اکسیژن تولید شده در نیم واکنش آندی در استخراج آلومینیوم به روش هال به گاز  $\text{CO}_2$  تبدیل شود، حجم گاز  $\text{CO}_2$  که در ازای ۲۷ گرم فلز آلومینیوم تولید می‌شود، در شرایط استاندارد چند میلی لیتر است؟ ( $\text{Al} = 27 \text{g} \cdot \text{mol}^{-1}$ )

۳۳۶۰ (۱)      ۱۶۸۰ (۲)      ۲۸۰۰ (۳)      ۵۶۰۰ (۴)

**پاسخ:**



**تست ۱۴۱:** تمام گزینه‌ها به جز ..... مطلب درستی را بیان می‌کنند.

- (۱) آلومینیوم یکی از پرکاربردترین فلزها محسوب می‌شود.
- (۲) مهم‌ترین سنگ معدن آلومینیوم، آلومینا ( $\text{Al}_2\text{O}_3$ ) است.
- (۳) بوکسیت، آلومینای ناخالص است.
- (۴) در صنعت آلومینیوم را از سنگ معدنی آلومینیوم دار به دست می‌آورند.

**پاسخ:**



**تست ۱۴۲:** کدام مورد درباره‌ی فرآیند استخراج صنعتی آلومینیوم درست است؟

- (۱) مجموع ضرایب استوکیومتری فرآورده‌ها در معادله‌ی کلی موازنه‌شده‌ی آن برابر ۶ است.
- (۲) فلز آلومینیوم به دست آمده از بالای سلول الکترولیتی به صورت مذاب خارج می‌شود.
- (۳) به ازای تولید ۱۳۵ گرم آلومینیوم در فرآیند هال در کاتد،  $\frac{7}{5}$  مول گاز  $\text{CO}_2$  در آند تشکیل می‌شود.
- (۴) برخلاف سلول دانه، الکتروود آند در این فرآیند نقش واکنش دهنده نیز دارد.

**پاسخ:**



**تست ۱۴۳:** در تولید صنعتی هر تن آلومینیوم به تقریب چند کیلوگرم گرافیت نیاز است و چند متر مکعب گاز در شرایطی که حجم

(کنکور ریاضی ۹۶)

مولی گازها برابر ۲۵ لیتر است، تولید می‌شود؟ (گزینه‌ها را از راست به چپ بخوانید.)

۶۹۴/۴ - ۴۴۴ (۲)      ۶۹۹۴/۴ - ۳۳۳ (۳)      ۶۹۹۴/۴ - ۴۴۴ (۴)

**پاسخ:**

## آبکاری

پوشاندن یک جسم با یک لایه نازک از یک فلز با کمک یک سلول الکترولیتی آبکاری نامیده می‌شود.

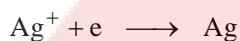
**نکته:** الکترولیت مورد استفاده برای آبکاری باید دارای یون‌های آن فلزی باشد که قرار است لایه‌ی نازکی از آن روی جسم قرار گیرد.

**مثال:** برای نمونه در آبکاری با نقره محلولی از نقره نیترات ( $AgNO_3$ ) به عنوان الکترولیت به کار برده می‌شود.

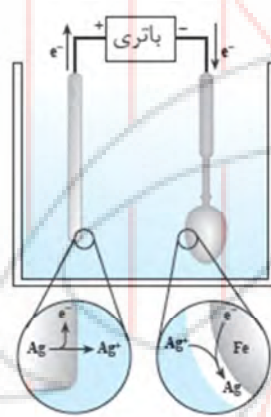
**نکته:** در سلول الکترولیتی برای آبکاری جسمی که قرار است روی آن لایه‌ی نازکی قرار گیرد در کاتد قرار می‌گیرد. (قطب منفی) و الکتروود دیگر که از جنس فلز پوشاننده است، آند یا قطب مثبت است.



نیم واکنش اکسایش آندی:

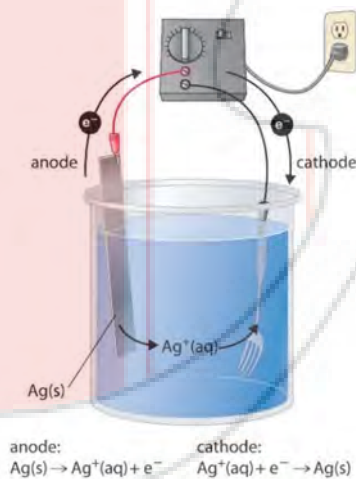


نیم واکنش کاهش کاتی:



**آبکاری را در یک سطر برای تمام عمر به خاطر بسپارید:**

..... لباس ..... است. و معلول الکترولیت حاوی یون‌های ..... (.....) است.





**تست ۱۱۴۴ :** درباره یک سلول الکترولیتی که با آن می‌خواهیم یک قاشق مسی را با نقره بپوشانیم ، مطلب کدام گزینه درست است؟

- (۱) قاشق مسی به قطب منفی متصل می‌شود .
- (۲) الکتروود آندی از جنس مس است .
- (۳) الکترون‌ها در مدار بیرونی ، از سمت قاشق به سمت تیغه‌ی نقره می‌روند .
- (۴) محلول الکترولیت مناسب ، محلول مس (II) سولفات است .

**پاسخ :**



**تست ۱۱۴۵ :** برای اینکه روی تیغه‌ی آهنی را با فلز روی بپوشانیم کدام الکترولیت مناسب است ؟

- (۱) آهن (II) نیترات
- (۲) آهن (III) نیترات
- (۳) روی نیترات
- (۴) اسید نیتریک

**پاسخ :**



**تست ۱۱۴۶ :** برای آنکه یک قاشق فلزی با نقره ، آب کاری شود ، کدام عبارت درست است ؟

- (۱) عمل کاهش در سطح قاشق صورت می‌گیرد .
- (۲) کاتد را یک تیغه از جنس نقره انتخاب می‌نمایند .
- (۳) جهت حرکت الکترون در مدار خارجی از کاتد به آند است .
- (۴) قاشق فلزی را به آند ( قطب مثبت ) متصل می‌کنند .

**پاسخ :**



**تست ۱۱۴۷ :** با توجه به شکل زیر ، که طرح یک سلول الکترولیتی را برای آب کاری یک قاشق مسی با فلز M نشان می‌دهد ، کدام

(ریاضی خارج کشور ۸۷ و ۸۸)



مطلب درست است؟

- (۱) کاتد تیغه‌ای از جنس فلز M است.
- (۲) الکترولیت ، محلول نمکی از فلز M است.
- (۳) نیم‌واکنش کاهش به صورت :  $\text{Cu}^{2+}(\text{aq}) + 2\text{e}^{-} \rightarrow \text{Cu}(\text{s})$  ، انجام می‌گیرد.
- (۴) قاشق مسی ، نقش آند را دارد و با گذشت زمان ، بر وزن آن افزوده می‌شود.

**پاسخ :**





**تست ۱۴۸ :** کدام مطلب درباره‌ی آب‌کاری یک قاشق آهنی با نقره درست نیست؟

(ریاضی خارج کشور ۹۲)



(۱) بدون برقرار کردن جریان برق ، واکنش به صورت  $\text{Fe}(\text{s}) + \text{Ag}^{+}(\text{aq}) \longrightarrow \text{Fe}^{2+}(\text{aq}) + \text{Ag}(\text{s})$  ، در سلول انجام می‌گیرد و به وزن تیغ‌های نقره افزوده می‌شود.

(۲) اگر پس از آب‌کاری ، روی قاشق خراش ایجاد شود ، در هوای مرطوب ، آهن نقش آند را دارد.

(۳) پتانسیل استاندارد این سلول الکترولیتی منفی و نیم‌واکنش غیر خود به خودی به صورت :  $\text{Ag}^{+}(\text{aq}) + \text{e}^{-} \longrightarrow \text{Ag}(\text{s})$  در قطب منفی انجام می‌شود.

(۴) در آند این سلول ، قطعه‌ای از فلز نقره قرار داده می‌شود و با انجام واکنش در سلول ، از وزن آن کاسته می‌شود.

**پاسخ :**



**تست ۱۴۹ :** کدام عبارت درباره‌ی آب‌کاری یک قطعه‌ی فلزی با نقره با الکترولیت نقره نیترات و آند نقره‌ای درست است؟ (تجربی خارج کشور ۹۳)

(۱) اگر  $E^{\circ}$  فلز به کار رفته در ساخت قطعه ، از  $E^{\circ}$  نقره کوچک‌تر باشد ، با قطع مدار بیرونی ، هیچ واکنشی در سلول انجام نمی‌گیرد.

(۲) الکترون‌ها در مدار بیرونی از سوی قطعه‌ی فلزی به سوی الکتروود نقره حرکت می‌کنند.

(۳)  $E^{\circ}$  فلز به کار رفته در ساخت قطعه در ساخت قطعه باید از  $E^{\circ}$  نقره کوچک‌تر باشد.

(۴) غلظت محلول نقره نیترات در طول انجام آب‌کاری به تقریب ثابت می‌ماند.

**پاسخ :**



**تست ۱۵۰ :** در یک کارگاه آب‌کاری کروم ، از محلول کروم (III) سولفات به عنوان الکترولیت و از زغال به عنوان آند ، استفاده

می‌شود. اگر در آب‌کاری هر قطعه ، حدود ۰/۰۱۰۴ گرم فلز کروم روی قطعه قرار گیرد. پس از آب‌کاری هزار نمونه از همان قطعه ،

به تقریب چند گرم کروم (III) سولفات با خلوص ۸۰ درصد باید به الکترولیت اضافه شود تا غلظت یون‌های کروم ، به مقدار اولیه

بازگردد؟ (تغییر حجم ناچیز است.) (سراسری ریاضی خارج کشور ۹۳)

(۱) ۳۹/۲ (۲) ۴۹ (۳) ۵۸/۸ (۴) ۹۴

**پاسخ :**



**تست ۱۵۱ :** چند مورد از مطالب زیر ، درست هستند؟

(ریاضی خارج کشور ۹۴)

(ا) در آب‌کاری با نقره در سطح یک جسم فلزی ، نقره در آند اکسید می‌شود.

(ب) در برقکافت نمک خوراکی مذاب ، شمار مول‌های فرآورده‌ها در کاتد ، دوبرابر آند است.

(پ) یک تانکر بسیار بزرگ می‌تواند مقدار زیادی گاز هیدروژن را حمل کند.

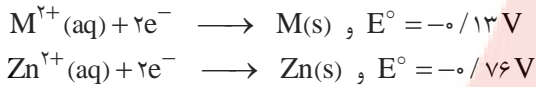
(ت) به ازای تولید هر مول آلومینیوم در فرآیند هال ، ۱۶/۸ لیتر گاز در شرایط STP تولید می‌شود.

(۱) ۱ (۲) ۲ (۳) ۳ (۴) ۴

**پاسخ :**



**تست ۱۵۲ :** با توجه به نیم‌واکنش‌های زیر :



واکنش :  $M(s) + Zn^{2+}(aq) \longrightarrow M^{2+}(aq) + Zn(s)$  ، ..... است و  $E^{\circ}$  آن برابر ..... ولت است و در یک سلول ..... انجام پذیر است.

(۱) خود به خودی ،  $+0.89$  ، گالوانی

(۳) غیر خود به خودی ،  $-0.89$  ، گالوانی

**پاسخ :**

(۲) خود به خودی ،  $+0.63$  ، الکترولیتی

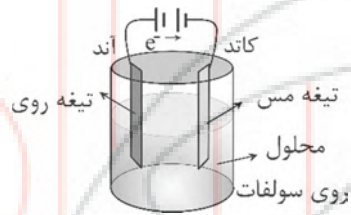
(۴) غیر خود به خودی ،  $-0.63$  ، الکترولیتی

( سراسری ریاضی خارج کشور ۹۳ )

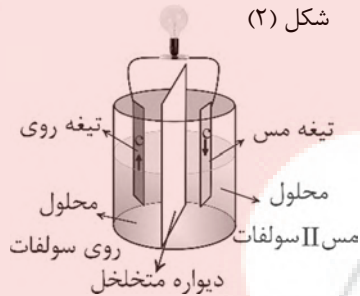
**تست ۱۵۳ :** با توجه به شکل‌های زیر ، می‌توان دریافت که شکل ..... ، طرح یک سلول ..... است که در آن .....



شکل (۱)



شکل (۲)



(۱) الکترولیتی - یون  $Cu^{2+}$  کاهش یافته و ذرات مس بر سطح کاتد می‌نشینند. ( سراسری تجربی خارج کشور ۸۷ )

(۲) الکتروشیمیایی - تیغه روی - قطب منفی ( کاتد ) و محل کاهش است.

(۳) الکترولیتی - با اعمال ولتاژ بیرونی ، یک واکنش اکسایش - کاهش غیر خود به خودی انجام می‌گیرد.

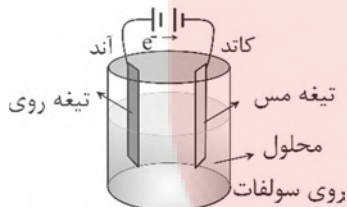
(۴) الکتروشیمیایی - تیغه مس قطب مثبت ( آند ) است و الکترون را از مدار بیرونی از تیغه روی دریافت می‌کند.

**پاسخ :**

**تست ۱۵۴ :** شکل مقابل ، طرح ساده‌ای از یک سلول ..... مس - روی است و در آن یک واکنش الکتروشیمیایی .....



انجام می‌گیرد و ذرات فلز ..... بر سطح تیغه‌ی ..... می‌نشینند. ( سراسری تجربی خارج کشور ۸۹ )



(۱) الکتروشیمیایی - خود به خودی - مس - روی

(۲) الکتروشیمیایی - خود به خودی - روی - مس

(۳) الکترولیتی - غیر خود به خودی - مس - روی

(۴) الکترولیتی - غیر خود به خودی - روی - مس

**پاسخ :**

**تست ۱۵۵:** اگر دو قاشق فلزی یکسان را در سلول‌های الکترولیتی (A) و (B) به ترتیب با نقره و مس آبکاری کنیم، با عبور جریان برق برابر از هر دو سلول الکترولیتی، نسبت جرم اضافه شده به قاشق در سلول الکترولیتی (A) به جرم اضافه شده به قاشق در سلول الکترولیتی (B) تقریباً کدام است؟ ( $Ag = 108$ ,  $Cu = 64 \text{ g} \cdot \text{mol}^{-1}$ )

۳/۳۷ (۴)

۱/۶۸ (۳)

۰/۸۴ (۲)

۰/۴۲ (۱)

پاسخ: 

**تست ۱۵۶:** اگر برآثر برق‌کافت آلومینای خالص در فرآیند هال،  $8/64$  گرم فلز آلومینیوم به دست آید، گاز حاصل با چند میلی لیتر محلول لیتیم هیدروکسید  $2 \text{ mol} \cdot \text{L}^{-1}$  به طور کامل واکنش می‌دهد؟ ( $Al = 27 \text{ g} \cdot \text{mol}^{-1}$ )

۱۶۰ (۴)

۱۲۰ (۳)

۳۲۰ (۲)

۲۴۰ (۱)

پاسخ: 

## لیتیم ، فلزی ارزشمند برای ذخیره انرژی الکتریکی

در این قسمت علاوه بر مرور نکات مربوط به باتری‌ها که تاکنون آموختیم ، به معرفی باتری‌های لیتیمی نیز می‌پردازیم.

### تولید انرژی الکتریکی با باتری‌ها

باتری‌ها نوعی سلول گالوانی هستند که در آن‌ها واکنش‌های اکسایش - کاهش و داد و ستد الکترون رخ می‌دهد.

🌟 **تذکره:** تمام نکات مربوط به سلول‌های گالوانی در مورد باتری‌ها نیز درست است ، به عنوان مثال در باتری‌ها نیز همانند سلول‌های گالوانی جهت حرکت الکترون در مدار بیرونی از آند به سمت کاتد است و جهت حرکت کاتیون در مدار درونی و از طریق دیواره‌ی متغلق به سمت کاتد است.

باتری یکی از فرآورده‌های مهم صنعتی و یک مولد است که در محل مورد نیاز با انجام واکنش‌های شیمیایی ، بخشی از انرژی شیمیایی مواد موجود در خود را به انرژی الکتریکی تبدیل کرده و الکتریسیته تولید می‌کند.

باتری‌ها در شکل ، اندازه و کارایی با یکدیگر تفاوت آشکاری دارند ، در واقع هر باتری ساختاری مناسب برای کاربردی معین دارد. البته در همه‌ی باتری‌ها با انجام شدن نیم‌واکنش‌های آندی و کاتدی ، جریان الکتریکی در مدار بیرونی برقرار می‌شود.

### موادی که انرژی خود را از باتری تأمین می‌کنند

انرژی الکتریکی مورد نیاز بسیاری از وسایل پیرامون ما از باتری‌ها تأمین می‌شود.

۱- ساعت مچی ۲- تلفن همراه ۳- تنظیم کننده‌ی ضربان قلب ۴- سمعک ۵- اندام مصنوعی ۶- دوربین دیجیتال ۷- رایانه‌ی قابل حمل ۸- خودروی الکتریکی ۹- موتور سیکلت برقی

### چند نمونه از باتری‌ها

۱- **باتری لیمویی:** در باتری‌ای که با لیمو ساخته شده است ، بین تیغه‌های فلزی و ماده‌ی درون لیمو واکنش شیمیایی رخ می‌دهد. در این واکنش بارهای منفی در یک سر باتری ( تیغه‌ی مس ) جمع می‌شود و سر دیگر باتری ( تیغه‌ی روی ) بار مثبت پیدا می‌کند. در نتیجه بین دو سر این باتری اختلاف پتانسیل ایجاد می‌شود.

📌 **نکته:** در باتری‌ها همواره دو فلز غیر هم‌جنس در یک مایع شیمیایی خاص ( یا خمیر شیمیایی مرطوب ) که الکترولیت نامیده می‌شود ، قرار دارند. در باتری لیمویی ، لیمو خاصیت اسیدی داشته و الکترولیت است. در واقع الکترولیت‌ها اجازه می‌دهند تا بین دو تیغه جابه‌جایی یون‌ها انجام شود.

۲- **چراغ خورشیدی:** یک ابزار روشنایی است که از لامپ LED ، سلول خورشیدی و باتری قابل شارژ تشکیل شده است.

🌟 **تذکره:** در باتری‌های قابل شارژ نوعی واکنش برگشت‌پذیر انجام می‌شود.

۳- **باتری‌های لیتیمی:** که در ادامه با آن‌ها آشنا خواهیم شد.



## باتری‌های لیتیومی

شیمی‌دان‌ها در پی پاسخ به نیاز و تقاضای پیوسته برای ساخت باتری‌ها با ویژگی‌های گوناگون و کاربرد معین، طی پژوهش‌های بسیار توانستند به فناوری ساخت باتری‌های جدید دست یابند.

در این فناوری نقش فلز لیتیوم پر رنگ است. زیرا لیتیوم در میان فلزها کم‌ترین چگالی و  $E^\circ$  را دارد. این ویژگی‌های لیتیوم سبب شد راه برای ساخت باتری‌های سبک‌تر، کوچک‌تر و با توانایی ذخیره‌ی بیش‌تر انرژی هموار شود.

باتری‌های لیتیومی نیز همانند تمام باتری‌های دیگر دارای دو بخش آندی و کاتدی بوده و با انجام یک واکنش شیمیایی، انرژی الکتریکی تولید می‌کنند.

باتری دگمه‌ای از جمله باتری‌های لیتیومی است که در شکل‌ها و اندازه‌های گوناگون تولید شده و به کار می‌رود. این باتری‌ها قابل شارژ نیستند.

### نکته: در باتری غیر قابل شارژ یک واکنش اکسایش – کاهش یک طرفه و برگشت‌ناپذیر رخ می‌دهد.

دسته‌ی دیگری از باتری‌های لیتیومی آن‌هایی هستند که در تلفن همراه و رایانه‌ی همراه به کار می‌روند و می‌توان آن‌ها را بارها شارژ کرد.

\* **تذکر:** در باتری‌های قابل شارژ یک واکنش اکسایش – کاهش برگشت‌پذیر انجام می‌شود. در باتری‌های قابل شارژ با اعمال

انرژی الکتریکی مجدداً انرژی شیمیایی در باتری ذخیره می‌شود. در واقع در باتری‌های قابل شارژ دو اتفاق زیر رخ می‌دهد:

انرژی الکتریکی  $\longrightarrow$  انرژی شیمیایی : در هنگام استفاده از باتری (دشارژ)

در حالی که، در این باتری‌ها در هنگام شارژ، انرژی الکتریکی تبدیل به انرژی شیمیایی شده و در مواد ذخیره می‌شود:

انرژی شیمیایی  $\longrightarrow$  انرژی الکتریکی : در هنگام شارژ شدن

نتیجه: باتری‌های لیتیومی به دو دسته‌ی قابل شارژ و غیر قابل شارژ تقسیم می‌شوند.

## شیمی و زندگی

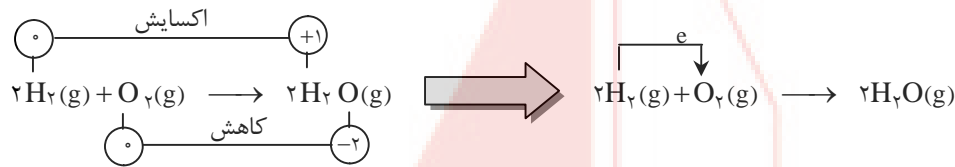
- در طول سده‌ی گذشته، بنزین مناسب‌ترین سوخت برای حرکت خودروها بوده است. بنزین را از تقطیر نفت خام تهیه می‌کنند.
- با مصرف بی‌رویه نفت خام، اکنون ذخایر آن به سرعت رو به کاهش است. اگرچه هنوز نفت خام زیادی در دل زمین وجود دارد، اما این اندوخته‌ها در مکان‌هایی قرار دارند که دسترسی به آن‌ها بسیار دشوار است. از سوی دیگر، گسترش روزافزون آلودگی ناشی از مصرف سوخت‌های فسیلی، جهان را با یک چالش بزرگ مواجه کرده است.
- یافتن جایگزینی مناسب برای سوخت‌های فسیلی به ویژه در خودروها ضروری است. یک راه حل مناسب برای عبور از تنگنای تامین انرژی و کاهش آلودگی محیط زیست، استفاده از سلول‌های سوختی است.

## سلول سوختی:

- (۱) سلول‌های سوختی از سلول‌های گالوانی به شمار می‌روند، یعنی انرژی شیمیایی را به انرژی الکتریکی تبدیل می‌کنند.
- (۲) اختلاف یک سلول سوختی با سایر سلول‌های گالوانی در این است که واکنش دهنده‌ها داخل سلول قرار ندارند، بلکه سوخت مورد نیاز به طور پیوسته از یک منبع ذخیره خارجی به سلول سوختی انتقال می‌یابد.
- (۳) سلول‌های سوختی از جمله سلول‌های نوع اول هستند. یعنی با تمام شدن سوخت مورد نیاز، غیر فعال می‌شوند.
- (۴) در این سلول‌ها به منظور تولید جریان برق، یک سوخت گازی شکل به آرامی اکسید می‌شود.

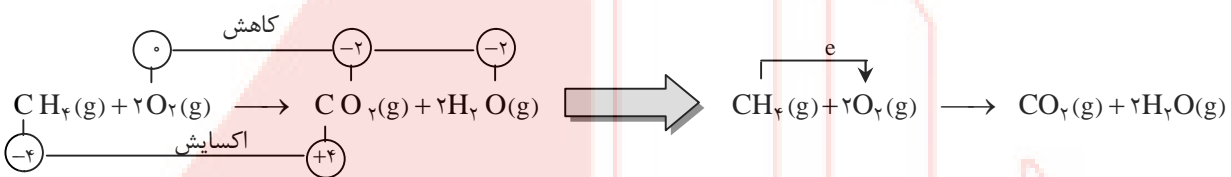


**مثال :** یکی از مشهورترین سلولهای سوختی ، سلول سوختی اکسیژن - هیدروژن است که به منظور تولید جریان برق ، گاز هیدروژن به آرامی اکسید می‌شود .



فرآورده این سلول آب و الکتریسیته است.

(۵) امروزه سلولهای سوختی تازه‌ای به بازار راه یافته‌اند که در آنها به جای گاز هیدروژن از گاز شهری (متان -  $CH_4$ ) استفاده می‌شود.



(۶) مصارف سلولهای سوختی

(آ) تامین انرژی الکتریسیته برخی وسایل خانگی

(ب) تامین الکتریسیته فضاییها

(پ) تامین آب مورد نیاز فضانوردان

(ت) نیروی محرکه خودروهای سبک و سنگین

(ث) نیروی محرکه هواپیماها و زیردریایی‌ها

**تاریخچه سلولهای سوختی**

(۱) در سال ۱۸۳۹ ویلیام کرو فیزیکدان و روزنامه نگار انگلیسی اصول کار سلول سوختی را کشف کرد

(۲) تولید سلول سوختی به سال ۱۸۸۹ توسط لودویگ مند و پارلز لنبر بر میگردد.

(۳) از سال ۱۹۶۰ ناسا از سلولهای سوختی در سفینه‌های بی‌مینی و آپولو برای تهیه الکتریسیته و آب مورد نیاز فضانوردان استفاده کرد.

(۴) در دهه هفتاد میلادی ، فناوری سلول سوختی در وسایل فانگی و خودروها به کار گرفته شد.

(۵) از دهه هشاد به بعد شرکت بالارد کانادا زیردریایی مجهز به سلول سوختی را ساخت


(۶) هواپیماهای سلول سوختی در سال ۲۰۰۰ با نیروی محرکه‌ی دوگانه باتری فورشیدی و سلول سوختی با توان شش ماه پرواز به بهره

برداری رسید.

### تامین سوخت سلول سوختی


بزرگ‌ترین چالش در کاربرد سلول‌های سوختی، تولید گاز هیدروژن در مقیاس صنعتی است. دو روش تهیه‌ی گاز هیدروژن به صورت زیر است:

**(ا) برقکافت آب:** معادله‌ی آن به صورت روبرو است:



ایراد این روش این است که به دلیل مصرف انرژی الکتریکی، هزینه‌ی بالایی دارد.

**(ب) واکنش بخار آب با متان:** واکنش انجام شده به صورت روبرو است:



حسن روش (ب)، صرفه‌ی اقتصادی آن است. اما چالش آن، جداسازی و خالص سازی  $\text{H}_2(g)$  است، زیرا وجود مقادیر اندک  $\text{CO}(g)$  می‌تواند کاتالیزورها را در سلول سوختی مسموم کند و از کارایی آن‌ها بکاهد.

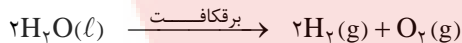
**تذکر:** یکی از مشکلات کار کردن با گاز هیدروژن به عنوان سوخت، کم بودن چگالی آن است. گاز هیدروژن کم‌ترین چگالی را در میان عنصرها دارد. از این رو حتی یک تانکر بسیار بزرگ نمی‌تواند مقدار زیادی از این گاز را حمل کند.

### مزایا و معایب سلول‌های سوختی

#### ۱- تولید و در دسترس بودن سوخت:

در رایج‌ترین سلول سوختی، گاز هیدروژن با گاز اکسیژن به صورت کنترل شده واکنش می‌دهد. بزرگ‌ترین چالش در کاربرد سلول‌های سوختی تولید گاز هیدروژن در مقیاس صنعتی است. برقکافت آب و واکنش بخار آب با متان و استفاده از مخلوط گاز آب، سه روش اصلی تهیه‌ی گاز هیدروژن در صنعت می‌باشند که هر کدام دارای معایبی هستند. تلاش شیمیدان‌ها برای یافتن سوخت مناسب، ایمن و با صرفه‌ی اقتصادی همچنان ادامه دارد.

**(ا) برقکافت آب:**



به دلیل مصرف زیاد انرژی الکتریکی، افزون بر هزینه‌ی بالا، آلاینده‌ی‌های محیط زیست را نیز به دنبال دارد.

**(ب) واکنش بخار آب با متان:**



انجام واکنش پرهزینه نیست و صرفه‌ی اقتصادی دارد، ولی برای تامین سوخت، باید گاز  $\text{H}_2$  تولید شده را از گاز  $\text{CO}$  جداسازی و خالص نمود. تصفیه‌ی هیدروژن قبل از ورود به سلول بسیار پرهزینه است. ضمن این که فرآورده‌ی جانبی تولید شده نیز آلاینده محیط زیست است.

**(پ) مخلوط گاز آب:**



انجام این واکنش در صنعت صرفه‌ی اقتصادی دارد، ولی تصفیه هیدروژن قبل از ورود به سلول بسیار پرهزینه است. ضمن این که فرآورده‌ی جانبی تولید شده نیز آلاینده محیط زیست است.

#### ۲- اثرات زیست محیطی

گسترش روز افزون آلودگی ناشی از مصرف سوخت‌های فسیلی، جهان را با یک چالش بزرگ مواجه کرده است. با این توصیف، یافتن جایگزینی مناسب برای سوخت‌های فسیلی به ویژه در خودروها ضروری است. یک راه حل مناسب برای عبور از این تنگنا، استفاده از سلول‌های سوختی است. آلاینده‌ی سلول‌های سوختی به مراتب از موتورهای درون سوز و برون سوز کم‌تر است. برای مثال، سلول سوختی هیدروژن - اکسیژن فرآورده‌ی آلاینده‌ای ندارد و تنها فرآورده‌ی این سلول آب است. البته فرایند تولید سوخت هیدروژن برای این سلول، آلاینده‌ی محیط زیست را دارد.



### ۳- بازدهی سلول :

بازده سلول‌های سوختی به مراتب بیش‌تر از موتورهای درون سوز و برون سوز است. برای مثال ، سوزاندن گاز هیدروژن در موتور درون سوز بازدهی نزدیک به ۲۰ درصد دارد ، در حالی که اکسایش آن در سلول سوختی بازده را تا سه برابر افزایش می‌دهد.

### ۴- کارایی و طول عمر کاتالیزگر

اگرچه کاتالیزگرهای سلول سوختی ، سرعت نمی‌واکنش‌های آندی و کاتدی را افزایش می‌دهند و کارایی بالایی دارند ، ولی اگر سوخت خالص نباشد ، کاتالیزگر مسموم می‌شود و از کارایی آن کاسته می‌شود. برای مثال ، وجود مقادیر اندک گاز کربن مونوکسید (CO) همراه با گاز هیدروژن ، می‌تواند کاتالیزگرها را در سلول سوختی مسموم کند و از کارایی آن‌ها بکاهد. از این رو ، کاتالیزگرهای سوختی بایستی به صورت دوره‌ای تعویض شوند.

### ۵- نگهداری و ایمنی سوخت :

همان‌طور که گفته شد ، سلول سوختی هیدروژن - اکسیژن ، رایج‌ترین نوع سلول سوختی است که سوخت آن گاز هیدروژن است. گاز هیدروژن کم‌ترین چگالی را در میان تمام عنصرهای جدول تناوبی دارد. چگالی بسیار کم گاز هیدروژن ، نشان می‌دهد که مقادیر بسیار کم این گاز ، حجم بسیار زیادی اشغال می‌کند. از این رو نگهداری و حمل هیدروژن بسیار دشوار است ، به طوری که یک تانکر بسیار بزرگ هم نمی‌تواند مقدار زیادی از این گاز را حمل کند. همچنین گاز هیدروژن ، خطرناک و آتش‌گیر است. و جزء سوخت‌های با ایمنی پایین به شمار می‌رود. در شیمی ۲ خواندیم که هیدروژن به آسانی با بیش‌تر عنصرها از جمله با اکسیژن واکنش نشان می‌دهد و به دلیل واکنش پذیری زیاد هیدروژن با عنصرهای گوناگون ، نمی‌توان آن را به حالت آزاد در طبیعت یافت.

$$\downarrow d = \frac{m}{V} \uparrow$$

### ۶- هزینه تولید سلول :

از سال ۱۸۸۹ که اولین سلول سوختی توسط لودویک مند و چارلز لنجر ساخته شد ، تا امروز فرایند تولید سلول‌های سوختی گسترش یافته و شیمی دان‌ها هر روز به دنبال روش‌های باصرفه‌تری برای تولید سلول‌های سوختی نسبت به روش‌های دیگر تبدیل انرژی شیمیایی به انرژی الکتریکی بالاست.



### سلول سوختی هیدروژن - اکسیژن

(۱) سلول سوختی ، ساختاری همانند سلول‌های گالوانی دارد. در رایج‌ترین سلول سوختی ، گاز هیدروژن با گاز اکسیژن به صورت کنترل شده واکنش می‌دهد و بخش قابل توجهی از انرژی شیمیایی به انرژی الکتریکی تبدیل می‌شود.

(۲) با این سلول ، واکنش شدید سوختن هیدروژن در اکسیژن که به تولید آب می‌انجامد ، به طور کاملاً کنترل شده انجام می‌شود و به این ترتیب ، انرژی گرمایی زیاد حاصل از واکنش دو گاز ، به صورت انرژی الکتریکی در دسترس قرار می‌گیرد.

(۳) شکل روبرو ساختار ساده‌ای از سلول سوختی هیدروژن -

اکسیژن را نشان می‌دهد. این سلول بر مبنای واکنش میان گاز

هیدروژن و گاز اکسیژن کار می‌کند.

(۴) هر سلول سوختی سه جزء دارد که شامل یک غشا ، الکتروود آند و

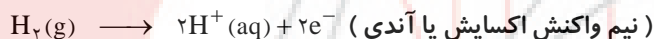
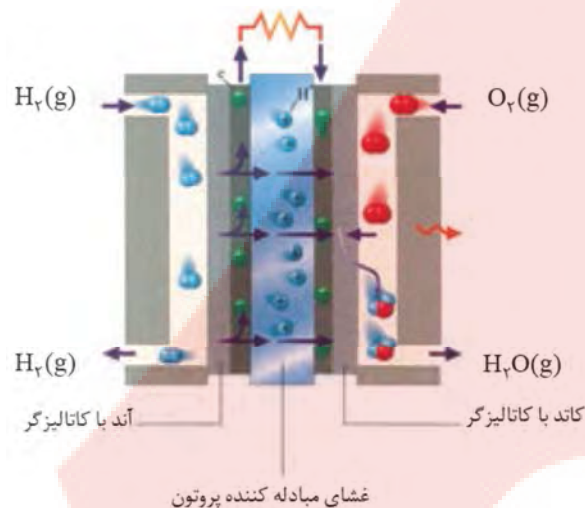
الکتروود کاتد است. در واقع آند و کاتد کاتالیزگرهایی هستند که

انجام نیم واکنش اکسایش و نیم واکنش کاهش را آسان‌تر

می‌کنند.

(۵) در سمت آند ، گاز هیدروژن ورودی با نفوذ در آند ، یونیده

می‌شود و تولید یون  $H^+$  ( پروتون ) و الکترون می‌کند.



گاز هیدروژن مصرف نشده نیز از خروجی کنار الکتروود آندی خارج شده و مجدداً بازگردانی می‌شود.

(۶) غشای مبادله کننده پروتون همان طور که از اسمش پیداست ، تنها اجازه عبور و انتقال بار مثبت ( $H^+$ ) را از خود می‌دهد و

در نتیجه الکترون‌ها باید از مدار الکتریکی سلول عبور نمایند. بنابراین یون‌های هیدروژن ( $H^+$ ) از طریق غشا و الکترون‌ها از

مسیر مدار الکتریکی به سمت کاتد حرکت می‌کنند.

(۷) مانند سلول‌های گالوانی ، جهت حرکت الکترون‌ها از آند به سمت کاتد و از طریق رسانای الکترونی یا مدار بیرونی انجام

می‌پذیرد.

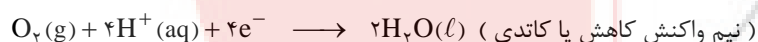
(۸) مانند سایر سلول‌های گالوانی ، کاتیون‌ها ( $H^+$ ) از طریق رسانای یونی ( غشا ) یا مدار درونی به سمت کاتد می‌روند.

(۹) در سمت کاتد ، گاز اکسیژن با الکترون‌هایی که از سمت آند آمده و یون‌های  $H^+$  که از طریق الکتروولیت آمده ، واکنش داده

و بخار آب تولید می‌شود. بخار آب تولید شده به کمک جریان آب سرد یا جریان هوای سرد ، مایع می‌شود. آب مایع نیز از

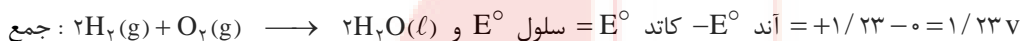
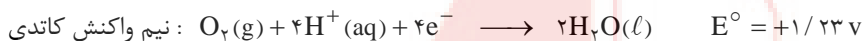
خروجی کنار الکتروود کاتدی سلول خارج می‌شود. این همان آبی است که فضانوردان در سفینه‌های فضایی از آن استفاده

می‌کنند.





۱۰) ولتاژ سلول سوختی همان طور که می‌دانید، ولتاژ ( $E^\circ$ ) یک سلول سوختی مانند هر سلول گالوانی دیگری برابر مجموع  $E^\circ$  های نیم واکنش‌های آندی و کاتدی است، پس:



۱۱) بازده سلول سوختی: با توجه به این که در سلول سوختی هیدروژن - اکسیژن  $E^\circ$  نیم واکنش آندی برابر صفر است، می‌توان ادعا نمود که  $E^\circ$  سلول برابر  $E^\circ$  نیم واکنش کاتدی است.

۱۲) بازدهی سلول سوختی طبق رابطه زیر محاسبه می‌شود:

$$\text{ولتاژ روی ولت سنج ( عملی )} \\ \text{بازده سلول سوختی} = \frac{\text{سلول } E^\circ \text{ ( تئوری )}}{\text{ولتاژ روی ولت سنج ( عملی )}} \times 100$$

برای نمونه اگر فرض کنیم ولت سنج، نیروی الکتروموتوری سلول سوختی هیدروژن - اکسیژن را برابر  $0/7$  ولت نشان می‌دهد، می‌توان نوشت:

$$\text{بازده سلول سوختی} = \frac{\text{ولتاژ روی ولت سنج ( عملی )}}{\text{سلول } E^\circ \text{ ( تئوری )}} \times 100 = \frac{0/7}{1/23} \times 100 = 56/91 \text{ درصد}$$

☆ به طور فاصله، در مورد مزایا و معایب سلول سوختی هیدروژن - اکسیژن، جدول زیر را خوب فووب بهیویدر.

مورد	مزیت یا عیب	علت
اثرات زیست محیطی	مزیت	گازهای گلخانه‌ای مثل $CO_2$ تولید نمی‌کند
بازدهی سلول	مزیت	سلول سوختی بازدهی نسبتاً بالایی دارد
کارایی و طول عمر کاتالیزگر	مزیت	واکنش پذیری پلاتین بسیار کم است
هزینه‌ی تولید	عیب	کاتالیزگر پلاتین و گاز هیدروژن بسیار گران است
نگهداری و ایمنی سوخت	عیب	گاز هیدروژن به شدت قابل انفجار و فطرناک است.
تولید و در دسترس بودن سوخت	عیب	بزرگ‌ترین چالش، تهیه گاز هیدروژن است.

### ❁❁ مقایسه‌ی دو روش متفاوت برای تولید برق ❁❁

در شکل زیر، مراحل تبدیل انرژی شیمیایی موجود در یک سلول سوخت به انرژی الکتریکی در دو روش متفاوت نشان داده شده است.

#### روش اول: استفاده از نیروگاه

در شکل‌های زیر مراحل تبدیل انرژی شیمیایی به انرژی الکتریکی در یک نیروگاه دیده می‌شود.

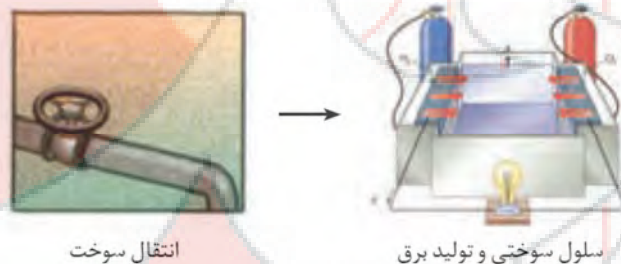


همان‌طور که می‌بینید، ابتدا با سوزاندن سوخت، انرژی شیمیایی به انرژی گرمایی تبدیل می‌شود. سپس انرژی گرمایی تولید بخار می‌کند و بخار حاصل باعث راه اندازی توربین می‌شود. و بدین ترتیب انرژی گرمایی به انرژی مکانیکی تبدیل می‌شود. در پایان با راه اندازی توربین، ژنراتورها انرژی مکانیکی را به الکتریکی تبدیل می‌کنند.

انرژی الکتریکی → انرژی مکانیکی → انرژی گرمایی → انرژی شیمیایی

#### روش دوم: استفاده از سلول‌های سوختی

در این روش انرژی شیمیایی موجود در سوخت به طور مستقیم تبدیل به انرژی الکتریکی می‌شود و مراحل تبدیل انرژی، نسبت به نیروگاه کم‌تر است.



در مقایسه‌ی این دو روش نکات زیر را فووب فوووب بفووبیر :

(۱) سلول سوختی نسبت به نیروگاه به فضای بسیار کم‌تری برای تولید برق نیاز دارد.

(۲) در سلول‌های سوختی، اتلاف انرژی به شکل گرما به مراتب کم‌تر است. زیرا :

(آ) دمای لازم برای راه اندازی سلول سوختی نسبت به راه اندازی نیروگاه فیلی کم‌تر است.

(ب) در سلول‌های سوختی، سوخت به طور مستقیم وارد سلول شده و تبدیل به انرژی الکتریکی می‌شود، در حالی که در نیروگاه‌ها، سوخت به طور مستقیم وارد توربین نمی‌شود و وجود تبدیل‌های بیش‌تر انرژی، اتلاف انرژی را بیش‌تر می‌کند.

(پ) در سلول‌های سوختی واکنش سوختن انجام شده در نیروگاه‌ها که با سرعت و شدت زیادی همراه است، به طور کاملاً کنترل شده تبدیل به دو نیم واکنش اکسایش و کاهش می‌شود و به صورت انرژی الکتریکی در دسترس قرار می‌گیرد.

(۳) مقدار انرژی الکتریکی حاصل به ازای مقدار معینی سوخت، در سلول‌های سوختی به مراتب از توربین‌ها بیش‌تر می‌باشد بنابراین می‌توان گفت که کارایی و بازده سلول‌های سوختی از توربین‌ها بیش‌تر است.



### مقایسه سلول سوختی ، باتری و موتور درون سوز

سلول سوختی باتری هر دو سلول گالوانی هستند که البته تفاوت‌های مهمی با یکدیگر دارند که در ادامه به تعدادی از آن‌ها اشاره می‌کنیم :

#### مقایسه سلول سوختی و باتری

۱- سلول‌های سوختی برخلاف باتری‌ها ، انرژی شیمیایی را ذخیره نمی‌کنند. در واقع در سلول سوختی مواد واکنش‌گر ( گازهای  $H_2$  و  $O_2$  ) باید به‌طور دائم وارد سلول شده و از طرفی فرآورده‌های حاصل ( مثلاً بخار آب در سلول سوختی هیدروژن - اکسیژن ) باغید پیوسته از سلول سوختی خارج شوند ، همچنین جریان الکتریکی حاصل بلافاصله پس از تولید مصرف می‌شود. در واقع در آن‌ها پیوسته سوخت در شرایط کنترل شده ، مصرف و جریان الکتریکی برقرار می‌شود.

۲- سلول‌های سوختی برخلاف برخی از انواع باتری‌ها ( مانند باتری‌های لیتیومی ) قابل شارژ نیستند و با تمام شدن واکنش‌دهنده‌های موجود در آن غیر فعال می‌شوند.

۳- یک تفاوت مهم بین سلول‌های سوختی و باتری‌ها این است که در سلول‌های سوختی برخلاف باتری‌ها ، واکنش‌دهنده‌ها در داخل سلول قرار نداشته و مدام از بیرون به داخل سلول تزریق می‌شوند.

۴- محصول نهایی در باتری‌ها ، جریان الکتریکی است ، در حالی‌که در سلول سوختی هیدروژن - اکسیژن علاوه بر جریان الکتریکی ، آب ( $H_2O$ ) نیز تولید می‌شود.

باتری‌ها ← تبدیل انرژی شیمیایی به انرژی الکتریکی + تولید  $H_2O$

#### مقایسه سلول سوختی با موتور درون سوز

۱- عملکرد سلول سوختی بیش‌تر شبیه موتور درون سوز است ، در موتور درون سوز به‌طور مداوم ( در حین کار کردن و فعال بودن موتور ) سوخت و اکسیژن با هم ترکیب شده و واکنش می‌دهند ، البته خروجی این واکنش ، به وجود آمدن گازهایی داغ با دما و فشار بالاست که انبساط آن‌ها باعث حرکت قطعات موتور می‌شود.

۲- سلول‌های سوختی را می‌توان با بازده بالا طراحی نمود که بازده آن نسبت ه بازده انرژی در موتورهای درون سوز بیش‌تر است. در واقع اتلاف انرژی به شکل گرما در آن ، کم‌تر از موتورهای درون سوز است ، بنابراین می‌توان از سلول‌های سوختی در خودروها استفاده کرد.

🔴 **تذکر:** سوزاندن گاز هیدروژن در موتور درون سوز بازدهی نزدیک به ۲۰ درصد دارد. در حالی‌که اکسایش آن در سلول سوختی بازده را تا سه برابر ( یعنی تا ۶۰ درصد ) افزایش می‌دهد.

📌 **نکته:** هرچند سلول سوختی فرآورده‌های مخرب و آلاینده برای محیط زیست تولید نمی‌کند ، اما برای تولید سوخت ( $H_2$ ) مورد نیاز این سلول ، فرآیندهایی انجام می‌شود که باعث آلاینده‌گی محیط‌زیست می‌شود ، البته این آلاینده‌گی به مراتب کم‌تر از آلاینده‌گی موتورهای درون سوز است.

سلول سوختی در مقایسه با موتور درون سوز ← بازده بالاتر ، اتلاف انرژی کم‌تر و آلاینده‌گی کم‌تر







**تست ۱۶۱:** در شکل زیر ، دو روش تولید الکتریسیته نشان داده شده است. کدام روش بازدهی بیشتری دارد و چرا؟

( نمودار را بیازمایید صفحه ۵۱ )



**روش ۱**

**روش ۲**

- (۱) روش (۱) - زیرا کل میزان سوخت مصرفی تبدیل به انرژی می شود.
- (۲) روش (۲) - زیرا اتلاف انرژی به شکل گرما کم تر می باشد.
- (۳) روش (۱) - زیرا بازدهی توربین ها برای تولید برق بیشتر تر می باشد.
- (۴) روش (۲) - زیرا سوخت استفاده شده در روش (۲) ارزان تر است.

**پاسخ:**



**تست ۱۶۲:** چند مورد از مطالب زیر به مزایای استفاده از سلول های سوختی برای تولید برق ، نسبت به نیروگاهها اشاره دارد؟

( نمودار را بیازمایید صفحه ۵۱ )

- (۱) ۱
- (۲) ۲
- (۳) ۳
- (۴) ۴

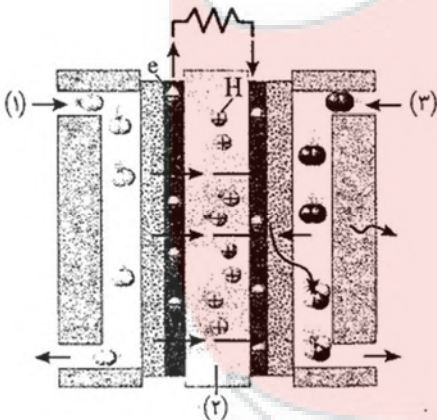
- آ- اتلاف انرژی کم تر در سلول های سوختی
- ب- تبدیل انرژی شیمیایی به انرژی الکتریکی ، به طور مستقیم
- پ- بازده و کارایی بالاتر سلول های سوختی نسبت به نیروگاهها
- ت- هزینه ها و تجهیزات مورد نیاز کم تر برای نصب و راه اندازی سلول های سوختی

**پاسخ:**



**تست ۱۶۳:** با توجه به شکل مقابل که نمایی از سلول سوختی

هیدروژن - اکسیژن را نشان می دهد ، کدام گزینه درست است؟



- (۱) و (۲) به ترتیب محل ورود گازهای اکسیژن و هیدروژن را نشان می دهد.
- (۲) (۱) ، فقط اجازه ی عبور کاتیون های  $H^+$  به سمت آند را می دهد و الکترون ها باید در مدار خارجی جریان پیدا کنند.
- (۳) از خروجی سمت آند آن ، آب تولیدی به صورت بخار آب خارج می شود.
- (۴) نوع ساخت الکترودهای آند و کاتد به گونه ای است که به ترتیب اجازه ی عبور مولکول های  $H_2$  و  $O_2$  را دهند.

**پاسخ:**



( با هم بیندیشیم صفحه ۵۲ و ۵۳ )

**تست ۱۶۴ :** واکنش کلی انجام شده در سلول سوختی هیدروژن - اکسیژن کدام است؟

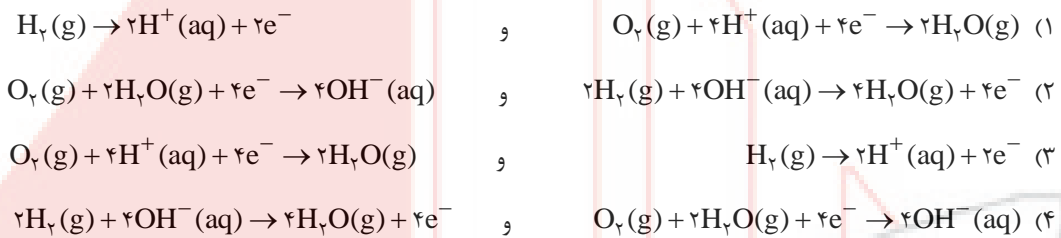


**پاسخ :**

( با هم بیندیشیم صفحه ۵۲ و ۵۳ )



**تست ۱۶۵ :** نیم‌واکنش‌های انجام شده در آند و کاتد سلول سوختی هیدروژن - اکسیژن به ترتیب کدام است؟ ( از راست به چپ )



**پاسخ :**

جرم هیدروژن



**تست ۱۶۶ :** اگر در سلول سوختی هیدروژن - اکسیژن ، ۳۲ / ۴۰ لیتر گاز در شرایط استاندارد تولید شده باشد ، جرم هیدروژن مصرف شده برحسب گرم کدام است؟ (  $\text{O} = ۱۶$  ,  $\text{H} = ۱ : \text{g.mol}^{-۱}$  )

- ۱ / ۲ (۱)      ۲ / ۴ (۲)      ۳ / ۶ (۳)      ۴ / ۸ (۴)

**پاسخ :**

به تقریب



**تست ۱۶۷ :** اگر در سلول سوختی هیدروژن - اکسیژن ، ۲۸۸ / ۳۶ لیتر گاز هیدروژن در شرایط STP مصرف شود ، به تقریب چه تعداد یون در نیم‌واکنش اکسایش و چند گرم فرآورده‌ی گازی تولید می‌شود؟ ( گزینه‌های را به ترتیب از راست به چپ بخوانید )

(  $\text{O} = ۱۶$  ,  $\text{H} = ۱ : \text{g.mol}^{-۱}$  )

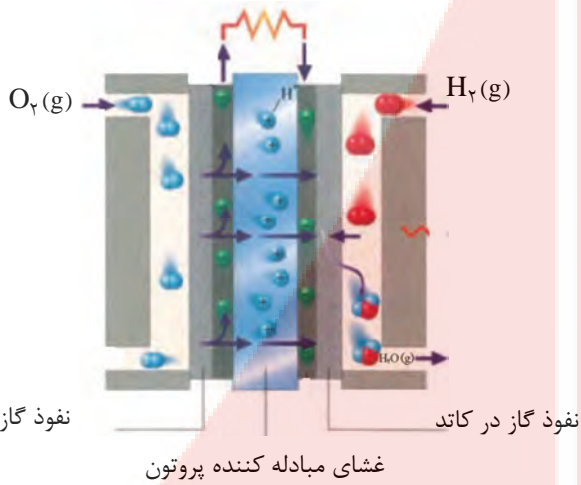
- ۱)  $۱۴ / ۵۸ - ۱ / ۹۵ \times ۱۰^{۲۳}$       ۲)  $۲۹ / ۱۶ - ۳ / ۹ \times ۱۰^{۲۴}$       ۳)  $۱۴ / ۵۸ - ۳ / ۹ \times ۱۰^{۲۳}$       ۴)  $۲۹ / ۱۶ - ۱ / ۹۵ \times ۱۰^{۲۴}$

**پاسخ :**





**تست ۱۴۸:** در شکل روبرو که مربوط به نوعی سلول سوختی هیدروژن - اکسیژن است، چند مورد درست معرفی شده است؟



(آ) جهت حرکت یون‌های هیدروژن

(ب) محل ورود گاز هیدروژن و اکسیژن

(پ) جهت حرکت الکترون‌ها

(ت) محل خروج آب تولید شده

(۱) ۱

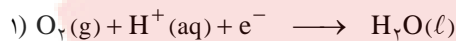
(۳) ۳

**پاسخ:**



**تست ۱۴۹:** اگر نیم واکنش‌های موازنه نشده‌ی اکسایش و کاهش نوعی سلول سوختی هیدروژن - اکسیژن به صورت زیر باشند،

چند مورد از عبارات‌های داده شده درست‌اند؟



(آ) مجموع ضرایب استوکیومتری در نیم واکنش کاهش برابر با ۱۲ است

(ب) با مصرف ۱/۱۲ لیتر گاز اکسیژن در شرایط استاندارد، حداکثر ۰/۲ مول الکترون مبادله می‌شود.

(پ)  $emf$  این سلول برابر با پتانسیل کاهشی مربوط به کاتد است.

(ت) حجم گاز مصرف شده در کاتد، نصف حجم گاز مصرف شده در آند است.

(۴) ۴

(۳) ۳

(۲) ۲


(۱) ۱

**پاسخ:**



**تست ۱۷۰:** در سلول سوختی نشان داده شده، ولت سنج به طور نظری چه عددی را نشان می‌دهد و اگر در عمل نیروی

الکتروموتوری این سلول برابر ۰/۷۷ باشد، بازده این سلول کدام است؟



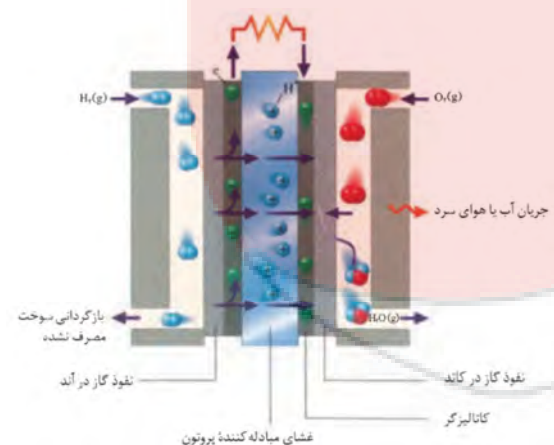
(۱) ۱/۲۳۷، ۵۶/۹٪

(۲) ۲/۴۶۷، -۲۸/۴٪

(۳) ۱/۲۳۷، -۵۶/۹٪

(۴) ۲/۴۶۷، ۲۸/۴٪

**پاسخ:**







**تست ۱۷۱:** چند مورد از موارد زیر جزء معایب سلول‌های سوختی به شمار نمی‌آیند؟

- |                           |                                |
|---------------------------|--------------------------------|
| (ب) اثرات زیست محیطی      | (آ) کارایی و طول عمر کاتالیزگر |
| (ت) نگه داری و ایمنی سوخت | (پ) تولید و در دسترس بودن سوخت |
| (ج) هزینه تولید سلول      | (ث) بازدهی سلول                |
| ۵ (۴)                     | ۳ (۲)                          |
| ۴ (۳)                     | ۲ (۱)                          |

**پاسخ:**



**تست ۱۷۲:** چند مورد از موارد زیر درست‌اند؟

- (آ) بزرگ‌ترین چالش در کاربرد سلول‌های سوختی، تولید گاز هیدروژن در مقیاس صنعتی است.
- (ب) در تهیه گاز هیدروژن از واکنش بخار آب با متان، وجود ناخالصی CO، کارایی سلول سوختی را کاهش می‌دهد.
- (پ) تولید هیدروژن به روش برقکافت، آلاینده‌گی محیط زیست را در پی ندارد.
- (ت) تولید هیدروژن از طریق واکنش بخار آب با متان، صرفه‌ی اقتصادی بیش‌تری دارد.

- |       |       |       |       |
|-------|-------|-------|-------|
| ۴ (۴) | ۳ (۳) | ۲ (۲) | ۱ (۱) |
|-------|-------|-------|-------|

**پاسخ:**



**تست ۱۷۳:** اگر در سلول سوختی به جای هیدروژن از سوخت ارزان‌تر و کم‌خطر تری مانند متان استفاده شود، برای عبور همان

شماره الکترون ناشی از مصرف یک مول هیدروژن از مدار، چند گرم متان باید مصرف شود؟ ( $C = 12, H = 1 \text{ g} \cdot \text{mol}^{-1}$ )

- |            |        |        |       |       |
|------------|--------|--------|-------|-------|
| (ریاضی ۹۴) | ۳۲ (۴) | ۱۶ (۳) | ۸ (۲) | ۴ (۱) |
|------------|--------|--------|-------|-------|

**پاسخ:**



**تست ۱۷۴:** در یک سلول سوختی ۲ گرم هیدروژن به نیم سلول آندی و ۴۰ گرم اکسیژن به نیم سلول کاتدی وارد می‌شود. اگر

۳۰ درصد از هیدروژن ورودی از نیم سلول آندی خارج شود، چند درصد از گاز اکسیژن ورودی، می‌تواند بدون انجام واکنش، از نیم

سلول کاتدی خارج شود؟

- |        |        |        |        |
|--------|--------|--------|--------|
| ۷۶ (۴) | ۷۲ (۳) | ۶۸ (۲) | ۶۴ (۱) |
|--------|--------|--------|--------|

**پاسخ:**



## ویژه عتناق تنبیهی (برقکافت محلولها اسید و باز)

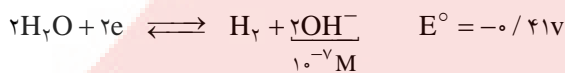
### بررسی الکترولیز نمکهای محلول در آب

**نکته خیلی مهم:** در رقابت کاتدی برای گرفتن الکترون، گونه‌ای برنده می‌شود که  $E^\circ$  آن بزرگتر باشد.

سایر کاتیون‌ها  $H_2O < Zn^{2+} < V^{2+} < Mn^{2+} < Al^{3+}$  کاتیون‌های فلزهای قلیایی و قلیایی خاکی: **رقابت کاتدی**

**تذکر:** در رقابت کاتدی آب بر کاتیون‌های گروه IA, IIA,  $Al^{3+}$ ,  $Mn^{2+}$ ,  $Zn^{2+}$ ,  $V^{2+}$  غلبه کند و در سایر موارد بازنده می‌باشند.

در یک محلول خنثی در دمای  $25^\circ C$ ، غلظت یون‌های  $H^+$  و  $OH^-$  برابر  $10^{-7}$  مول بر لیتر است. محاسبات الکتروشیمیایی نشان می‌دهند که اگر غلظت  $OH^-$  برابر  $10^{-7}$  مول بر لیتر باشد، خواهیم داشت:



مرز پیروزی کاتیون‌ها بر  $H_2O$  و رقابت کاتدی

**نکته خیلی مهم:** در رقابت آندی برای دادن الکترون، گونه‌ای برنده می‌شود که  $E^\circ$  آن کوچک تر باشد.

**رقابت آندی:**  $OH^- > I^- > Br^- > Cl^- > H_2O > Cl^- > SO_4^{2-} > NO_3^- > F^-$

رقیق غلیظ

**تذکر:** آب برای دادن الکترون در رقابت آندی فقط نسبت به  $Cl^-$  رقیق،  $SO_4^{2-}$ ,  $NO_3^-$ ,  $F^-$  پیروز است و در سایر موارد بازنده است.



واکنش کاهش آب در رقابت کاتدی:

اگر آب کاهش یابد:

(۲) pH زیاد می‌شود.

(۱) غلظت  $OH^-$  زیاد می‌شود.

(۴) گاز  $H_2$  تولید می‌شود.

(۳) فنل فتالین ارغوانی می‌شود.



واکنش اکسایش آب در رقابت آندی

(اگر آب اکسایش یابد، تو دانش آموز TOP مثل آب فوردن بگوو پی میشه؟)

(۱)

(۲)

(۳)

(۴)

**نکته:** به طور کلی برای تهیه فلزهای قلیایی و قلیایی خاکی و آلومینیوم نمی‌توان از برقکافت محلول آبی این نمک‌ها استفاده کرد (چرا؟) و باید از برقکافت نمک مذاب آن‌ها استفاده کرد.

**تمرین:** واکنش‌های مربوط به برقکافت محلول‌های رقیق و غلیظ سدیم کلرید را بنویسید.

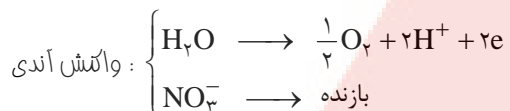
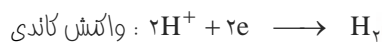
**تمرین:** الکترولیز محلول مس (II) سولفات را کامل بنویسید.



## بررسی تغییرات pH ضمن برتکافت محلول اسیدها و بازهای قوی

### (۱) بررسی الکترولیز محلول اسیدهای قوی نظیر $\text{HNO}_3$ و $\text{H}_2\text{SO}_4$

آنیون این اسیدها  $\text{NO}_3^-$  و  $\text{SO}_4^{2-}$  در رقابت آندی بازنده هستند.



به همان میزان که در کاتد  $\text{H}^+$  مصرف می‌شود در آند  $\text{H}^+$  تولید می‌شود، پس تعداد  $\text{H}^+$  تغییری نمی‌کنند. ولی چون  $\text{H}_2\text{O}$  مرتباً در حال مصرف شدن هستند بنابراین پس از مدتی با مصرف آب محلول  $\text{HNO}_3$  غلیظ تر شده و به این ترتیب محیط اسیدی تر می‌شود و pH محلول نیز کاهش می‌یابد.

🌟 **تذکره:** هنگامی که می‌فواهیم میزان تولید یا مصرف یک ماده را در واکنش آندی یا کاتدی با یکدیگر مقایسه کنیم، ابتدا باید ضرب  $\text{e}^-$  را، دو نیم واکنش یکسان کنیم.

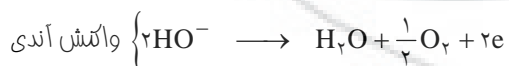
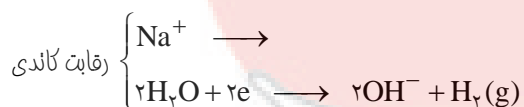
**مثال:** میزان مصرف  $\text{H}^+$  در کاتد با میزان تولید  $\text{H}^+$  در آند یکسان است، اگر چه واکنش آندی به صورت  $2\text{H}_2\text{O} \longrightarrow 2\text{H}^+ + 2\text{e} + \text{O}_2$  نوشته می‌شود. چرا؟

📌 **نکته:** به طور کلی هنگام الکترولیز محلول اسیدهای قوی مانند  $\text{HNO}_3$  و  $\text{H}_2\text{SO}_4$  (که آنیون آن‌ها در رقابت آندی

بازنده هستند) به دلیل مصرف  $\text{H}_2\text{O}$ ، محلول اسید غلیظ و غلیظ تر شده و محلول اسیدی تر می‌شود، لذا pH کم می‌شود.

### (۲) بررسی الکترولیز محلول بازهای قوی نظیر $\text{NaOH}$ و $\text{KOH}$

هنگامی که محلول یک باز قوی نظیر  $\text{NaOH}$  یا  $\text{KOH}$  را برتکافت می‌نماییم، واکنش‌های انجام شده به صورت زیر هستند:





به همان میزانی که یون  $\text{OH}^-$  در کاتد تولید می‌شود به همان میزان در آند مصرف می‌شوند. بنابراین تعداد یون‌های  $\text{OH}^-$  تغییری نمی‌کند.

ولی به ازای مصرف ۲ مول آب در کاتد فقط یک مول آب در آند تولید می‌شود پس مرتباً آب در حال مصرف شدن و کم شدن است و مرتباً محلول سود (NaOH) غلیظ و غلیظ تر شده و محلول بازی تر و pH بزرگ تر می‌شود.

**نکته:** به هنگام الکترولیز محلول بازی‌های قوی نظیر NaOH یا KOH به دلیل مصرف  $\text{H}_2\text{O}$  محلول این بازها غلیظتر شده و محلول بازی تر می‌شود و pH هم زیاد می‌شود.

**تست ۱۷۵:** pH محلولی از سدیم هیدروکسید در ضمن عمل برقکافت .....

- (۱) افزایش می‌یابد. (۲) به ۷ می‌رسد. (۳) تغییر نمی‌کند. (۴) کاهش می‌یابد.

**پاسخ:**

**تست ۱۷۶:** در برقکافت محلول کدام نمک زیر، آنیون آن در واکنش آندی و  $\text{H}^+$  حاصل از آب در واکنش کاتی شرکت می‌کند؟

- (۱) جیوه (II) یدید (۲) سدیم فلوئورید (۳) مس (II) نیترات (۴) منیزیم برمید

**پاسخ:**

**تست ۱۷۷:** ضمن عبور جریان برق از محلول پتاسیم سولفات کدام تغییر رخ می‌دهد؟

- (۱) کاهش  $\text{K}^+$  در کاتد (۲) اکسایش  $\text{SO}_4^{2-}$  در آند (۳) افزایش pH (۴) افزایش غلظت  $\text{K}_2\text{SO}_4$

**پاسخ:**

**تست ۱۷۸:** ضمن الکترولیز محلول مس (II) سولفات، pH محیط عمل بعد از الکترولیز چگونه تغییر می‌کند؟

- (۱) افزایش می‌یابد. (۲) تغییری نمی‌کند. (۳)  $\text{pH} = 7$  می‌شود. (۴) کاهش می‌یابد.

**پاسخ:**

**تست ۱۷۹:** در فرآیند برقکافت آب نمک غلیظ، نسبت جرمی گاز آزاد شده در آند به جرم گاز آزاد شده در کاتد، ..... است و

(تجربی ۹۳)

حجم آن‌ها در شرایط یکسان ..... است.

( $\text{H} = 1, \text{O} = 16, \text{Na} = 23, \text{Cl} = 35.5 \text{ g} \cdot \text{mol}^{-1}$ )

- (۱) ۷۱ - برابر (۲) ۷۱ - نابرابر (۳) ۳۵/۵ - برابر (۴) ۳۵/۵ - نابرابر

**پاسخ:**



**تست ۱۸۰:** اگر در برقکافت چهار لیتر محلول غلیظ نمک خوراکی،  $1/12$  لیتر گاز در شرایط STP در آند تولید شود، غلظت سدیم هیدروکسید تولید شده به تقریب چند مول بر لیتر است؟ (تجربی ۹۴)

- (۱)  $0/025$  (۲)  $0/05$  (۳)  $0/075$  (۴)  $0/1$

پاسخ:



**تست ۱۸۱:** عبور جریان برق از محلول مس (II) سولفات باعث ته‌نشین شدن  $12/8$  گرم فلز مس در کاتد می‌شود. مقدار اکسیژن حاصل در آند چند گرم است؟ (O = ۱۶ و Cu = ۶۴)

- (۱)  $6/4$  (۲)  $1/6$  (۳)  $3/2$  (۴)  $4/8$

پاسخ:



**تست ۱۸۲:** ضمن برقکافت محلول  $AgNO_3$  کدام مورد زیر روی می‌دهد؟ ( $Ag = 108 \text{ g} \cdot \text{mol}^{-1}$ )

- (۱) در کاتد و آند آب برقکافت می‌شود و pH تغییر می‌کند.
- (۲) در کاتد فلز نقره کاهش یافته و یون نیترات در آند اکسید می‌شود.
- (۳) به علت یونیده شدن  $HNO_3$ ، pH محیط عمل کاهش می‌یابد.
- (۴) با ته‌نشین شدن  $0/216 \text{ g}$  نقره در کاتد،  $11/2$  میلی لیتر گاز اکسیژن آزاد می‌شود.

پاسخ:



**تست ۱۸۳:** اگر با عبور مقدار مشخصی الکترون از محلول نقره نیترات،  $16/2$  گرم نقره به دست آید، بر اثر عبور همان مقدار الکترون از محلول کوپریک سولفات، چند گرم مس به دست می‌آید؟ ( $Ag = 108, Cu = 64 \text{ g} \cdot \text{mol}^{-1}$ )

- (۱)  $4/8$  (۲)  $9/6$  (۳)  $14/6$  (۴)  $16$

پاسخ:



**تست ۱۸۴:** اگر در برقکافت ۴ لیتر محلول غلیظ نمک خوراکی،  $2/24$  لیتر گاز در شرایط STP در آند تولید شود، غلظت سدیم هیدروکسید تولید شده به تقریب چند مول بر لیتر است؟ (شبه سازی تجربی خارج کشور ۹۴)

- (۱)  $0/2$  (۲)  $0/05$  (۳)  $0/3$  (۴)  $0/1$

پاسخ:

**تست ۱۸۵:** اگر بر اثر برقکافت ۴۰۰ میلی لیتر محلول مس (II) سولفات، ۲/۵۶ گرم فلز مس به دست آید، pH محلول حاصل کدام است؟ ( $\text{Cu} = 64 \text{ g} \cdot \text{mol}^{-1}$ )

- (۱) ۰/۲ (۲) ۰/۳ (۳) ۰/۵ (۴) ۰/۷

پاسخ:

**تست ۱۸۶:** اگر بر اثر برقکافت محلول روی نیترات، ۲/۶ گرم فلز روی در کاتد به دست آید، گاز حاصل از این برقکافت، با چند گرم منیزیم به طور کامل واکنش می‌دهد؟ ( $\text{Zn} = 65, \text{Mg} = 24 \text{ g} \cdot \text{mol}^{-1}$ )

- (۱) ۰/۱۲ (۲) ۰/۲۴ (۳) ۰/۴۸ (۴) ۰/۹۶

پاسخ:

**تست ۱۸۷:** اگر بر اثر برقکافت حجم معینی محلول سدیم کلرید غلیظ، ۲۰۱۶ میلی لیتر گاز کلر تولید شود، با اضافه کردن ۵۰۰ میلی لیتر محلول فریک نیترات  $0.1 \text{ mol} \cdot \text{L}^{-1}$  به محلول حاصل، چند گرم رسوب به دست می‌آید؟

( $\text{Fe} = 65, \text{Cl} = 35.5, \text{Na} = 23, \text{O} = 16, \text{H} = 1 \text{ g} \cdot \text{mol}^{-1}$ )

- (۱) ۳/۲۱ (۲) ۴/۲۸ (۳) ۶/۴۲ (۴) ۸/۵۶

پاسخ:

**تست ۱۸۸:** اگر بر اثر برقکافت ۱۰۰ میلی لیتر محلول پتاسیم یدید، ۱۰/۱۶ گرم ید به دست آید، محلول حاصل با چند میلی لیتر محلول  $0.25 \text{ mol} \cdot \text{L}^{-1}$  نیتریک اسید به طور کامل خنثی می‌شود؟ ( $\text{I} = 127 \text{ g} \cdot \text{mol}^{-1}$ )

- (۱) ۳۲۰ (۲) ۱۶۰ (۳) ۱۲۸۰ (۴) ۶۴۰

پاسخ:

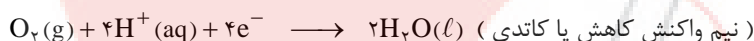


### سلول سوختی متان - اکسیژن

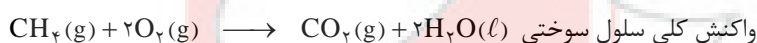
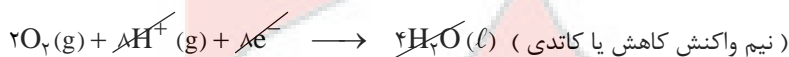
- ۱) در رایج ترین سلول سوختی ، گاز هیدروژن با اکسیژن واکنش می‌دهد. اما در برخی سلول‌های سوختی ، گاز متان به جای هیدروژن با گاز اکسیژن واکنش می‌دهد. گاز متان نسبت به هیدروژن ، ارزان تر است و ایمنی بالاتری دارد.
- ۲) در این سلول ، واکنش شدید سوختن متان در اکسیژن که به تولید کربن دی اکسید و بخار آب می‌انجامد ، به طور کاملا کنترل شده انجام می‌شود و انرژی گرمایی زیاد حاصل از واکنش این دو گاز ، به صورت انرژی الکتریکی در دسترس قرار می‌گیرد.
- ۳) در آند ، گاز متان و آب مایع در نیم‌واکنش اکسایش شرکت کرده و تولید الکترون و پروتون ( $H^+$ ) می‌کنند. کربن دی اکسید نیز محصول فرعی این نیم‌واکنش است .



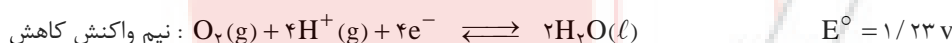
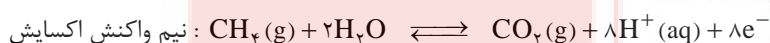
- ۴) پروتون‌ها ( $H^+$ ) از طریق غشای مبادله کننده‌ی پروتون و الکترون‌ها از مسیر مدار الکتریکی از آند به سمت کاتد حرکت می‌کنند.
- ۵) مانند سایر سلول‌های گالوانی، جهت حرکت الکترون‌ها از آند به سمت کاتد از طریق رسانای الکترونی یا مدار بیرونی انجام می‌پذیرد.
- ۶) مانند سایر سلول‌های گالوانی ، کاتیون‌ها ( $H^+$ ) از طریق رسانای یونی ( غشا ) یا مدار درونی به سمت کاتد می‌روند.
- ۷) در سمت کات ، گاز اکسیژن با الکترون‌هایی که از سمت آند آمده و یون‌های  $H^+$  که از طریق الکترولیت آمده ، واکنش داده و بخار آب تولید می‌شود. بخار آب تولید شده نیز به کمک جریان آب سرد یا جریان هوای سرد مایع می‌شود .



- این همان نیم واکنشی است که در کاتد سلول سوختی هیدروژن - اکسیژن نیز روی می‌دهد. بنابراین نیم واکنش کاهش سلول‌های سوختی متان - اکسیژن و هیدروژن - اکسیژن یکسان است.
- ۸) با جمع کردن نیم‌واکنش‌های آندی و کاتدی، واکنش کلی سلول به صورت زیر به دست می‌آید. بنابراین واکنش کلی سلول ، سوختن کامل گاز متان است.



۹)  $emf$  یا  $E^\circ$  سلول سوختی متان - اکسیژن برابر  $1/067$  است. بنابراین می‌توان  $E^\circ$  نیم‌واکنش اکسایش متان را به دست آورد.



$$emf = E^\circ (\text{کاتد}) - E^\circ (\text{آند}) \Rightarrow 1/067 = 1/237 - E^\circ (\text{آند}) \Rightarrow E^\circ (\text{آند}) = 1/77$$



## ☆ واکنش‌های مهم اکسایش - کاهش ☆

حال که با واکنش‌های اکسایش - کاهش و روش شناسایی آن‌ها آشنا شدیم، در این‌جا واکنش‌های اکسایش - کاهش مهمی را که در کتاب‌های شیمی دهم و یازدهم مطرح شده است، یک‌جا تقدیمتان می‌کنیم.

### واکنش‌های اکسایش - کاهش شیمی دهم

در جدول زیر واکنش‌های مهم اکسایش - کاهش مهمی را که در کتاب شیمی دهم آمده است، مشاهده می‌کنید؛ در هر مورد گونه‌ی اکسند و کاهنده را نیز معرفی کرده‌ایم.

نام واکنش	معادله‌ی واکنش	گونه‌ی کاهش‌یافته (اکسند)	گونه‌ی اکسایش‌یافته (کاهنده)
سوختن کامل متان	$\text{CH}_4(\text{g}) + 2\text{O}_2(\text{g}) \rightarrow \text{CO}_2(\text{g}) + 2\text{H}_2\text{O}(\text{g})$	C	O
سوختن ناقص متان	$2\text{CH}_4(\text{g}) + 3\text{O}_2(\text{g}) \rightarrow 2\text{CO}(\text{g}) + 4\text{H}_2\text{O}(\text{g})$	C	O
سوختن اتانول	$\text{C}_2\text{H}_5\text{OH}(\text{l}) + 3\text{O}_2(\text{g}) \rightarrow 2\text{CO}_2(\text{g}) + 3\text{H}_2\text{O}(\text{g})$	C	O
سوختن کربن (الماس یا گرافیت)	$\text{C}(\text{s}) + \text{O}_2(\text{g}) \rightarrow \text{CO}_2(\text{g})$	C	O
سوختن سدیم	$4\text{Na}(\text{s}) + \text{O}_2(\text{g}) \rightarrow 2\text{Na}_2\text{O}(\text{s})$	Na	O
تجزیه‌ی $\text{C}_3\text{H}_5\text{N}_3\text{O}_9$	$4\text{C}_3\text{H}_5\text{N}_3\text{O}_9(\text{l}) \rightarrow 12\text{CO}_2(\text{g}) + 10\text{H}_2\text{O}(\text{l}) + \text{O}_2(\text{g}) + 6\text{N}_2(\text{g})$	O و C	N
اکسایش گلوکز در بدن	$\text{C}_6\text{H}_{12}\text{O}_6(\text{aq}) + 6\text{O}_2(\text{g}) \rightarrow 6\text{CO}_2(\text{g}) + 6\text{H}_2\text{O}(\text{l}) + \text{O}_2(\text{g}) + 6\text{N}_2(\text{g})$	C	O
تشکیل نیتروژن مونوکسید	$\text{N}_2(\text{g}) + \text{O}_2(\text{g}) \rightarrow 2\text{NO}(\text{g})$	N	O
تشکیل نیتروژن دی‌اکسید	$2\text{NO}(\text{g}) + \text{O}_2(\text{g}) \rightarrow 2\text{NO}_2(\text{g})$	N	O
تشکیل اوزون تروپوسفری	$\text{NO}_2(\text{g}) + \text{O}_2(\text{g}) \xrightarrow{\text{نور خورشید}} \text{NO}(\text{g}) + \text{O}_3(\text{g})$	O	N و O
اکسایش آهن	$4\text{Fe}(\text{s}) + 3\text{O}_2(\text{g}) \rightarrow 2\text{Fe}_2\text{O}_3(\text{s})$	Fe	O
اکسایش چربی موجود در کوهان شتر	$2\text{C}_{57}\text{H}_{110}\text{O}_6(\text{s}) + 163\text{O}_2(\text{g}) \rightarrow 114\text{CO}_2(\text{g}) + 110\text{H}_2\text{O}(\text{l})$	C	O
تولید آمونیاک (فرآیند هابر)	$\text{N}_2(\text{g}) + 3\text{H}_2(\text{g}) \rightarrow 2\text{NH}_3(\text{g})$	H	N
تبدیل CO به $\text{CO}_2$	$2\text{CO}(\text{g}) + \text{O}_2(\text{g}) \rightarrow 2\text{CO}_2(\text{g})$	C	O
سوختن $\text{H}_2$ در حضور کاتالیزگر پلاتین	$2\text{H}_2(\text{g}) + \text{O}_2(\text{g}) \xrightarrow{\text{Pt}(\text{s})} 2\text{H}_2\text{O}(\text{l})$	H	O
تبدیل $\text{SO}_2$ به $\text{SO}_3$	$2\text{SO}_2(\text{g}) + \text{O}_2(\text{g}) \rightarrow 2\text{SO}_3(\text{g})$	S	O
واکنش آهن با هیدروکلریک اسید	$\text{Fe}(\text{s}) + 2\text{HCl}(\text{aq}) \rightarrow \text{FeCl}_2(\text{aq}) + \text{H}_2(\text{g})$	Fe	H
برق‌کافت منیزیم کلرید	$\text{MgCl}_2(\text{l}) \rightarrow \text{Mg}(\text{l}) + \text{Cl}_2(\text{g})$	Cl	Mg



## واکنش‌های اکسایش - کاهش شیمی یازدهم

نام واکنش	معادله‌ی واکنش	گونه‌ی کاهش یافته (اکسنده)	گونه‌ی اکسایش یافته (کاهنده)
اکسایش سدیم توسط آهن	$\text{FeO(s)} + 2\text{Na(s)} \xrightarrow{\Delta} \text{Na}_2\text{O(s)} + \text{Fe(s)}$	Fe	Na
اکسایش مس توسط آهن	$\text{FeO(s)} + \text{Cu(s)} \xrightarrow{\Delta} \text{CuO(s)} + \text{Fe(s)}$	Fe	Cu
اکسایش کربن توسط آهن	$2\text{FeO(s)} + \text{C(s)} \xrightarrow{\Delta} \text{CO}_2\text{(g)} + 2\text{Fe(s)}$	Fe	C
واکنش تولید آهن	$2\text{Fe}_2\text{O}_3\text{(s)} + 3\text{C(s)} \xrightarrow{\Delta} 4\text{Fe(s)} + 3\text{CO}_2\text{(g)}$	Fe	C
واکنش بی‌هوازی تخمیر گلوکز	$\text{C}_6\text{H}_{12}\text{O}_6\text{(aq)} \rightarrow \text{C}_2\text{H}_5\text{OH(aq)} + 2\text{CO}_2\text{(g)}$	C	C
واکنش ترمیت	$2\text{Al(s)} + \text{Fe}_2\text{O}_3\text{(s)} \rightarrow \text{Al}_2\text{O}_3\text{(s)} + 2\text{Fe(l)}$	Fe	Al
کاهش آهن توسط CO	$\text{Fe}_2\text{O}_3\text{(s)} + 3\text{CO(g)} \rightarrow 2\text{Fe(s)} + 3\text{CO}_2\text{(g)}$	Fe	C
تولید اتانول در مقیاس صنعتی	$\text{C}_2\text{H}_4\text{(g)} + \text{H}_2\text{O(l)} \xrightarrow{\text{H}_2\text{SO}_4} \text{CH}_3\text{CH}_2\text{OH(l)}$	C	C
بی‌رنگ شدن محلول برم قرمز	$\text{C}_7\text{H}_7\text{(g)} + \text{Br}_2\text{(l)} \rightarrow \text{CH}_2\text{Br} - \text{CH}_2\text{Br(l)}$	Br	C
اکسایش Al توسط Cu	$2\text{Al(s)} + 3\text{CuSO}_4\text{(aq)} \rightarrow 3\text{Cu(s)} + \text{Al}_2\text{(SO}_4)_3\text{(aq)}$	Cu	Al
تولید Si (عنصر اصلی سازنده‌ی سلول‌های خورشید)	$\text{SiO}_2\text{(s)} + 2\text{C(s)} \xrightarrow{3000^\circ\text{C}} \text{Si(l)} + 2\text{CO(g)}$	Si	C
واکنش تولید تیتانیوم	$\text{TiCl}_4 + 2\text{Mg} \rightarrow \text{Ti} + 2\text{MgCl}_2$	Ti	Mg
کاهش Fe توسط Ti	$2\text{Fe}_2\text{O}_3 + 3\text{Ti} \rightarrow 4\text{Fe} + 3\text{TiO}_2$	Fe	Ti
تهیه‌ی مس خام از سنگ معدن آن	$\text{Cu}_2\text{S(s)} + \text{O}_2\text{(g)} \rightarrow 2\text{Cu(s)} + \text{SO}_2\text{(g)}$	Cu و O	S
واکنش هیدروژن‌دار کردن هگزن	$\text{C}_6\text{H}_{10}\text{(l)} + \text{H}_2\text{(g)} \xrightarrow{\text{Ni(s)}} \text{C}_6\text{H}_{12}\text{(l)}$	C	H
واکنش هیدروژن‌دار کردن هیدرازین	$\text{N}_2\text{H}_4\text{(g)} + \text{H}_2\text{(g)} \rightarrow 2\text{NH}_3\text{(g)}$	N	H
سوختن هیدروژن	$2\text{H}_2\text{(g)} + \text{O}_2\text{(g)} \rightarrow 2\text{H}_2\text{O(g)}$	O	H
تولید گاز متان	$\text{C(s, گرافیت)} + 2\text{H}_2\text{(g)} \rightarrow \text{CH}_4\text{(g)}$	C	H
تبدیل CO و NO به گازهای کم‌خطرتر N <sub>2</sub> و CO <sub>2</sub>	$2\text{CO(g)} + 2\text{NO(g)} \rightarrow 2\text{CO}_2\text{(g)} + \text{N}_2\text{(g)}$	N	C

## آزمون سوم

۱- کدام عبارت نادرست است؟

- (۱)  $emf$  بیشترین ولتاژی است که یک سلول الکتروشیمیایی می تواند به وجود بیاورد.
- (۲) اندازه گیری پتانسیل یک الکتروود به طور جداگانه ممکن نیست و نسبت دادن یک مقدار مطلق به آن نتیجه‌ای در بر ندارد.
- (۳) پتانسیل‌های الکتروودی استاندارد تنها برای واکنش‌های انجام شده در محلول آبی به کار می‌روند.
- (۴) معمولاً همه‌ی اندازه گیری‌های پتانسیل الکتروودی استاندارد در دمای صفر درجه‌ی سانتی گراد انجام می‌شوند.

(سنجش ۹۱)

۲- کدام مطلب نادرست است؟

- (۱) مقدار  $K_a$  یون متیل آمونیوم از مقدار  $K_a$  یون آمونیوم کوچک‌تر است.
- (۲) در دمای اتاق، پروپانوئیک اسید به مقدار زیاد در اتانول حل می‌شود.
- (۳) فرمول مولکولی  $C_7H_5O_2$  را می‌توان به یک کربوکسیلیک اسید آروماتیک نسبت داد.
- (۴) در مولکول گلی سین، عدد اکسایش اتم کربن متصل به گروه آمین، برابر  $-۲$  است.

(سنجش ۹۳)

۳- کدام مطلب درست است؟

- (۱) در واکنش اکسایش آب در سلول الکترولیتی، گاز هیدروژن تولید می‌شود.
- (۲) در سلول‌های سوختی، می‌توان به جای اکسیژن از سوخت‌های ارزان مانند متان استفاده کرد.
- (۳) در فرآیند استخراج آلومینیوم، از کریولیت به صورت مذاب، به عنوان حلال آلومینا استفاده می‌شود.
- (۴) اگر محلول غلیظ  $KI$  در دستگاه برقکافت به کار رود، در کاتد  $I_2(s)$  تشکیل می‌شود.

(شبه سازی ریاضی ۹۲)

۴- کدام مطلب درست است؟

- (۱) در آب کاری، شیء مورد آبکاری را باید در آند دستگاه برقکافت جای داد.
- (۲) بر اثر برقکافت محلول نیتریک اسید  $pH$  محلول زیاد می‌شود.
- (۳) آلومینیم، فراوان‌ترین فلز و سومین عنصر فراوان در پوسته‌ی زمین است.
- (۴) از سلول دانه، برای تهیه‌ی سدیم از محلول غلیظ کلرید آن، استفاده می‌شود.

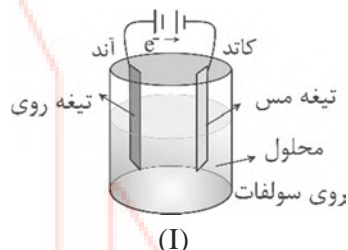
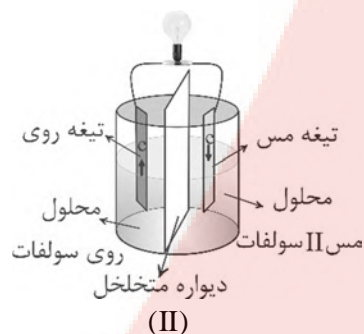
(شبه سازی ریاضی خارج کشور ۹۳)

۵- کدام گزینه درست است؟ ( $Al = 27 g \cdot mol^{-1}$ )

- (۱) در واکنش:  $O_3(g) + H_2O(l) \rightarrow O_2(g) + H_2O(l) + xe^-$  ، مقدار  $x$  برابر ۳ است.
- (۲) در سلول‌های الکترولیتی، قطب مثبت آند است و با پیشرفت واکنش، بر جرم آن افزوده می‌شود.
- (۳) در فرآیند هال، به ازای تشکیل ۱۳۵ گرم فلز آلومینیم در کاتد،  $3/75$  مول گاز  $CO_2$  در آند تشکیل می‌شود.
- (۴) در واکنش تبدیل اتانول به اتانوئیک اسید مربوط به عدد اکسایش اتم کربن متصل به  $OH$ ، ۳ واحد افزایش می‌یابد.

۶- کدام گزینه با توجه به سلول‌های الکتروشیمیایی زیر، درست نیست؟

(تجربی خارج کشور ۹۲)



(۱) واکنش دو سلول متفاوت بوده، در سلول II به صورت:  $Zn(s) + Cu^{2+}(aq) \rightarrow Zn^{2+}(aq) + Cu(s)$  است.

(۲) واکنش الکتروشیمیایی در سلول I غیر خود به خودی و در سلول II، خود به خودی است.

(۳) سلول II، به تهی‌ی مس خالص از نمونه‌ی مس ناخالص مربوط است.

(۴) در سلول II، تیغه‌ی روی آند و در سلول I تیغه‌ی مس، قطب منفی است.

(ریاضی خارج کشور ۹۲)

۷- کدام عبارت درست نیست؟

(۱) واکنش برقکافت آب، با واکنش پیل سوختی اکسیژن - هیدروژن، رابطه‌ی وارونه دارد.

(۲) در خوردگی آهن، الکترون‌ها در مدار درونی که رسانایی الکتریکی دارد، جریان می‌یابند.

(۳) در نیم‌واکنش کاهش اکسیژن به یون پراکسید، دو الکترون مصرف می‌شود.

(۴) برای محافظت از لوله‌های انتقال نفت، از میله‌های فلز مس می‌توان استفاده کرد.

(ریاضی خارج کشور ۹۲)

۸- کدام مطلب درست نیست؟

(۱) در واکنش‌های اکسایش - کاهش، عامل اکسنده، کاهش و عامل کاهنده، اکسایش می‌یابد.

(۲) در فرآیند خوردگی آهن، نیم‌واکنش:  $O_2(g) + H_2O(l) + 4e^- \rightarrow 4OH^-(aq)$ ، انجام می‌گیرد.

(۳) سلول‌های سوختی، سلول‌های گالوانی نوع دوم‌اند و در آن‌ها واکنش‌های اکسایش - کاهش خود به خودی انجام می‌گیرد.

(۴) در واکنش اکسایش - کاهش  $2H_2O_2(aq) \rightarrow 2H_2O(l) + O_2(g)$ ، اکسیژن هم نقش اکسنده و هم نقش کاهنده را دارد.

(تجربی خارج کشور ۹۱)

۹- کدام بیان نادرست است؟

(۱) با توجه به جدول پتانسیل کاهش استاندارد،  $Zn(s)$  کاهنده‌تر از  $Cu(s)$  و  $Cu^{2+}(aq)$  اکسنده‌تر از  $Zn^{2+}(aq)$  است.

(۲) در برقکافت محلول غلیظ سدیم کلرید، در کاتد گاز هیدروژن و محلول سدیم هیدروکسید و در آند، گاز اکسیژن آزاد می‌شود.

(۳) هرگاه یک قطعه فلز مس با یک قطعه فلز روی در هوای مرطوب با یکدیگر تماس داشته باشند، یک سلول گالوانی به وجود می‌آید که مس قطب مثبت آن است.

(۴) محلول نمک‌های آلومینیم را می‌توان در ظرف مسی نگه داشت، زیرا واکنش:  $Cu(s) + Al^{3+}(aq) \rightarrow$  خود به خودی نیست.



(تجربی خارج کشور ۹۱)

۱۰- کدام مطلب نادرست است؟

- (۱) با وارد کردن فلز نیکل درون محلول یون‌های مس (II) ، محلول به رنگ سبز در می‌آید.
- (۲) در یک پل نمکی که شامل KCl است ، یون‌های کلرید ، به سویی که در آن واکنش اکسایش انجام می‌شود ، می‌شود.
- (۳) واکنش انجام شده در کاتد یک سلول سوختی که با هیدروژن کار می‌کند، بصورت  $O_2(g) + 2H_2O(l) + 4e^- \rightarrow 4OH^-(aq)$  است.
- (۴) یک پل نمکی ساده ، شامل یک قطعه کاغذ صافی آغشته به محلول سیر شده‌ی KCl است که در نقش رسانای الکترونی عمل می‌کند.

۱۱- با توجه به این که در جدول پتانسیل کاهش استاندارد ، منگنز بالاتر از آهن و مس پایین‌تر از هیدروژن جای دارد ، می‌توان دریافت که :

(ریاضی ۹۱)

- (۱) محلول نمک‌های مس را می‌توان در ظرف آهنی نگهداری کرد.
- (۲) Fe(s) ، کاهنده‌تر از Mn(s) است.
- (۳)  $Cu^{2+}(aq)$  ، اکسنده‌تر از  $Mn^{2+}(aq)$  است.
- (۴)  $E^\circ$  سلول ولتایی « منگنز - مس » از  $E^\circ$  سلول ولتایی « منگنز - آهن » کوچک‌تر است.

(تجربی خارج کشور ۹۱)

۱۲- کدام عبارت، درست است؟

- (۱) آلومینیم را از برقکافت کریولیت مذاب ، تهیه می‌کنند.
- (۲) فرمول کریولیت ،  $Al_2O_3 \cdot xH_2O$  و فرمول بوکسیت ،  $Na_3AlF_6$  است.
- (۳) از کریولیت مذاب ، به عنوان حلال آلومینا در فرآیند هال استفاده می‌شود.
- (۴) در سلول الکترولیتی ویژه فرآیند هال ، کاتد از جنس گرافیت و آند از جنس پلاتین است.

(ریاضی خارج کشور ۹۰)

۱۳- کدام مطلب درباره‌ی سلول سوختی اکسیژن - هیدروژن ، نادرست است؟

- (۱) سلول‌های گالوانی نوع اول هستند.
- (۲) کاتد از جنس گرافیت و آند از جنس پلاتین است.
- (۳) الکترولیت آن‌ها ، محلول پتاسیم هیدروکسید است.
- (۴) از آن‌ها برای تأمین آب آشامیدنی و برق فضا پیمها استفاده می‌شود.

(ریاضی ۹۱)

۱۴- کدام مطلب درباره‌ی سلول‌های سوختی درست است؟

- (۱) نوعی سلول الکترولیتی‌اند که آند و کاتد در آن‌ها می‌تواند از جنس گرافیت منفذدار باشد.
- (۲) واکنش آندی در آن‌ها ، اکسایش گاز  $H_2$  و واکنش کاتدی ، کاهش آب است.
- (۳) الکترولیت به کار رفته در آن‌ها می‌تواند از نوع محلول پتاسیم هیدروکسید باشد.
- (۴) جریان الکترون در مدار بیرونی آن‌ها ، با حرکت آنیون‌ها در الکترولیت همسو است.



(سنجش ۹۴)

۱۵- کدام مطلب درست است؟

- (۱) قطب منفی در سلول‌های گالوانی آند است و در آن نیم واکنش اکسایش انجام می‌گیرد.
- (۲) در واکنش تجزیه‌ی هیدروژن پراکسید، اکسیژن اکسید می‌شود و هیدروژن کاهش می‌یابد.
- (۳) در سلول‌آی الکترولیتی، قطب مثبت آند است و با انجام واکنش، بر جرم آن افزوده می‌شود.
- (۴) واکنش سدیم اکسید با آب، از نوع اکسایش - کاهش است و در آن سدیم عامل کاهنده است.

۱۶- کدام نیم‌واکنش زیر نادرست است؟

- (۱) نیم واکنش آندی در برقکافت محلول بسیار غلیظ KF در آب:  $2F^- \rightarrow F_2 + 2e^-$
- (۲) نیم‌واکنش آندی در برقکافت محلول  $0.1 \text{ mol} \cdot L^{-1}$  سولفوریک اسید:  $2H_2O \rightarrow O_2 + 4H^+ + 4e^-$
- (۳) نیم واکنش کاتدی در فرآیند هال:  $Al^{3+} + 3e^- \rightarrow Al$
- (۴) نیم واکنش کاتدی در سلول سوختی هیدروژن:  $O_2(g) + 4H^+(aq) + 4e^- \rightarrow 2H_2O$

(سراسری ریاضی ۹۴)

۱۷- چند مورد از مطالب زیر درست‌اند؟

- (ا) در آبکاری با نقره بر سطح یک جسم فلزی، نقره در آند اکسید می‌شود.
  - (ب) در برقکافت نمک خوراکی مذاب، شمار مول‌های فراورده‌ها در کاتد، در برابر آند است.
  - (پ) نیم واکنش آندی، در سلول سوختی هیدروژن - اکسیژن به صورت  $2H_2O(l) \rightarrow 4H^+(aq) + O_2 + 4e^-$
  - (ت) به ازای تولید هر مول آلومینیوم در فرآیند هال،  $16/8$  لیتر گاز در شرایط STP تولید می‌شود.
- (۱) ۱      (۲) ۲      (۳) ۳      (۴) ۴

۱۸- کدام مطلب درست است؟

- (۱) قدرت اکسندگی کاتیون‌های آهن، قلع و روی به صورت  $Zn^{2+}(aq) > Fe^{2+}(aq) > Sn^{2+}(aq)$  است.
- (۲) برای پوشاندن سطح یک قطعه فلز M با فلز M' به کمک یک سلول الکترولیتی، فلز M را باید در قطب مثبت این سلول قرار دارد.
- (۳) در فرآیند زنگ زدن آهن، در محل خراشیدگی حلبی در هوای مرطوب، آب نقش رسانای یونی را در سلول گالوانی تشکیل شده، دارد.
- (۴) هر گاه دو قطعه از فلزهای آلومینیوم و مس به هم متصل و در هوای مرطوب قرار گیرند، مس نقش آند را خواهد داشت.

۱۹- کدام مطلب درست است؟ ( $E^\ominus$  الکترودهای Ag, Cd, Cr به ترتیب برابر  $0.80$ ,  $-0.40$ ,  $-0.74$  ولت است) (سنجش ۹۳)

- (۱)  $E^\ominus$  سلول گالوانی کروم - نقره، حدود  $1/28$  برابر  $E^\ominus$  سلول کادمیم - نقره است.
- (۲) در نیم واکنش تبدیل  $Cr_2O_7^{2-}(aq)$  به  $Cr^{3+}(aq)$  در محیط اسیدی، سه الکترون مبادله می‌شود.
- (۳)  $E^\ominus$  سلول گالوانی کروم - کادمیم، برابر  $0.33$  ولت و الکتروود کروم در آن قطب مثبت است.
- (۴) کاتیون  $Cr^{3+}(aq)$ ، اکسندتر از کاتیون  $Ag^+(aq)$  است.

۲۰- در برقکافت کدام الکترولیت‌های زیر در شرایط یکسان، تنها در آند فرآورده‌ی گازی تولید می‌شود؟

- a : محلول غلیظ NaCl      b : محلول رقیق NaCl      c : محلول آبی  $CuI_2$
- d : محلول آبی  $AgNO_3$       e : محلول آلومین در کریولیت مذاب
- (۱) a, b, d      (۲) a, c, e      (۳) e, d      (۴) b, c





۲۶- اگر میزان تغییر pH مربوط به برقکافت محلول‌های یک لیتری سدیم کلرید غلیظ و مس (II) سولفات با هم برابر باشد، نسبت حجم گاز تولید شده در فرآیند برقکافت محلول سدیم کلرید غلیظ به حجم گاز تولید شده در فرآیند برقکافت محلول مس (II) سولفات کدام است؟

(۱) ۰/۲۵      (۲) ۰/۵      (۳) ۲      (۴) ۴

۲۷- اگر بر اثر برقکافت کامل مقدار معینی محلول نقره نیترات،  $1/92$  گرم گاز تولید شود، محلول حاصل از برقکافت با چند گرم فلز روی با خلوص ۴۰٪ واکنش می‌دهد؟ (ناخالصی‌ها در واکنش شرکت نمی‌کنند.) ( $Zn = 65 \text{ g} \cdot \text{mol}^{-1}$ )

(۱) ۹۷/۵      (۲) ۷۸      (۳) ۳۹      (۴) ۱۹/۵

۲۸- اگر بر اثر برقکافت کلرید مذاب فلز M،  $2240$  میلی لیتر گاز کلر در آند و  $4$  گرم فلز M در کاتد تولید شود، فرمول کلرید این فلز کدام است؟ (جرم مولی M برابر  $40 \text{ g} \cdot \text{mol}^{-1}$  است)

(۱)  $\text{MCl}$       (۲)  $\text{MCl}_2$       (۳)  $\text{MCl}_3$       (۴)  $\text{MCl}_4$

۲۹- در دو ظرف جداگانه، محلول‌های NaCl غلیظ و  $\text{HNO}_3$  را برقکافت می‌کنیم. اگر مقدار جریان عبور داده شده در این دو ظرف یکسان باشد، حجم گاز تولید شده در محلول اول چند برابر محلول دوم است؟

(۱)  $\frac{4}{3}$       (۲) ۱      (۳)  $\frac{2}{3}$       (۴) ۲

۳۰- در دو ظرف جداگانه، محلول‌های KBr و  $\text{CuSO}_4$  را برقکافت می‌کنیم. اگر مقدار جریان عبور داده شده در این ظرف یکسان باشد، حجم گاز تولید شده در محلول اول چند برابر محلول دوم است؟

(۱)  $\frac{1}{16}$       (۲) ۲      (۳)  $\frac{1}{8}$       (۴) ۱